



***TRAFİK VE ÇEVRE
BİLGİSİ***

OKUL TAŞITLARI



OKUL TAŞITI

DUR

MASTER

MASTER

RENAULT




DUR İşareti İnip Binme
Sırasında Yakılır.

**Her Koltukta Emniyet Kemeri
Camlar Sabit Olmalıdır
Rehber Öğretmen Veya Yardımcı
Kişi Bulundurulur**



TRAFİK VE ÇEVRE
BİLGİSİ
YAYA VE OKUL GEÇİTLERİ



Polis veya ışıklı trafik işaretleri bulunmayan, ancak trafik işareti ile belirlenmiş olan yaya ve okul geçitlerine yaklaşan sürücüler:

Araçlarını yavaşlatmak

Yayalara ilk geçiş hakkını vermek

Varsa okul geçidi görevlilerinin

işaret ve talimatlarına uymak

ZORUNDADIRLAR



**Aşağıdakilerden Hangisi, Yaya
Ve Okul Geçitlerine Yaklaşan
Sürücünün Uyacağı Kurallardan
Biri Değildir?**

- A)Aracın Hızını Azaltmak**
- B)Aracın Hızını Artırmak**
- C)ilk Geçiş Hakkını Yayalara
Vermek**
- D)Okul Geçidi Görevlisinin
Talimatlarına Uymak**





TRAFİK VE ÇEVRE BİLGİSİ

DEMİRYOLU GEÇİTLERİ



Demiryolu geçitlerinde: Geçidin durumuna uygun olan hızla geçilmesi Işıklı veya sesli **“DUR”** talimatına uyulması Taşıt yolu üzerinde tam veya yarım bariyer varken geçide girilmemesi Kontrolsüz geçitlerde, uygun bir uzaklıkta durularak demiryolu aracının yaklaşmadığından emin olunduktan sonra geçilmesi...**ZORUNLUDUR**




Kontrollü demiryolu geçidinde;Demiryolu geçidine yaklaşan bütün sürücülerin hızlarını azaltmaları,Işıklı veya sesli talimatın vereceği DUR emrinde durmaları,Taşıt yolu üzerine indirilmiş ve ya indirilmekte olan tam veya yarım bariyerler varken geçide girmemeleri,Geçit açılınca, geçidin durumuna uygun bir hızla geçmeleri, zorunludur.

İNDİRME - BİNDİRME VE KAPILARIN AÇILMASI KURALLARI SÜRÜCÜLER

Araçlarını, gidiş yönüne göre yolun en sağ kenarında durdurmak, Yolcularını sağ kapıdan indirmek ve bindirmek, zorundadır.

YOLCULAR;

Araçların sağ kapılarından inmeleri ve binmeleri zorunludur.



Bir tehlike ve engel olmayacağından emin olunmadıkça

- **Araç durmadan kapı açılmaz**
- **Kapıların kapanmasını beklemeden hareket edilmez**
- **Durakladıktan sonra aracın sağ kontrol edilmeden kapı açılmaz, inme-binme yapılmaz**
- **Taşıt yolu üzerinde Araçların sol kapılarından yolcu indirip bindirmek yasaktır**



TRAFİK VE ÇEVRE BİLGİSİ

**ARAÇLARIN YÜKLENME
KURALLARI**

Ünite. 2

Trafik Mevzuatı

Araçların Boyutları,
Yük Ve Yolcu Taşıma
Kuralları

Konu.18



Yükler önden 1, arkadan 2 m.'yi geçemez.



Yük üzerinde yolcu taşınması yasaktır.

Yükle birlikte yolcu taşınmasında aşağıdaki esaslara uyulması zorunludur;

- Yüklerin sağlam olarak yerleştirilmiş ve bağlanmış olması,
- Kasanın yan ve arka kapaklarının kapalı olması,
- Yolcuların kasa içinde ayrılacak bir yerde oturtulması halinde yükle birlikte insan taşınabilir.
- Yüklerin üzerinde insan taşınması, yasaktır.



**Yükler düşmeyecek şekilde
bağlanmalıdır.**





TEHLİKELİ MADDELERİN TAŞINMASI



Tehlikeli madde taşıyan araçlarla ilgili kurallar:

- Tehlikeli maddelerin yüklenmesi ve boşaltılması sırasında, buldukları yere **30 m** mesafe içinde sigara ve benzeri alev ve kıvılcım çıkaran şeylerle yaklaşılmaz
- Aracın içine **6** voltu geçmeyen pilli fener dışında aydınlatma cihazları ile girilmez

Tehlikeli madde taşıyan araçlarla ilgili kurallar:

- **Akaryakıt taşıyan araçlar dolu iken hızları ayrı boş iken ayrıdır**
- **Doldurma kapasitesi **6 Kg olan 2** adet yangın söndürme cihazı bulundurulur, birisi hemen sürücünün yanında diğeri kolayca erişilebilecek ve görülebilecek yere konur**
- **Bu araçlarda sürücü dışında mal sahibi ve hizmetli dışında kimse binemez ve seyahat edemez**
- **Bu araçlara başka yük alınamaz**
- **Bu araçlar park etme ve duraklama halinde sürücü, hizmetli veya bir bekçinin gözetiminde bulundurulur**
- **Bu araçları sürenler yerleşim yerleri dışındaki karayollarında diğeri araçları en az **50m** mesafeden takip edeceklerdir**

ARAÇLARIN YÜKLENMESİ KURALLARI

- A) Yükün cinsi, şekli, yeri ve özellikleri bakımından, trafik güvenliğini ve yol kapasitesini azaltacak, karayolu yapısına ve karayolunu kullananlara, mülklere zarar verecek tarzda yüklenmesi,**
- b) Taşıma sınırı üstünde yük ve yolcu taşınması,**
- c) Tehlikeli ve zararlı maddelerin şartlarına uyulmadan, gerekli izin ve önlemler alınmadan taşınması,**

d) Ağırlık ve boyutları bakımından taşınması özel izne bağlı yüklerin izin alınmadan taşınması, yüklenmesi, yük üzerinde veya araç dışında yolcu taşınması,

f) Yükün;

1. Karayoluna deęecek, düşecek, dökülecek, saçılacak, akacak veya kayacak, gürültü çıkaracak,

2. Her çeşit yolda dengeyi bozacak, bir şeye takılacak veya sivri çıkıntılar oluşturacak,

3.Sürücülerin görüşüne engel olacak veya sürme güvenliğini bozacak,

4.Tescil plakaları, ayırım işaretleri, dönüş ve dur ışıkları ile yansıtıcıları örtecek,

5.Aracın boyunu önden 1 metre, arkadan 2 metre aşacak,

6.Kasanın sağ ve sol yanından taşacak, Şekilde yüklenmesi,

7.Çeken ve çekilen araçlarla ilgili şartlar yerine getirilmeden araçların çekilmesi, YASAKTIR.

Ünite. 2

Trafik Mevzuatı

Sürücülerin Ve Yolcuların
Koruyucu Tertibat
Kullanma Mecburiyeti

Konu.20

21

SÜRÜCÜ VE YOLCULARIN KORUYUCU TERTİBAT KULLANMA MECBURİYETİ , ARAÇTA BULUNMASI GEREKEN TEÇHİZAT




a) Motorlu bisiklet ve motosikletlerde sürücülerin koruma başlığı ve koruma gözlüğü, yolcuların ise koruma başlığı (3 tekerlekli yük motosikletleri hariç)



b) Otomobillerin otomobil sınıfına giren arazi taşıtlarının kamyon, kamyonet ve çekicilerin minibüs ve otobüslerin bütün koltuklarında emniyet kemeri bulundurulması ve kullanılması zorunludur.



Koltuk başlığı



Emniyet Kemerini

- Otomobil ve otomobil gibi tescil gören araçlarda Sürücü ve yolcu olarak bulunanlar,
 - Minibüslerde sürücü ve ön koltukta oturanlar
 - Kamyon, kamyonet ve çekicilerde sürücü ve sürücü yanındaki koltuklarda
- EMNİYET KEMERİ** kullanmak zorundadırlar



Seyir esnasında araçlarda emniyet kemeri kullanılması, aşağıdakilerden hangisinin azalmasında etkili olur?

- A) Trafik kazalarının**
- B) Trafik işaret levhalarının**
- C) Trafikteki görevli sayısının**
- D) Kaza anında ölüm ve yaralanmaların**



Aşağıdakilerden hangisi, kaza anında ölüm ve yaralanmaları en aza indirmek amacıyla sürücü ve yolcular tarafından kullanılır?

- A) Polen filtresi**
- B) Park sensörü**
- C) Emniyet kemeri**
- A) Açılabilir tavan**



Kaza anında araç dışına fırlama riskini azaltmak için araçlarda bulunan güvenlik sistemi aşağıdakilerden hangisidir?

1-ASR

2-ABS

3-Emniyet kemeri

4-Hava yastığı



Araçların ön koltuklarında oturanların bir kaza sırasında boyun hasarı görmemeleri için **koltuk başlığı** bulundurulmalıdır



Otomobil ve onun gibi tescil gören arazi taşıtlarının ön koltuklarda 10 yaşından küçük çocukların taşınması Yasaktır.




Hava yastığı bulunan araçlarda yastıkların bir kaza sırasında kolay açılmasını sağlayacak önlemler alınmalıdır.



**BİSİKLET,
MOTORSİKLET,
YAYALAR,
HAYVAN SÜRÜCÜLERİ
İLE İLGİLİ KURALLAR
,YARIŞLAR VE KOŞULAR**

BİSİKLET, MOTORLU BİSİKLET, MOTOSİKLET SÜRÜCÜLERİ İLE İLGİLİ KURALLAR

- 1) Yaya yollarında sürülmesi,
- 2) Ayrı bir bisiklet yolu olduğu halde, bisiklet ve motorlu bisikletlerin taşıt yollarında sürülmesi,
- 3) İki kiden fazlasının taşıt yolunun bir şeridinden yan yana sürülmesi, **YASAKTIR**



4) Bunlara, sürücü arkasında yeterli bir oturma yeri olmadıkça başka kişilerin bindirilmesi,

5) Bu araçlarla, diğer araçlar izlenirken, geçilirken, manevra yapılırken; karayolunu kullananların hareketini zorlaştırıcı, tehlike doğurucu davranışlarda bulunulması,

6) İzin alınarak yapılan gösteriler dışında, bu araçlar üzerinde akrobatik hareketler yapılması,

YASAKTIR

7) Bunların, başka bir araca bağlanarak asılıp tutunarak sürülmesi yasaktır.

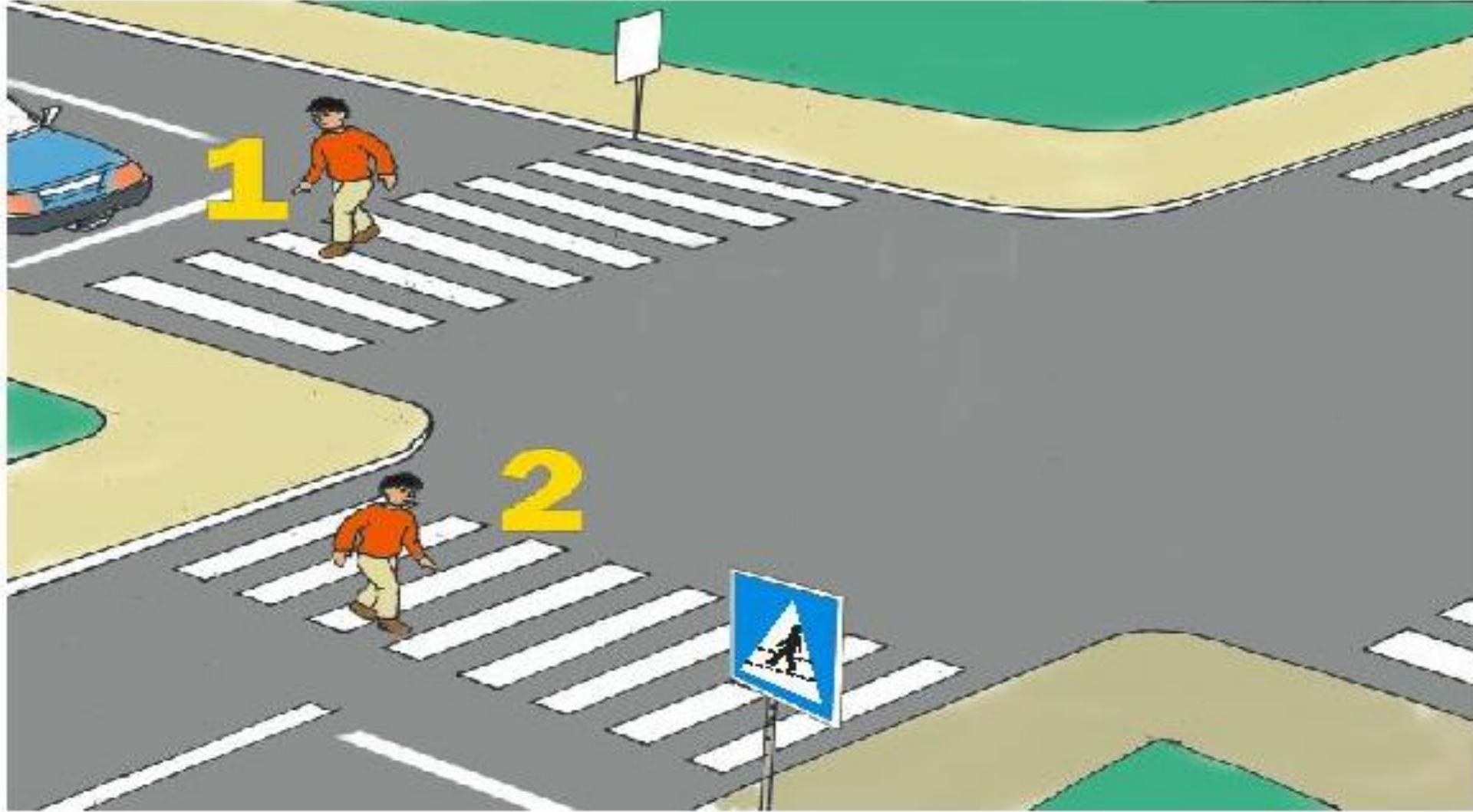
8) Sürülmeleri sırasında; elde bagaj, paket ve benzeri eşyaların taşınması, kurallara aykırı yük yüklenmesi yasaktır.

Motosikletin sürülmesi sırasında aşağıdakilerden hangisinin kullanılması, olası bir kaza anında kafa yaralanmalarının sayısını ve şiddetini önemli ölçüde azaltır?


- A) Kask**
- B) Eldiven**
- C) Yansıtıcı giysi**
- D) Dayanıklı bot**



“ASLA APRAZ GEMEYİNİZ”




“ASLA APRAZ GEMEYİNİZ”



“ÜST GEÇİTLERİ KULLANMALIYIZ”



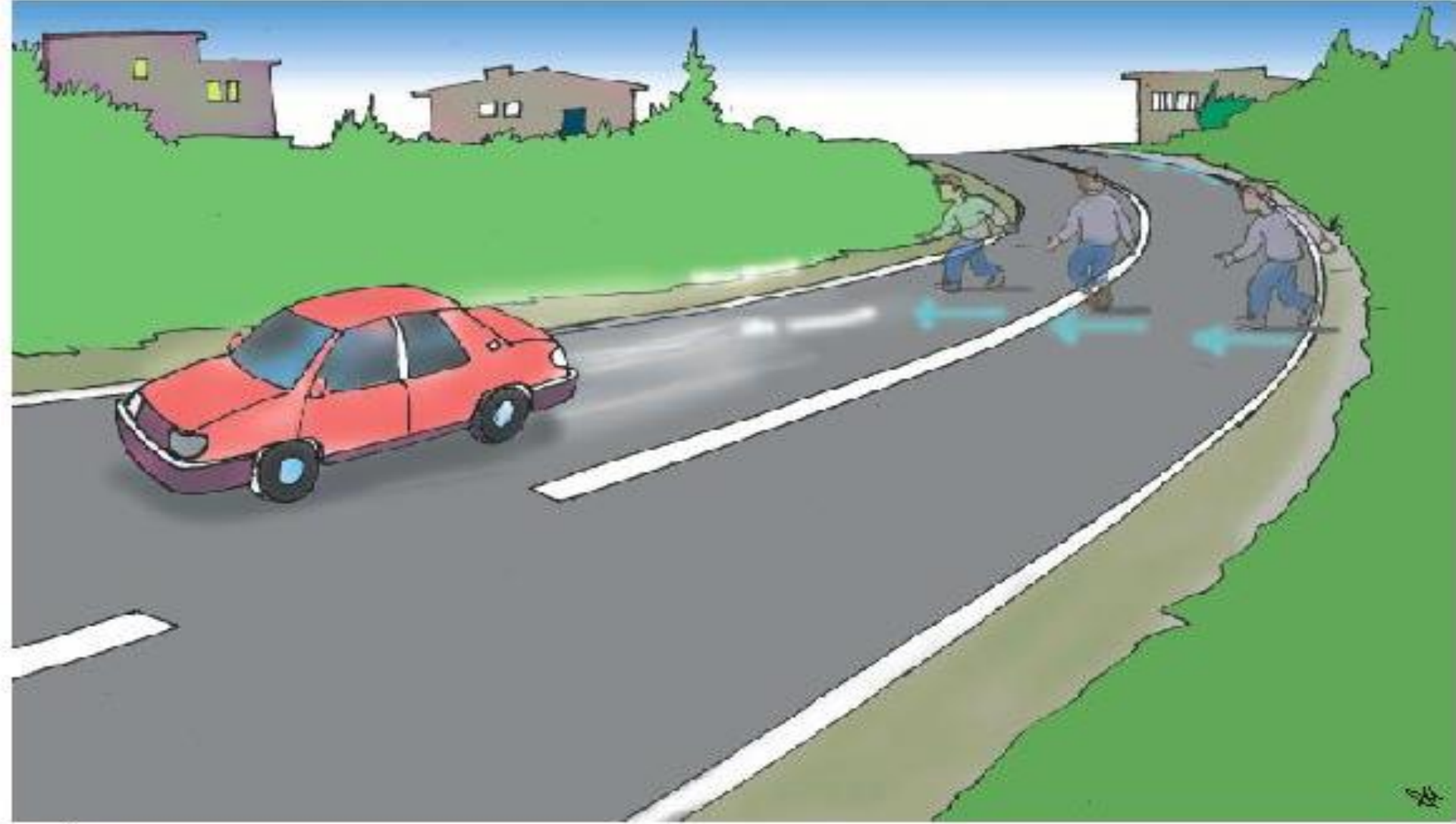
**ARAÇLAR UZAK OLABİLİR
ANCAK HIZLI GELİYORLARSA!..**




PARKA ETMİŞ ARAÇLARIN ARASINDAN DİĞER TAŞITLARI GÖRMEK ZORDUR



**YETERSİZ GÖRÜŞÜN VARSA,
DİKKAT ET !**



**SİZE YEŞİL IŞIK YANMIŞ OLSA DA
ARAÇLARA DİKKAT EDİNİZ !**



Trafik Kazaları

Ülkemizin en önemli sorunlarının başında trafik kazaları ve bu kazalardaki ölüm ve yaralanmalar gelmektedir. sürücülerin trafik kazalarındaki pay oranı **%95** gibi büyük bir orana sahiptir.

TRAFİK KAZALARININ BAŞLICA NEDENLERİ;

Aşırı hız

Hatalı sollama

Kırmızı ışık ihlali

Alkollü araç sürme

Uykusuz ve yorgun araç sürme

Kavşaklarda geçiş hakkı kuralına

uymama

Takip mesafesine uymama

Dönüş lambalarını kullanmama gibi

nedenler olarak sıralanabilir.

Trafik Kazalarına Karışanların Sorumlulukları

Trafik kazalarına karışanlar;

1) Hareket halinde iseler trafik için ek bir tehlike yaratmayacak şekilde hemen durmak, kaza mahalinde trafik güvenliği için gereken tedbirleri almak,

2) Kazada ölen, yaralanan veya maddi hasar var ise bu kaza trafiđi, can ve mal güvenliđini etkilemiyorsa sorumluluđun saptanmasında yararlı olacak kanıt ve izler dahil, kaza yerindeki durumu deđiřtirmemek.

3) Kazaya karışan kişiler tarafından istendiđi takdirde kimliđini, adresini, sürücü ve trafik belgesi ile sigorta poliçe tarih ve numarasını bildirmek ve göstermek,

4) Kazayı, yetkili ve görevli memurlara bildirmek, bunlar gelinceye kadar veya bunların iznini almadan kaza yerinden ayrılmamak zorundadırlar.

ARAÇLARIN TESCİL PLAKALARI TESCİL EDİLEN ARAÇLARA PLAKA VERİLİR

**Motorlu bisiklet ve motosikletlerde arka
çamurluk üzerine bir adet**

**Römork veya yarı römorklarda arkada bir
adet**

**Yük motosikletleri ve diğer motorlu
araçlarda ön ve arkada birer adet
bulundurulur.**

**HURDAYA ÇIKARILAN ARAÇLAR BİR AY
İÇİNDE TESCİL KURULUŞUNA
BİLDİRİLİR.**

ARAÇLARIN MUAYENELERİ;

**Karayolları Genel Müdürlüğü Veya Bu Kurum
Tarafından Yetki Verilmiş Gerçek Veya Tüzel
Kişilerin Tam Donanımlı İstasyonlarında
Yapılabilir**

**Araçların Muayene Süresi Dolmasa Bile Kazaya
Karışması Sonucunda Muayenesi Gerekli
Görülenler İle ; Üzerinde Proje Tadilatı
Yapılması Durumunda Muayene Zorunludur.**

**Karayoluna Çıkmış Araçların Teknik Şartlara
Uyup Uymadıkları Trafik Zabıtasınca Kontrolleri
Sonucunda Muayeneye Sevk Edilebilirler.**

0003

BAŞBAKAN, BAKANLAR, KUVVET KOMUTANLARI
YÜKSEK YARGI ORGANLARI BAŞKANLARI, DİYANET İŞLERİ
BAŞKANI EMİRLERİNE VE ZATLARINA TAHSİS EDİLEN
ARAÇ PLAKALARI

06 0001

İL VALİLİKLERİNİN MAKAM ARAÇLARINA
TAHSİS EDİLEN ARAÇ PLAKALARI

0003

BAŞBAKANLIK, BAKANLIK MÜSTEŞARLARI İLE EMNİYET
GENEL MÜDÜRLÜĞÜNÜN MAKAM VE HİZMETLERİNE TAHSİS
EDİLEN ARAÇ PLAKALARI

06 AA 001

ÜNİVERSİTE REKTÖRLERİ, ANKARA-İST., İZMİR
EMNİYET MÜDÜRLERİ İLE KAYMAKAMLARIN MAKAM
HİZMETLERİNE TAHSİS EDİLEN ARAÇ PLAKALARI

TR 06 MA 372

ARIL İKAMİTOAHLARI YABANCI MEMLEKETTE
BULUNAN VE TÜRKİYE'YE GİRİŞİ VE BELLİ BİR SÜRE
İÇİN GİLEN KİŞİLERE VERİLEN ARAÇ PLAKALARI

06 B 6372

ARIL İKAMİTOAHLARI YABANCI MEMLEKETTE
BULUNAN VE TÜRKİYE'YE GİRİŞİ VE BELLİ BİR SÜRE
İÇİN GİLEN KİŞİLERE VERİLEN ARAÇ PLAKALARI

06 CA 637

DİPLOMATİK HÜVYETİ HAİZ YABANCI
KONSOLOSLARA VERİLEN ARAÇ PLAKALARI

06 CA 637

DİPLOMATİK HÜVYETİ HAİZ
BÜYÜK ELÇİLİKLERDE GÖREVLİ KİŞİLERİN
ARAÇLARINA VERİLEN PLAKALAR

06 A 1108

EMNİYET ARAÇLARINA
VERİLEN PLAKALAR

06 AA 108

EMNİYET ARAÇLARINA
VERİLEN PLAKALAR

06 AAA 18

EMNİYET ARAÇLARINA
VERİLEN PLAKALAR

06 L 1235

RESMİ ARAÇ PLAKALARI

06 KC 055

RESMİ ARAÇ PLAKALARI

06 AJR 17

RESMİ ARAÇ PLAKALARI

TR 06 EEA 34

RESMİ OLMAYAN ARAÇLARA
VERİLEN PLAKALAR

TR 06 EM 138

RESMİ OLMAYAN ARAÇLARA
VERİLEN PLAKALAR

TR 06 N 1453

RESMİ OLMAYAN ARAÇLARA
VERİLEN PLAKALAR

39 AKARSU 001

AD, SOYAD VEYA TİCARİ ÖNVANA GÖRE
VERİLEN ARAÇ PLAKALARI

AKARSU A.Ş.

39 - 001

AD, SOYAD VEYA TİCARİ ÖNVANA GÖRE
VERİLEN ARAÇ PLAKALARI

39
001 AKARSU A.Ş.

AD, SOYAD VEYA TİCARİ ÖNVANA GÖRE
VERİLEN ARAÇ PLAKALARI

39 MEHMET
AKARSU 001

AD, SOYAD VEYA TİCARİ ÖNVANA GÖRE
VERİLEN ARAÇ PLAKALARI



06 TL 354

BEDENSEL ÖZÜRLÜLERE AIT
ÖZEL TERTİBATLI ARAÇ PLAKALARI



06 M 3821

BEDENSEL ÖZÜRLÜLERE AIT
ÖZEL TERTİBATLI ARAÇ PLAKALARI



06 AYS 55

BEDENSEL ÖZÜRLÜLERE AIT
ÖZEL TERTİBATLI ARAÇ PLAKALARI

GMR 151

GÖMRÜK PLAKALARI

06 G 3549

OBİÇİ PLAKALAR

06 T 3550

TECRÜBE İÇİN OBİÇİ PLAKALARI

TR

TÜRKİYE'DEN ULUSLAR ARASI
TRAFİKTEKİ RUMUZU

ARAÇLARIN MUAYENE SÜRELERİ

ARAÇLAR, AŞAĞIDAKİ SÜRELERDE MUAYENELERE YAPILMADAN TRAFİĞE ÇIKAMAZLAR

HUSUSİ
OTOMOBİLLER
VE BUNLARIN
RÖMORKLARI

İLK ÜÇ YAŞ
SONUNDA VE
DEVAMINDA İKİ
YILDA BİR

RESMİ VE TRİCARİ
PLAKALI OTOMOBİLLER
VE RÖMORKLARI

İLK İKİ YAŞ
SONUNDA VE
DEVAMINDA
YILDA BİR

LASTİK TEKERLEKLİ
TRAKTÖRLER VE
RÖMORKLARI

İLK ÜÇ YAŞ
SONUNDA VE
DEVAMINDA ÜÇ
YILDA BİR

DİĞER BÜTÜN
MOTORLU ARAÇLAR
İLE BUNLARIN
RÖMORKLARI

İLK BİR YAŞ
SONUNDA VE
DEVAMINDA
YILDA BİR

ARAÇLARIN TESCİLİ

TRAFİĞE ÇIKAN ARAÇLARIN TESCİL MECBURİYETİ BULUNMAKTADIR.

TESCİL İŞLEMLERİ

YÜKLÜ AĞIRLIĞI
750 KG'IN ÜZERİNDE
OLAN BÜTÜN ARAÇLAR

TRAFİK TESCİL
KURULUŞLARINCA

ASKERİ ARAÇLAR

TÜRK
SİLAHLI
KUVVETLERİ'NCE,

RESMİ KURUMLARA
AİT İŞ MAKİNELERİ

AİT OLDUKLARI
KURULUŞLARCA

ZİRAİ İŞ MAKİNELERİ

ZİRAAT
ODALARINCA

SANAYİ , BAYINDIRLIK
VE DİĞER AMAÇLI
ÖZEL KURULUŞRANI
İŞ MAKİNELERİ

.SANAYİ ODALARI,
.TİCARET ODALARI
.SANAYİ VE TİCARET
ODALARINCA

RAYLI ARAÇLAR

KULLANILDIĞI
YERLERE GÖRE
AİT OLDUĞU
KURULUŞLARCA

MOTORSUZ ARAÇLARDAN
GEREKLİ GÖRÜLENLER

İL TRAFİK
KOMİSYONUNDAN İZİN
ALINMAK KOŞULU İLE
YEREL
BELEDİYELERCE



TRAFİK ve ÇEVRE
BİLGİSİ
SÜRÜCÜ BELGELERİ
VE ŞARTLARI

SNF	YETKİ	YAŞ	TECRÜBE	KAPSAM	SÜRE
M	MOTORLUBİSİKLET	16	-----	-----	10 YIL
A1	125 cc'ye KADAR MOTOSİKLET	16	-----	-----	10 YIL
A2	35 kw'yi GEÇMEYEN MOTOSİKLET	18	-----	M - A1	10 YIL
A	35 kw'yi GEÇEN MOTOSİKLET	20	2 YILLIK A2	M - A1 - A2	10 YIL
B1	4 TEKERLİ MOTOSİKLET	16	-----	M	10 YIL
B	OTOMOBİL ve KAMYONET	18	-----	M - B1 - F	10 YIL
BE	RÖMORKLU OTOMOBİL ve KAMYONET	18	B	M - B - B1 - F	10 YIL
C1	7500 kg'a KADAR KAMYON ve ÇEKİCİ	18	B	M - B - B1 - F	5 YIL
C1E	12000 kg'a KADAR KAMYON ve ÇEKİCİ	18	C1	M - B - BE - B1 - C1 - F	5 YIL
C	KAMYON ve ÇEKİCİ	21	B	M - B - B1 - C1 - F	5 YIL
CE	RÖMORKLU KAMYON ve ÇEKİCİ	21	C	M - B - BE - B1 - C - C1 - C1E - F	5 YIL
D1	MİNÜBÜS	21	B	M - B - B1 - F	5 YIL
D1E	RÖMORKLU MİNİBÜS	21	D1	M - B - BE - B1 - D1 - F	5 YIL
D	MİNİBÜS ve OTOBÜS	24	B	M - B - B1 - B - D1 - F	5 YIL
DE	RÖMORKLU MİNİBÜS ve OTOBÜS	24	D	M - B - BE - B1 - D - D1 - D1E - F	5 YIL
F	LASTİK TEKERLEKLİ TRAKTÖR	18	-----	M	10 YIL
G	İŞ MAKİNESİ	18	-----	M	10 YIL

➤ **Sürücüler İkamet adresi değişikliklerini 30 gün içerisinde kayıtlı oldukları tescil kuruluşuna bildirmek zorundadır.**

➤ **Bir gözü görmeyen kişiler A1 , A2 , B ve F sınıfı belge alabilirler . Ticari araç kullanamazlar.**
Her yıl göz hekiminden rapor alırlar. Gece araç kullanamazlar.

➤ **Renk körlüğü olanlar sürücü olabilirler.**

➤ **Gece körlüğü(tavuk karası)olanlar ehliyet alabilir.**

➤ **İşitme cihazı kullananlar B sınıfı belge alırlar.İşitme ve**

Konuşma engellilere H sınıfı belge verilir

SRC BELGESİ

- **Taşıma kanununa göre eşya taşımacılığında kullanılan her türlü kamyon , kamyonet , çekici vb. araçları kullanan sürücüler (şehir içi taşımalar hariç olmak üzere) ;**
- **Yolcu taşımada kullanılan otobüs , minibüs ve otomobil sürücüleri ;**

**SRC (mesleki yeterlilik belgesi)
BELGESİ almak zorundadır.**

KAZAYA NEDEN OLAN UNSURLAR SÜRÜCÜ, YAYA, YOLCU, TAŞIT, YOL

SÜRÜCÜLERİN KUSURLU SAYILAN DAVRANIŞLARI

- . IŞIKLARA, İŞARET LEVHALARINA VE YETKİLİLERİN TALİMATLARINA UYMAMAK
- . BÖLÜNÜMÜŞ KARAYOLUNDA KARŞI YÖNDEN GELEN ARAÇLARA AYRILMIŞ VEYA "TAŞIT GİREMEZ" İŞARETİ OLAN YOLLARA GİRMEK
- . KARŞI YÖNDEN GELEN ARAÇLARA AİT ŞERİT VEYA YOL BÖLÜMÜNE GİRMEK
- . ARKADAN ÇARPMAK
- . GEÇME YASAĞINI İHLAL ETMEK
- . DOĞRULTU DEĞİŞTİRME MANEVRALARINI YANLIŞ YAPMAK
- . ŞERİDE TECAVÜZ ETMEK
- . İLK GEÇİŞ HAKKINI VERMEMEK
- . DAR YOLLARDA GEÇİŞ ÖNCELİĞİNE UYMAMAK
- . MANEVRA KURALLARINA UYMAMAK
- . ŞEHİRDİŞİ TAŞIT YOLUNA PAR ETMEK
- . KURALLARA UYGUN PARK ETMİŞ ARAÇLARA ÇARPMAK

YAYALARIN KUSURLU SAYILAN DAVRANIŞLARI

- . YOLA ANİDEN ÇIKMAK
- . İLK GEÇİŞ HAKKINI VERMEMEK
- . TAŞITIN ÖN VE ARKASINDAN
ÇIKMAK
- . YOLDA OYNAMAK
- . YOLDA SARHOŞ OLMAK
- . KIRMIZIDA GEÇMEK
- . TAŞITA ASILMAK
- . YAYANIN OTOYOLA GİRMESİ

ARAÇLARA AİT SAYILAN KUSURLAR

- . KUSURLU FREN
- . KUSURLU ROT
- . KUSURLU TEKERLEK
- . ŞAFT KIRILMASI
- . KUSURLU IŞIK DONANIMI
- . KUSURLU KAPI
- . LASTİK PATLAMASI
- . AKS KIRILMASI

YOLLARA VERİLEN NUMARALAR

E-87

ULUSLAR ARASI YOLLAR

D-817

DEVLET KARAYOLLARI

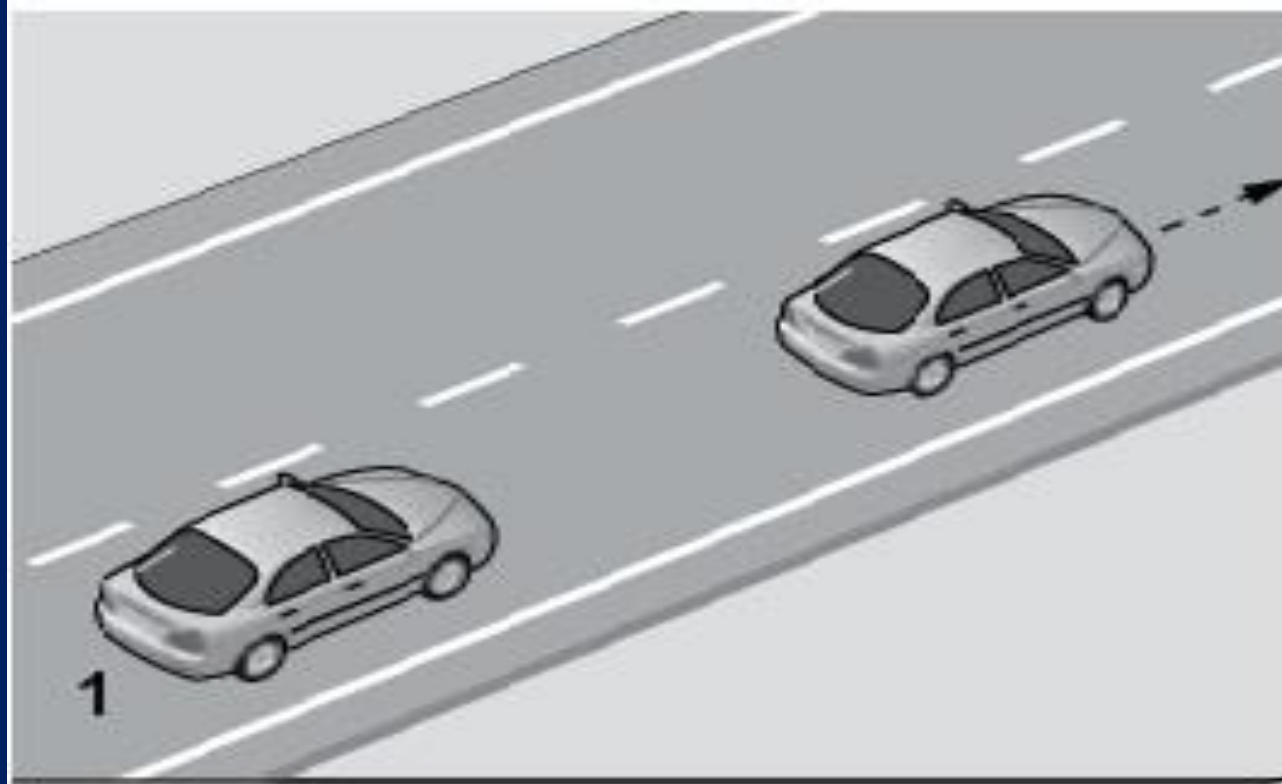
O-20

OTOYOLLAR

Şekildeki 1 numaralı aracın saatteki hızı **70** kilometredir.

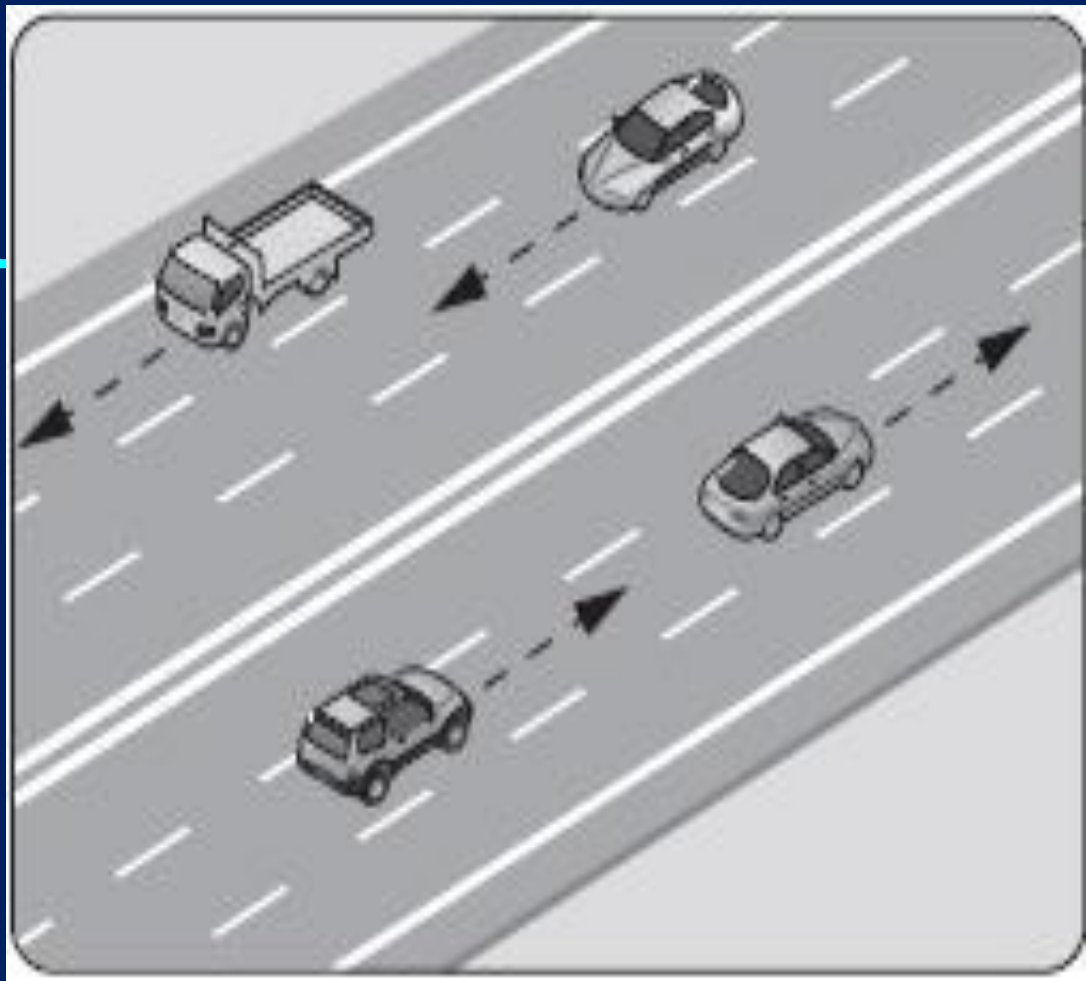
Takip mesafesi, saatteki hızın en az yarısı kadar metre olduğuna göre; 1 numaralı araç ile önündeki araç arasında en az kaç metre olmalıdır?

- A) 35
- B) 50
- C) 70
- D) 140



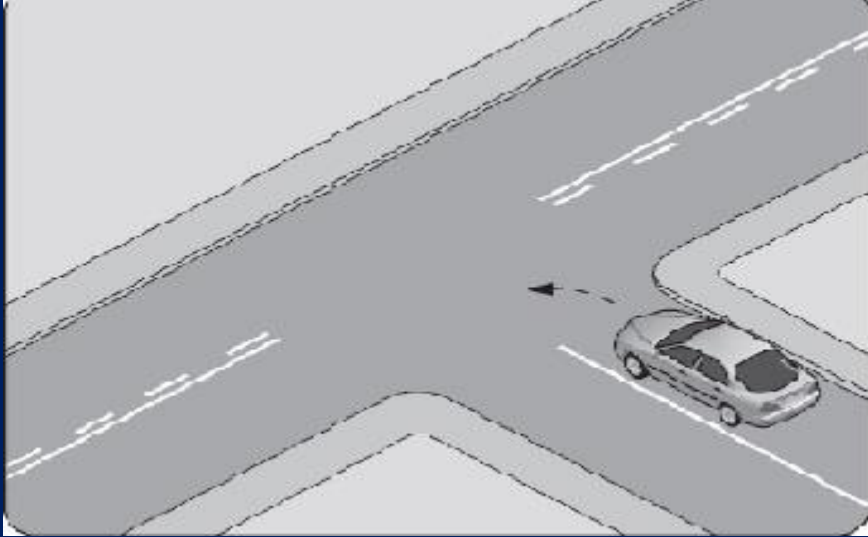
Şekildeki kara yoluna ne ad verilir?

- A) Tali yol
- B) Geçiş yolu
- C) Bağlantı yolu
- D) Bölünmüş yol



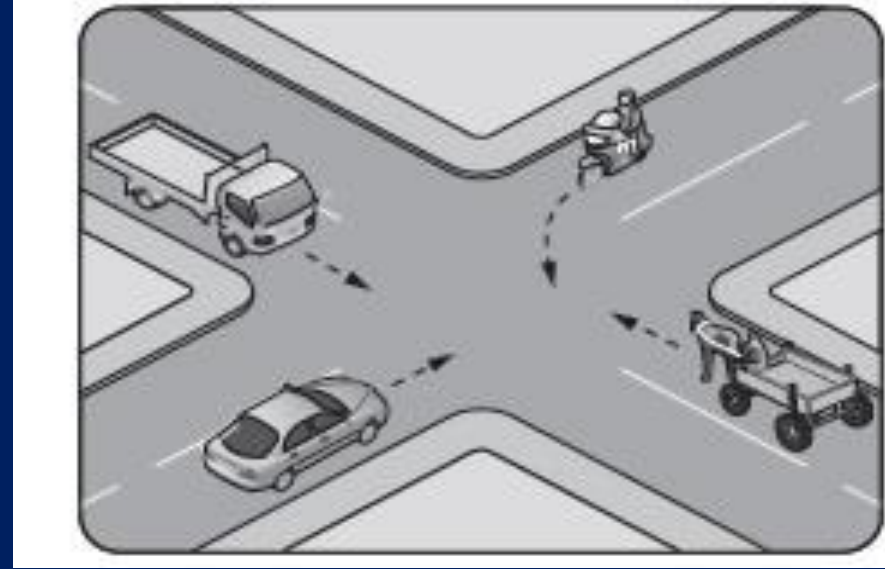
Şekildeki gibi sola dönüş yapacak olan sürücü, aşağıdakilerden hangilerini yapmalıdır?

- I. Sola dönüş lambasını yakmalı
- II. Hızını azaltmalı
- III. Dar bir kavisle dönmeli



- A) Yalnız I
- B) I ve II
- C) II ve III
- D) I, II ve III

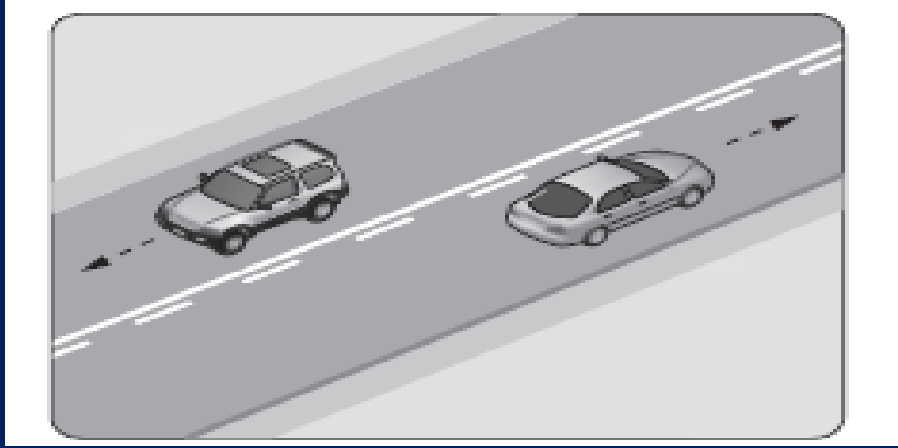
Şekildeki kontrolsüz kavşakta ilk geçiş hakkını hangi araç kullanmalıdır?



- A) Otomobil
- B) Kamyonet
- C) Motosiklet
- D) At arabası

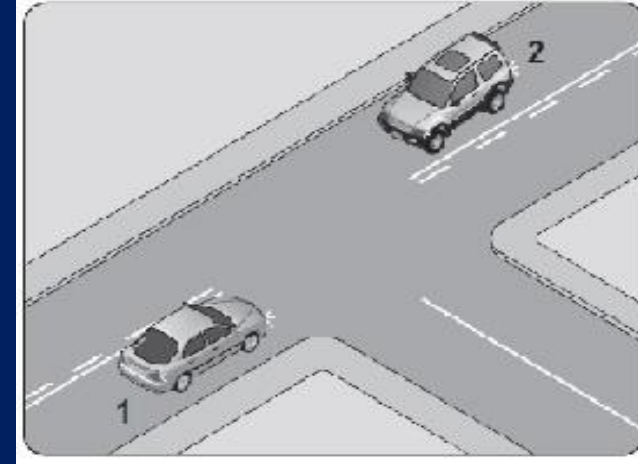


Şekildeki kara yolu bölümünde, yan yana çizilmiş kesik ve devamlı yol çizgileri sürücülere aşağıdakilerden hangisini bildirir?



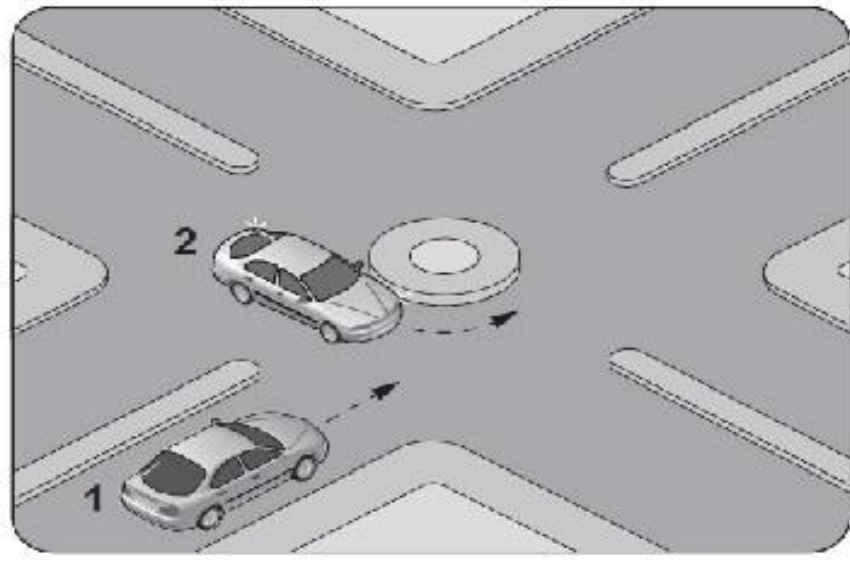
- A) İki şeritli yolun tek şeritli yola dönüşeceğini**
- B) Çift yönlü yoldan tek yönlü yola girileceğini**
- C) Kesik çizgi tarafındaki araçların şerit değiştirebileceğini**
- D) Devamlı çizgi tarafındaki araçların şerit değiştirebileceğini**

Şekildeki kavşakta 1 numaralı araç sağa, 2 numaralı araç ise sola dönüş yapmak istemektedir. Bu araçlarla ilgili olarak aşağıdakilerden hangileri doğrudur?



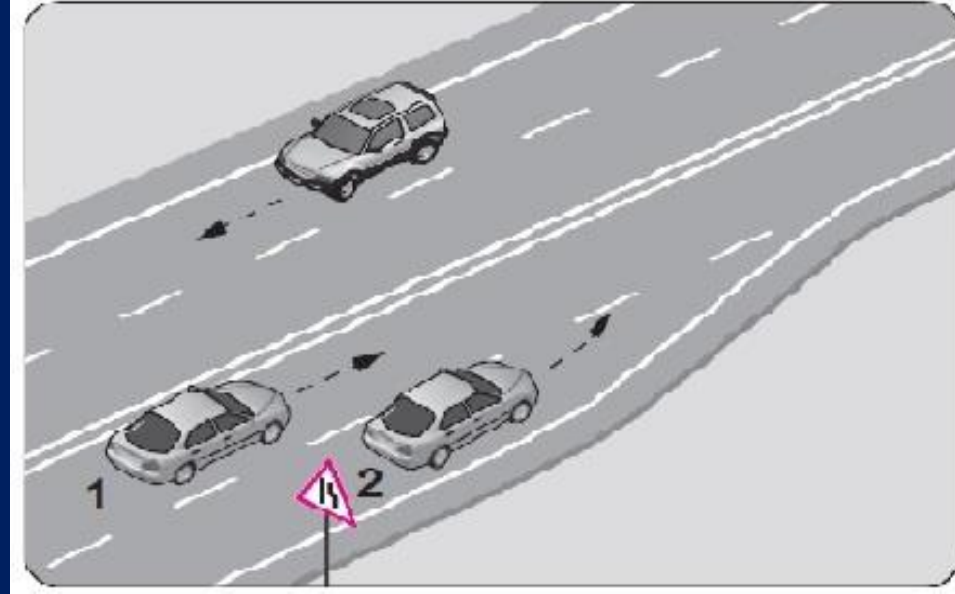
- I. Her iki araçta dar kavisle dönmelidir.**
- II. 1 numaralı araç geniş, 2 numaralı araç dar kavisle dönmelidir.**
- III. 1 numaralı araç dar, 2 numaralı araç geniş kavisle dönmelidir.**

Şekildeki gibi dönel kavşağa gelen 1 numaralı aracın sürücüsü ne yapmalıdır?



- A) Korna çalıp 2 numaralı aracı durdurmalı
- B) 2 numaralı aracın geçmesini beklemeli
- C) Hızlanarak yoluna devam etmeli
- D) Geçiş hakkını kendi kullanmalı


Şekle göre 2 numaralı aracın sürücüsü ne yapmalıdır?



- A) Hızını artırmalı
- B) U dönüşü yapmalı
- C) 1 numaralı araca yol vermeli
- D) 1 numaralı aracı ikaz ederek durdurmalı

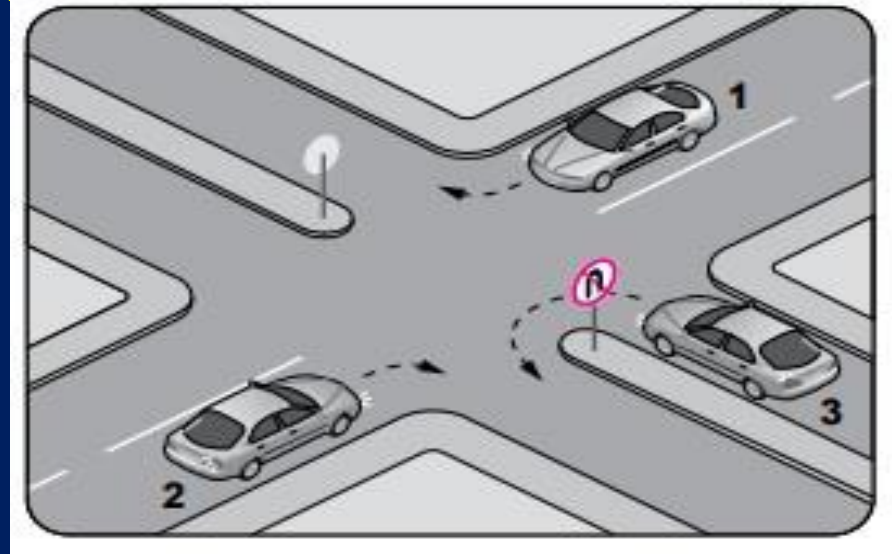


Şekildeki taşıt yolu üzerinde bulunan yazı neyi bildirmektedir?



- A) Işıklara 50 m kaldığını
- B) Asgari (en az) hız sınırını
- C) Azami (en yüksek) hız sınırını
- D) Öndeki araca 50 m'den fazla yaklaşılmamasını

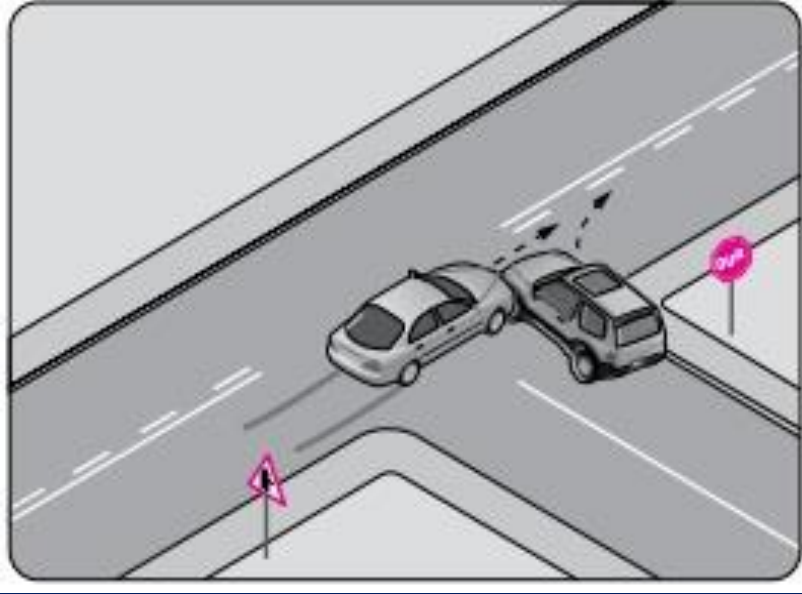
Trafik uygun olsa bile şekildeki kavşakta, hangi numaralı araçların ok yönündeki hareketi kesinlikle yasaktır?



- A) Yalnız 1
- B) Yalnız 2
- C) Yalnız 3
- D) 1, 2 ve 3

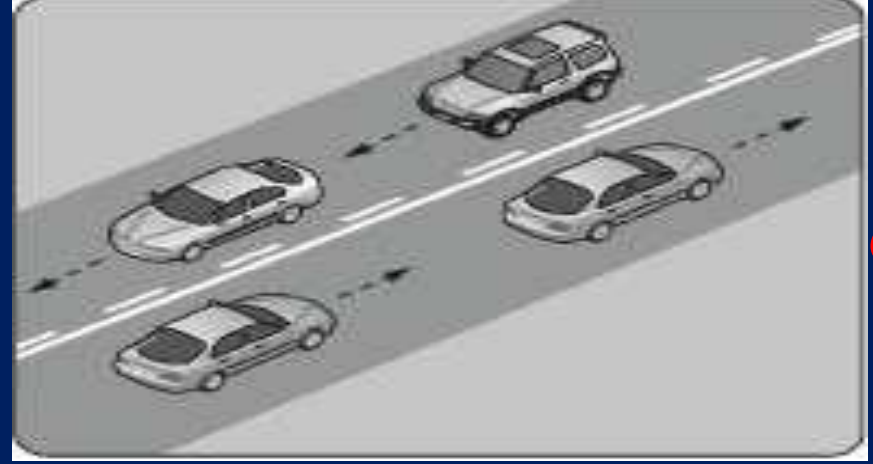


Şekildeki trafik kazası, aşağıdakilerden hangisine uyulmaması sonucu meydana gelmiş olabilir?



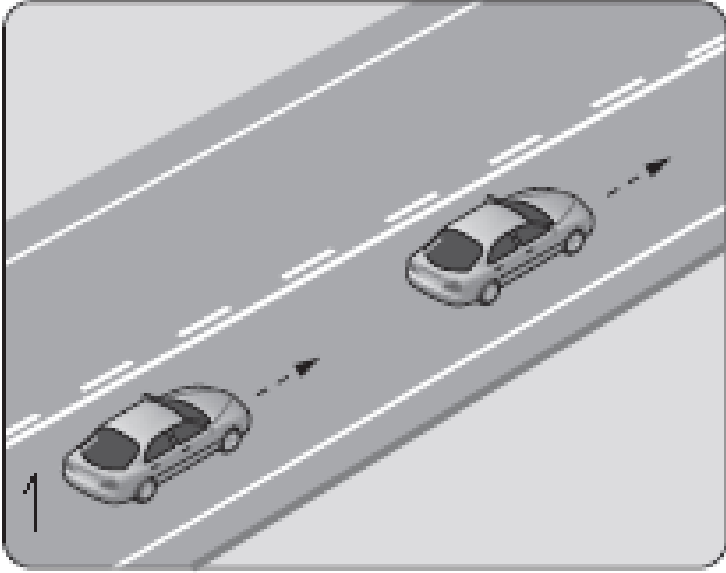
- A) Takip mesafesine
- B) Kavşaklarda geçiş hakkına
- C) Öndeki aracı geçme kuralına
- D) Farların kullanılacağı yer ve hâllere

Şekildeki kara yolu bölümünde, yan yana çizilmiş kesik ve devamlı yol çizgileri sürücülere aşağıdakilerden hangisini bildirir?



- A) Çift yönlü yoldan tek yönlü yola girileceğini
- B) Her iki yönde seyreden araçların bölünmüş yola gireceğini
- C) Her iki yönde seyreden araçların şerit değiştiremeyeceğini
- D) Devamlı çizgi tarafındaki araçların şerit değiştiremeyeceğini

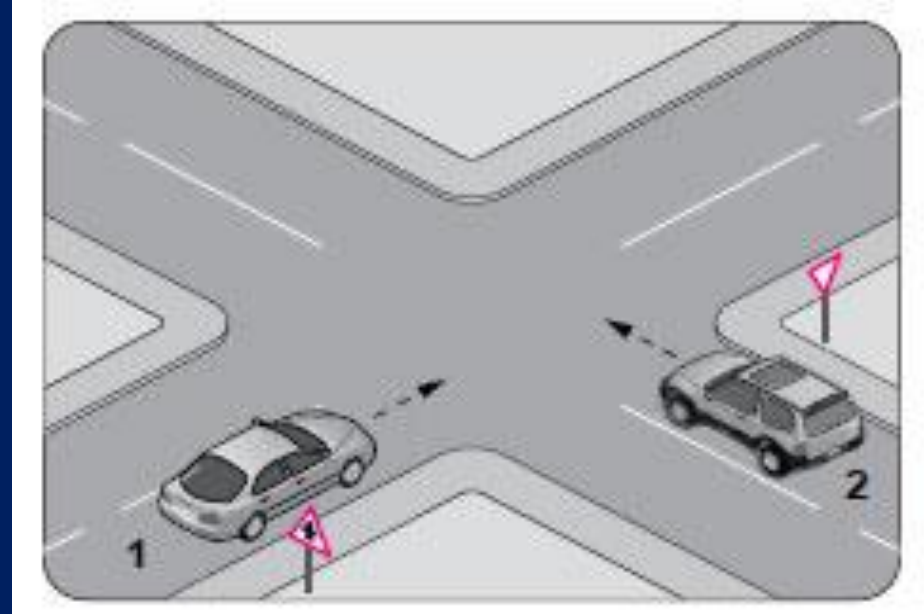
Şekildeki 1 numaralı araç 80 km/saat hızla seyrederken önündeki araca en fazla kaç metre yaklaşabilir?



- A) 10
- B) 20
- C) 30
- D) 40

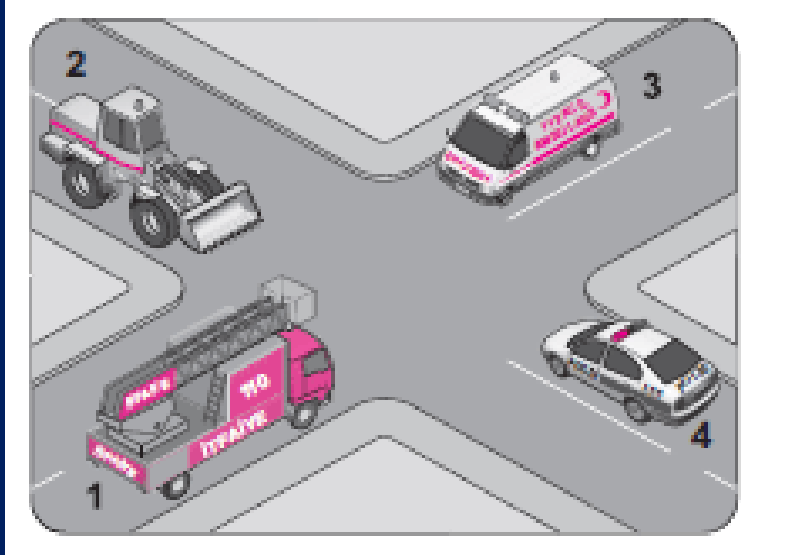


Şekle göre 2 numaralı aracın sürücüsü ne yapmalıdır?



- A) 1 numaralı araca yol vermeli
- B) Geçiş hakkını kendisi kullanmalı
- C) Hızını artırarak kavşağa önce girmeli
- D) Korna çalıp 1 numaralı aracı durdurmalı

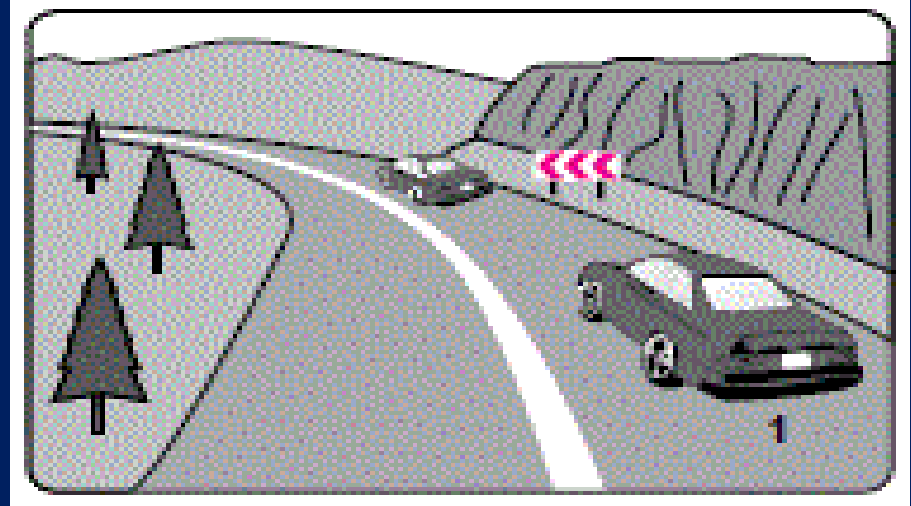
Şekilde görülen geçiş üstünlüğüne sahip araçların, görev hâlinde karşılaşmaları durumunda ilk geçiş hakkını hangisi kullanmalıdır?



- A) İş makinesi**
- B) Polis aracı**
- C) Ambulans**
- D) İtfaiye aracı**




Şekle göre, 1 numaralı aracın sürücüsü aşağıdakilerden hangisini yapmalıdır?



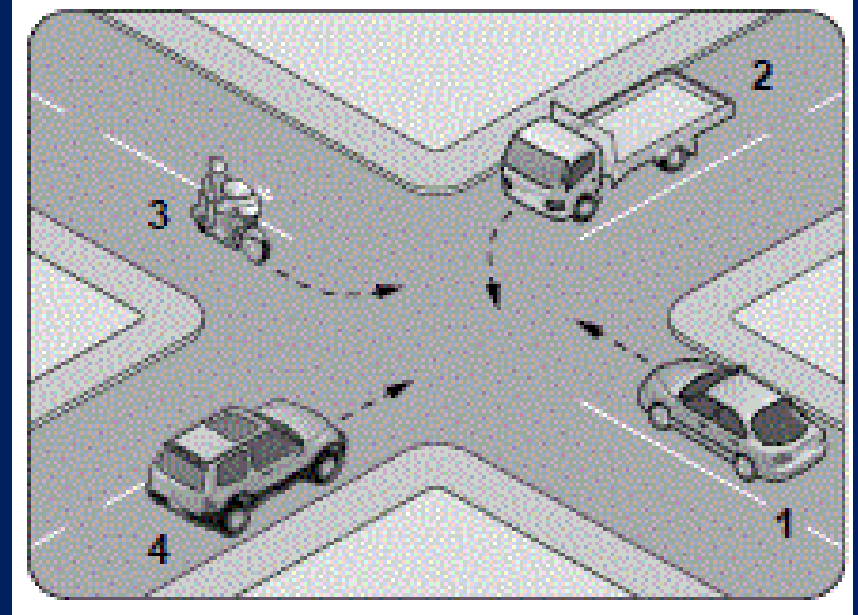
- A) Öndeki araca takip mesafesinden daha fazla yaklaşmalı**
- B) Takip mesafesine uyarak bulunduğu şeridi izlemeli**
- C) Hızını artırarak öndeki aracı geçmeli**
- D) Öndeki aracın geç işaretine uymalı**

Şekildeki taşıt yolu üzerine çizilen yatay işaretlemeye göre araç sürücüsü nasıl davranmalıdır?



- A) 50 metre sonra durmalı
- B) Asgari (en az) 50 km/saat hızla gitmeli
- C) Azami (en fazla) 50 km/saat hızla gitmeli
- D) Öndeki araçla arasında 50 metre mesafe bırakmalı

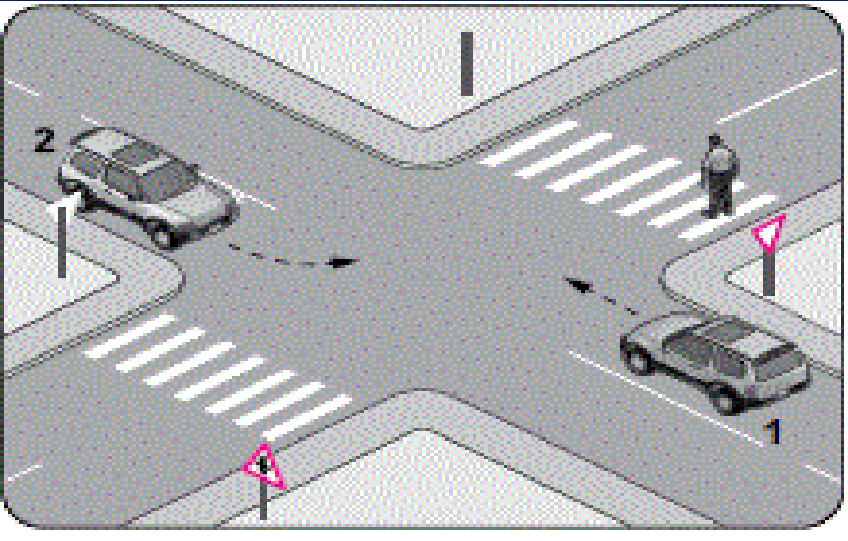
Şekildeki kontrolsüz kavşakta ilk geçiş hakkını hangi numaralı araç kullanmalıdır?



- A) 1
- B) 2
- C) 3
- D) 4




Şekildeki kavşakta sola dönüş yapacak olan 2 numaralı araç sürücüsü nasıl davranmalıdır?



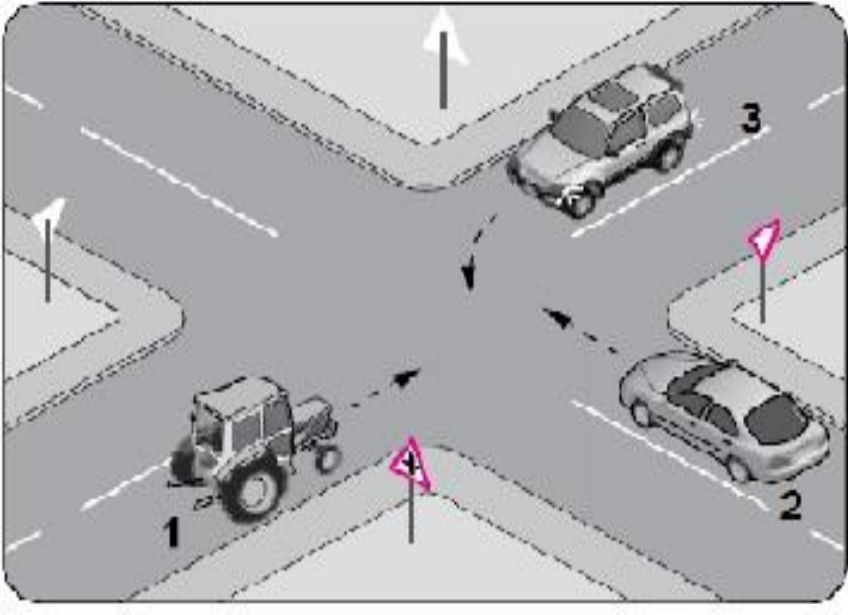
- A) Dar bir kavisle dönmeli
- B) Hızını azaltmadan kavşağa girmeli
- C) Karşıya geçen yayaya yol vermeli
- D) İlk geçiş hakkını kendisi kullanmalı

Şekildeki bölünmüş kara yolunda, 3 numaralı araç sürücüsünün azami (en yüksek) hızı saatte kaç kilometredir?



- A) 30
- B) 50
- C) 70
- D) 90

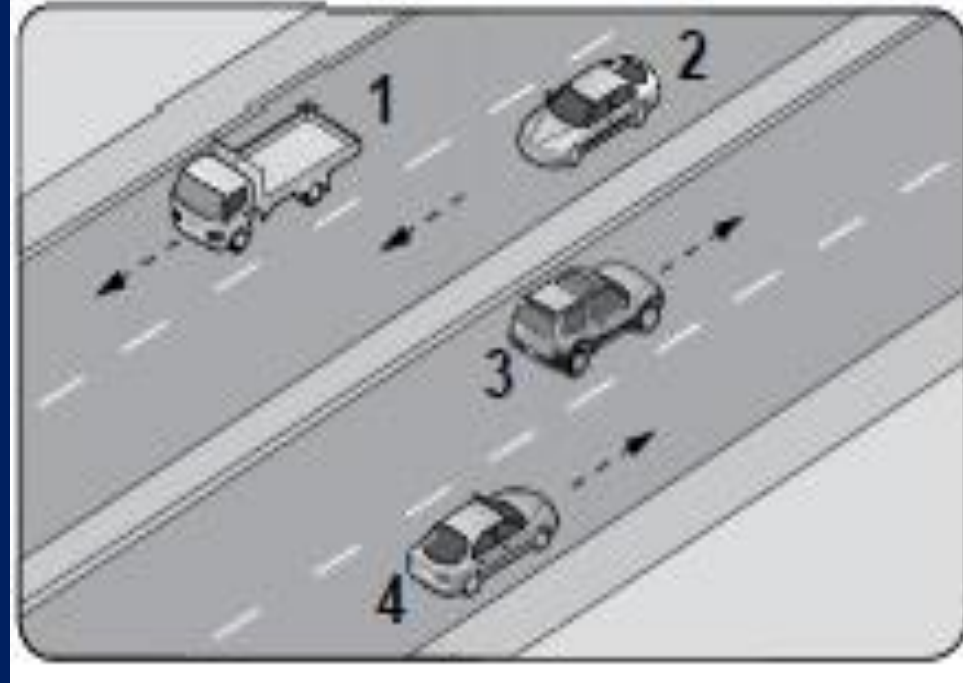
Şekildeki kavşakta karşılaşan araçların geçiş hakkı sıralaması nasıl olmalıdır?



- A) 1 - 2 - 3
- B) 1 - 3 - 2
- C) 2 - 3 - 1
- D) 3 - 2 - 1

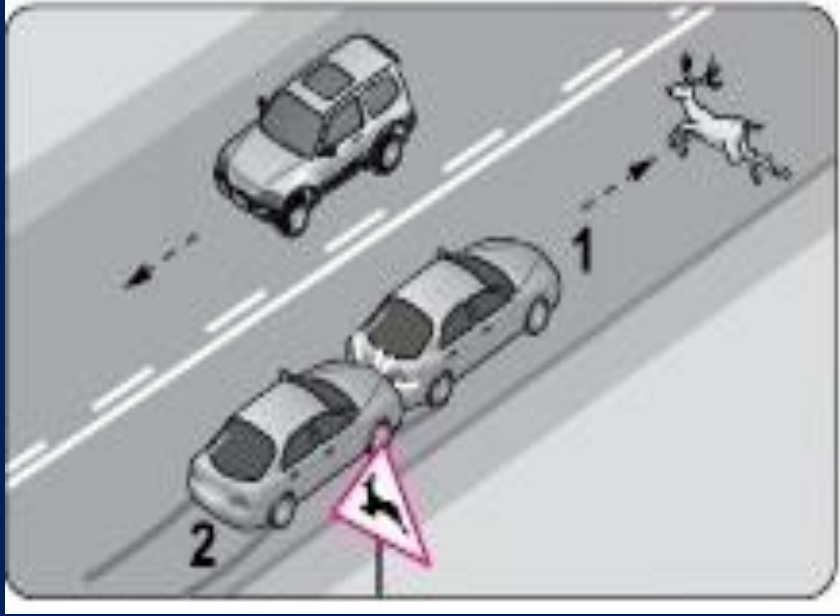


Şekle göre hangi numaralı araçların, buldukları şeridi sürekli olarak işgal etmeleri yasaktır?



- A) 1 ve 2
- B) 1 ve 3
- C) 2 ve 3
- D) 3 ve 4

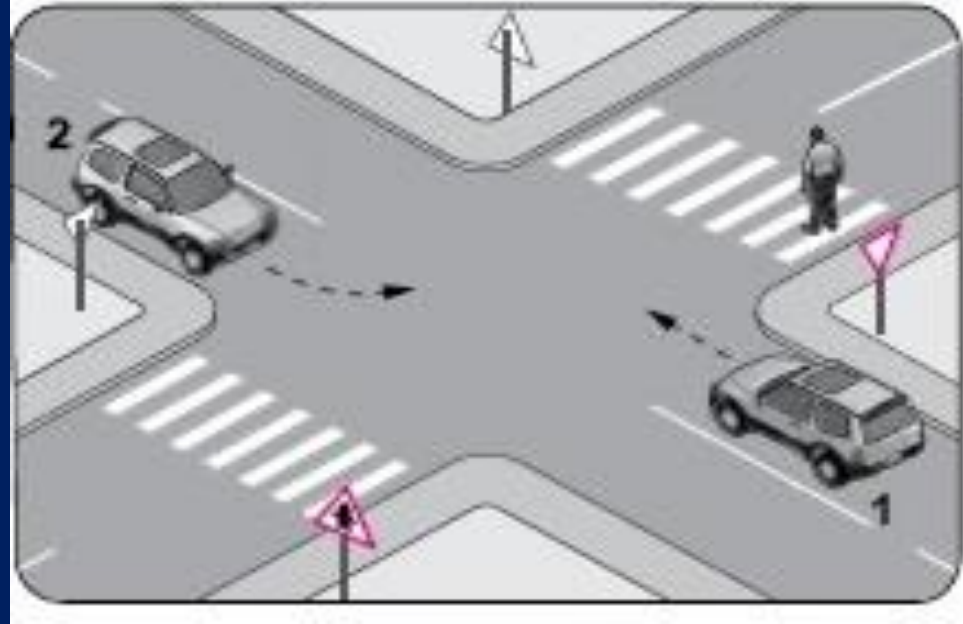
**Şekle göre 1 numaralı araca
arkadan çarpan 2 numaralı araç
sürücüsü hakkında
aşağıdakilerden hangisi kesinlikle
söylenir?**



- A) Gözlerinin iyi görmediği
- B) Hız kurallarına uymadığı
- C) Araç lastiklerinin eski olduğu
- D) Takip mesafesi kuralını ihlal ettiği

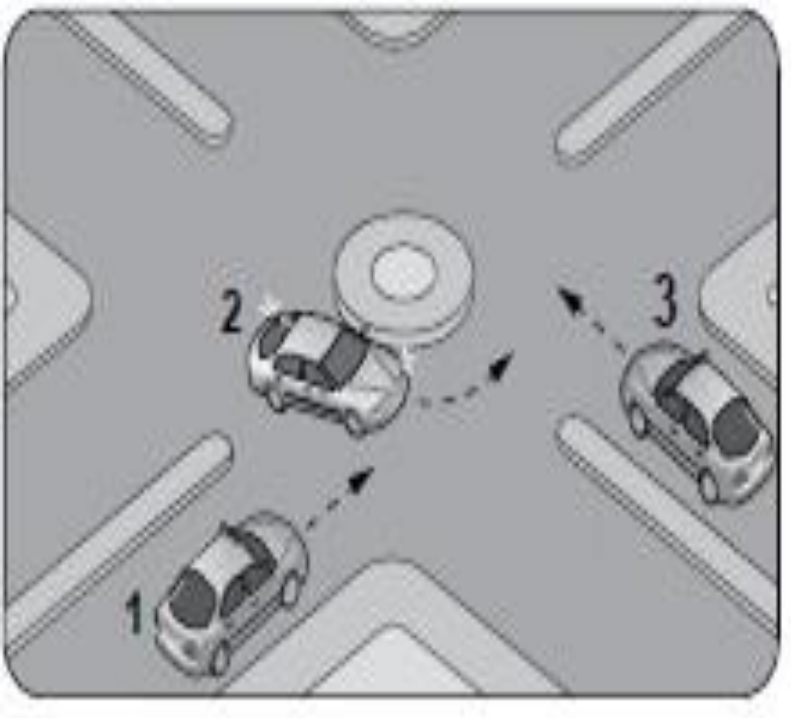
Şekildeki gibi sola dönüş yapacak olan 2 numaralı araç sürücüsü aşağıdakilerden hangilerini yapmalıdır?

- I. Dar bir kavisle dönmeli
- II. Yayanın geçmesini beklemeli
- III. Sola dönüş lambasını yakmalı
- IV. İlk geçiş hakkını 1 numaralı araca vermeli



- A) I ve IV.
- B) II ve III.
- C) I, II ve III.
- D) II, III ve IV.

Şekildeki kavşakta ilk geçiş hakkı sıralaması nasıl olmalıdır?



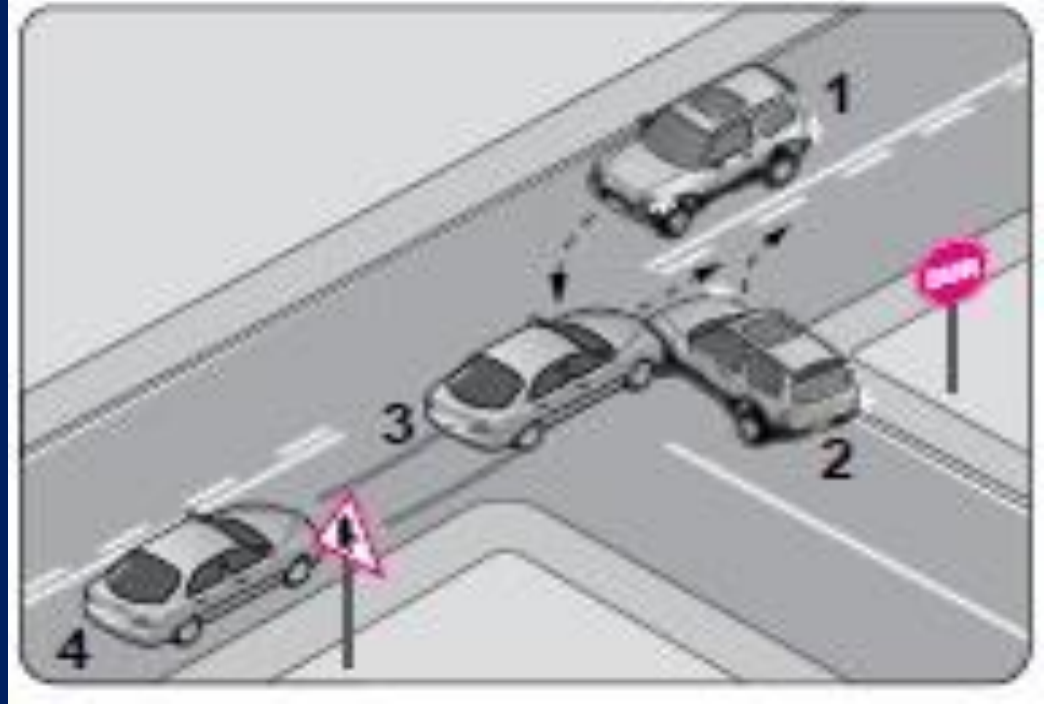
A) 1 - 2 - 3

B) 1 - 3 - 2

C) 2 - 3 - 1

D) 3 - 1 - 2

Şekildeki kazada hangi numaralı sürücüsü asli kusurlu sayılır?



A) 1

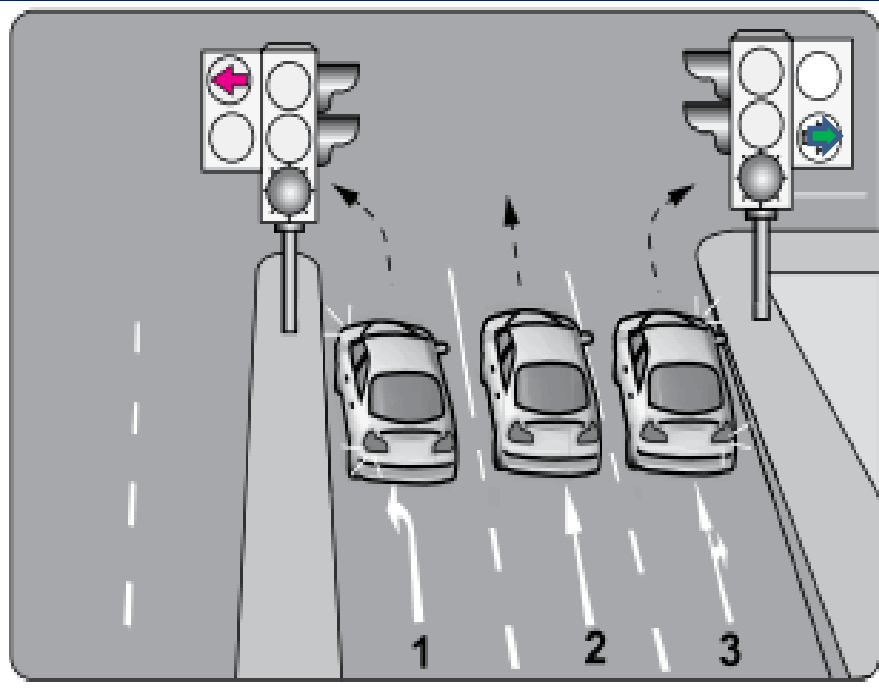
B) 2

C) 3

D) 4



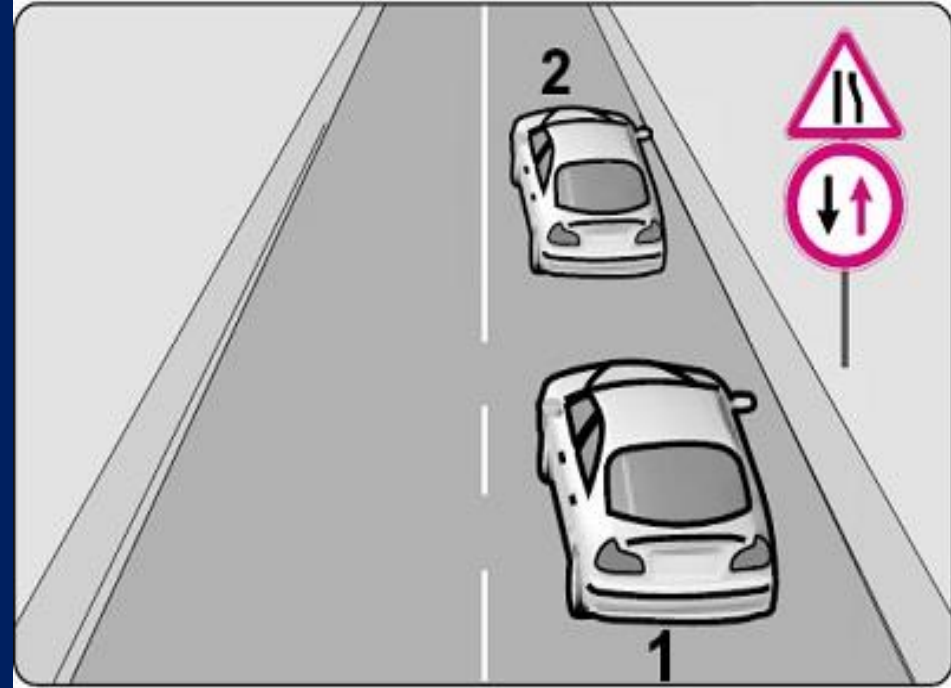
Şekildeki kavşakta; ileriye yeşil, sola kırmızı ve sağa yeşil oklu ışık yanmaktadır. Buna göre hangi numaralı şeritteki araçlar yollarına devam edebilir?



- A) Yalnız 2
- B) 1 ve 2
- C) 1 ve 3
- D) 2 ve 3

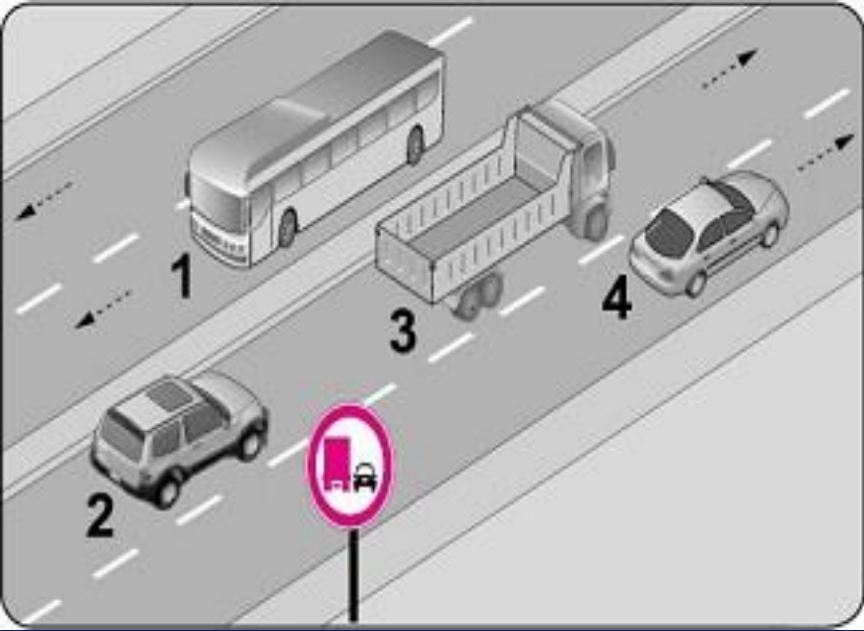


Şekildeki trafik işaretlerine göre 1 numaralı araç sürücüsü nasıl davranmalıdır?



- A) Hızını artırmalı
- B) Önündeki aracı geçmeli
- C) Öndeki araçla arasındaki takip mesafesini azaltmalı
- D) Daralan yol kesiminde karşıdan gelen araca yol vermeli

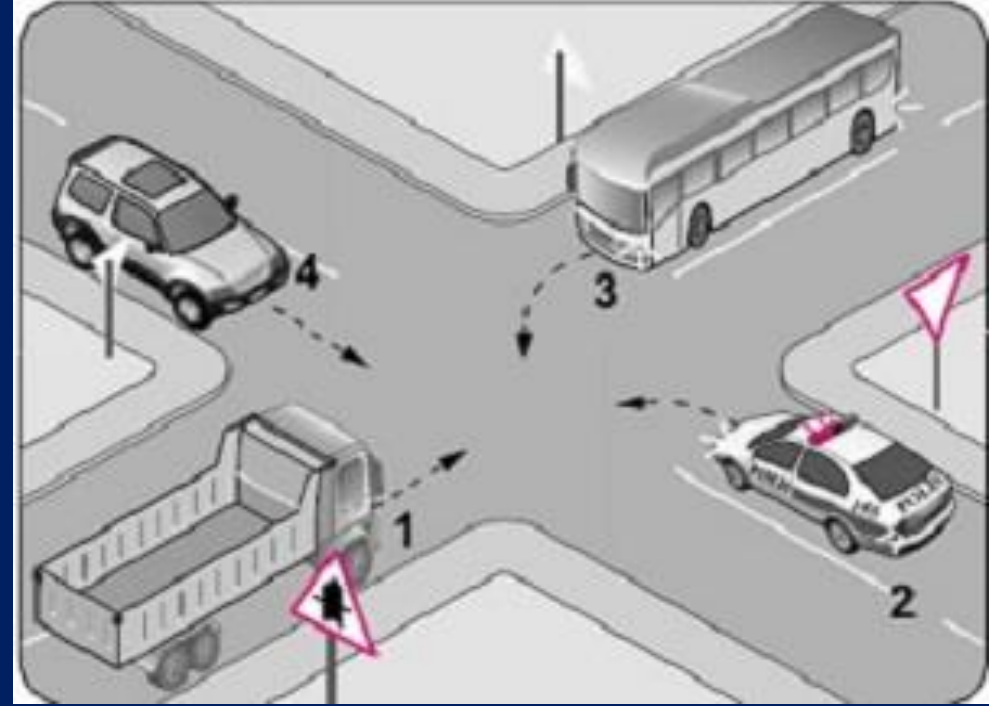
Şekildeki trafik tanzim işaretine göre hangi numaralı araçlar geçme yasağına uymamıştır?



- A) Yalnız 3
- B) 1 ve 2
- C) 2 ve 3
- D) 2,3 ve 4

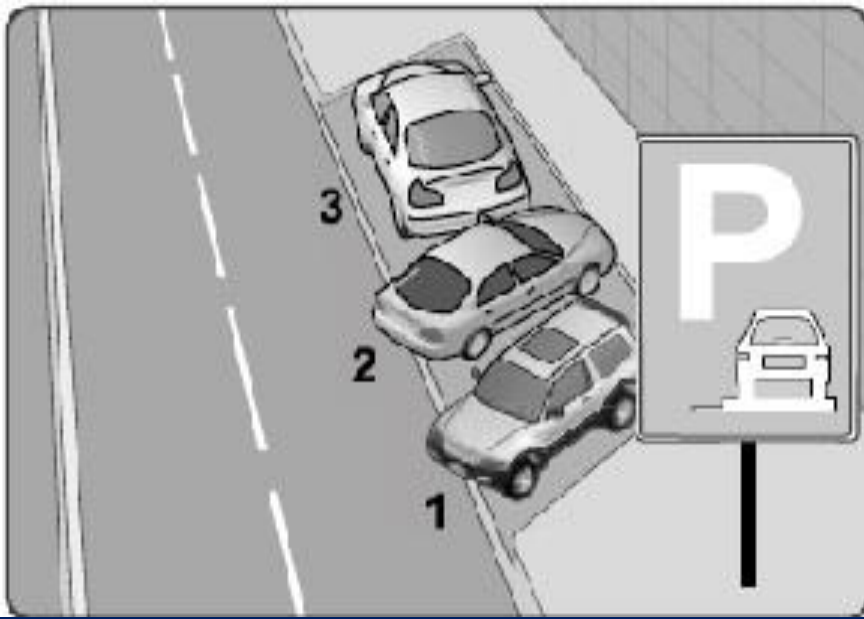


Şekildeki gibi bir kavşakta karşılaşan araçların geçiş hakkı sıralaması nasıl olmalıdır?



- A) 1 - 2 - 4 - 3
- B) 2 - 1 - 3 - 4
- C) 2 - 3 - 4 - 1
- D) 3 - 1 - 2 - 4


Şekildeki “park etme bilgi işareti” göre hangi numaralı araçlar yanlış park etmiştir?



- A) Yalnız 3
- B) 1 ve 2
- C) 1 ve 3
- D) 2 ve 3




Verilen şekle göre 2 numaralı aracın hangisini yapması doğrudur?



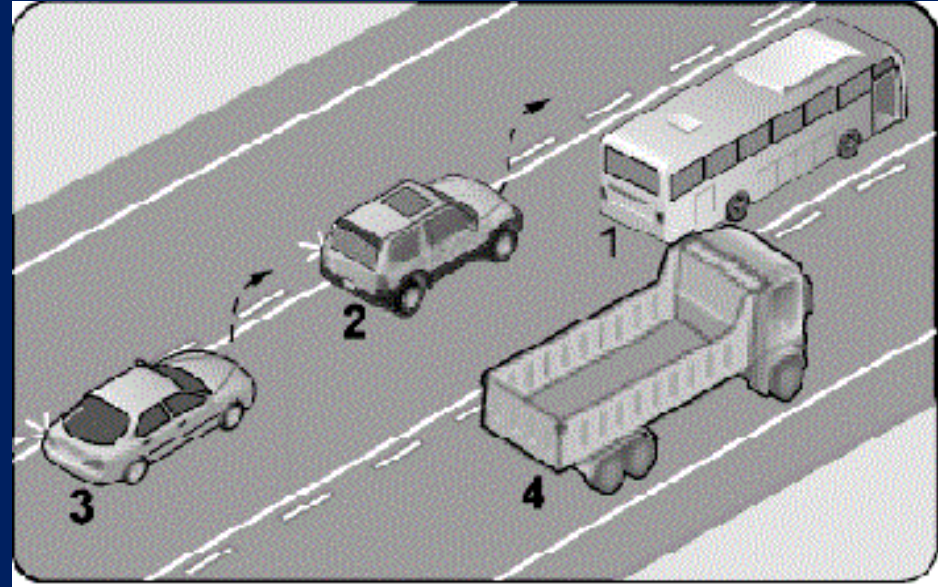
- A) Bisiklet yolunu kullanması
- B) Yayıları ikaz ederek bekletmesi
- C) Sol şeride geçip yoluna devam etmesi
- D) Bu bölgede azami 30 kilometre/saat hızla gitmesi

Şekle göre 1 numaralı araç sürücüsünün aşağıdakiler den hangisini yapması yanlıştır?



- A) Hızını azaltması
- B) Öndeki aracı geçmesi
- C) Takip mesafesini artırması
- D) Duraklama yapmaktan kaçınması

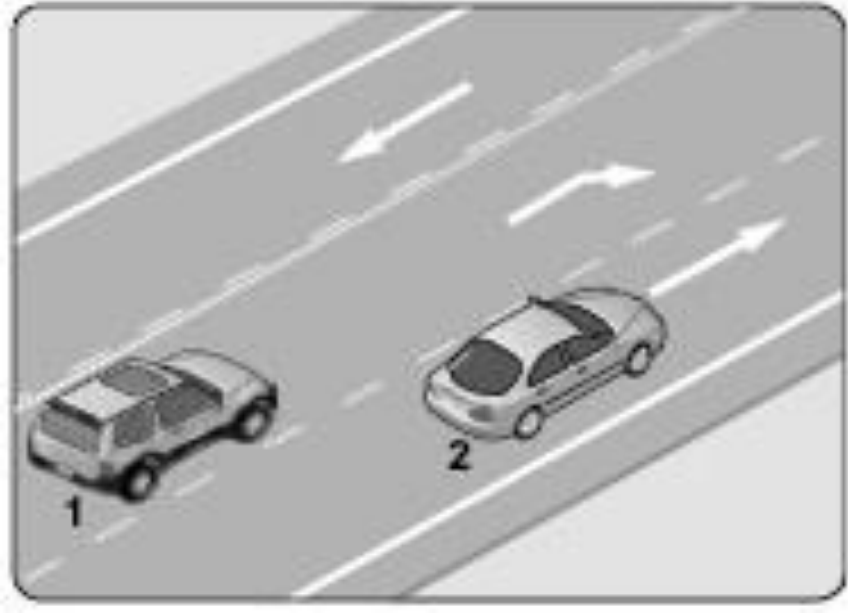
Şekilde iki yönlü ve üç şeritli kara yolu bölümünde seyreden araçlar görülmektedir. Yol çizgilerine göre hangi numaralı araç sürücüleri hatalı sollama yapmaktadır?



- A) Yalnız 3
- B) 1 ve 2
- C) 2 ve 3
- D) 1, 2 ve 3



Şekildeki kara yolu üzerine çizilmiş yatay işaretlemelere göre 1 numaralı araç sürücüsü nasıl davranmalıdır?



- A) En sol şeride geçmeli**
- B) Yavaşlamalı, sağ şeride girmeli**
- C) Hızlanmalı, bulunduğu şeritte devam etmeli**
- D) 2 numaralı aracı uyararak yavaşlamasını sağlamalı**

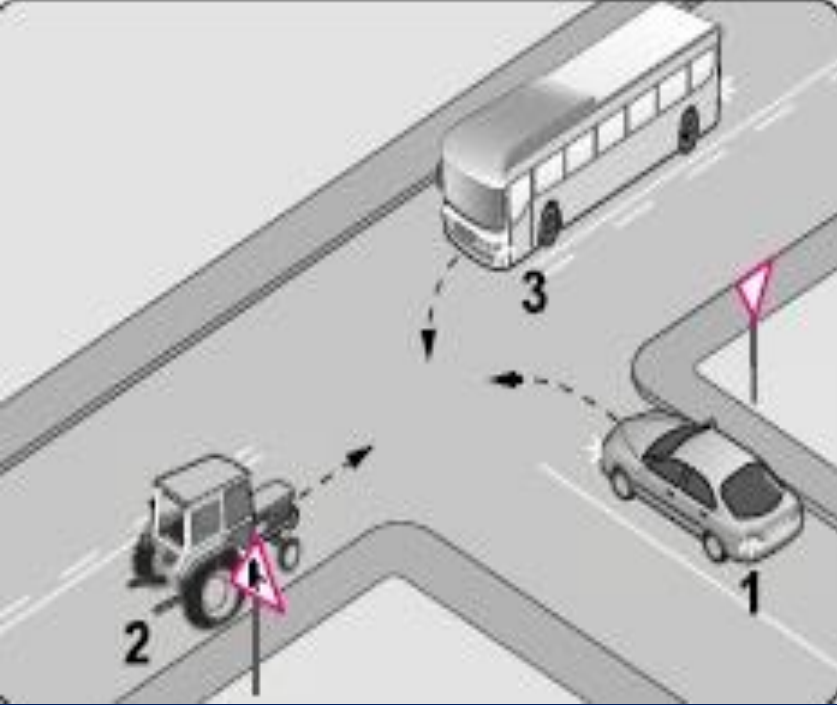


Şekle göre 1 numaralı araç sürücüsünün önündeki aracı geçmesinin yasak olmasının sebebi aşağıdakilerden hangisidir?



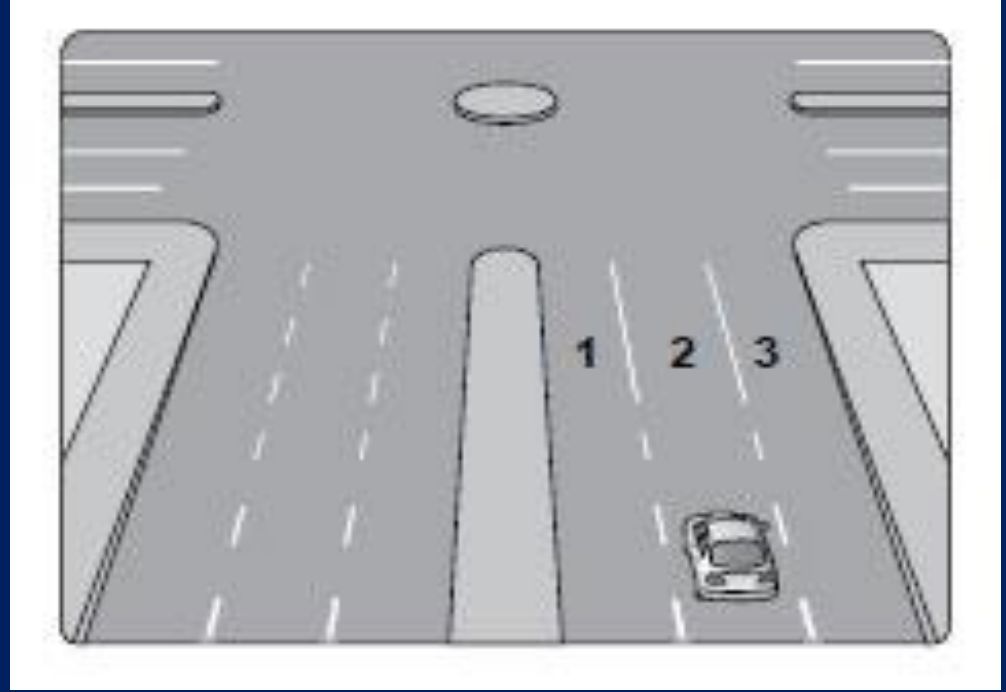
- A) Arkasından gelen bir başka sürücünün kendisini geçmeye başlamış olması**
- B) Kara yolunun öndeki araç için güçlük yaratmayacak şekilde geçişe uygun durumda bulunması**
- C) Önünde giden sürücünün bir başka aracı geçme niyetini belirten uyarma işaretini vermiş bulunması**
- D) İki yönlü yollarda karşıdan gelen trafik dâhil, yolu kullananların tümü için tehlike yaratacak şekilde kullanacağı şeridin görüşe kapalı olması**

Şekildeki gibi bir kavşakta karşılaşan araçların geçiş önceliği sıralaması nasıl olmalıdır?



- A) 1 - 2 - 3
- B) 2 - 3 - 1
- C) 3 - 2 - 1
- D) 3 - 1 - 2

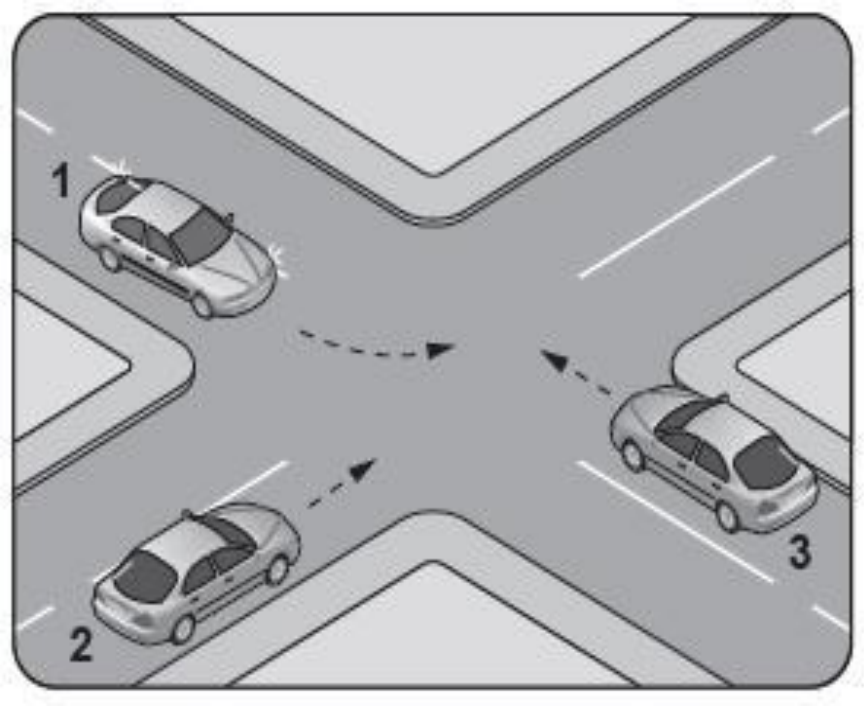
Şekildeki aracın sürücüsü, dönel kavşaktan geriye dönüş yapmak için hangi şeridi izlemelidir?



- A) İstediği şeridi
- B) 1 numaralı şeridi
- C) 2 numaralı şeridi
- D) 3 numaralı şeridi



Şekildeki gibi kontrolsüz kavşakta karşılaşılan araçların geçiş hakkı sıralaması nasıl olmalıdır?



- A) 1 - 2 - 3
- B) 2 - 1 - 3
- C) 3 - 1 - 2
- D) 3 - 2 - 1

Şekildeki kara yolu bölümünde, hangi numaralı taşıt sürücülerinin yaptığı, asli kusur hâllerinden sayılır?



- A) Yalnız 4
- B) 1 ve 7
- C) 1, 3 ve 6
- D) 2, 6 ve 7



Şerit izleme kurallarına göre aşağıdakilerden hangisi yasaktır?

1=Geçiş için en soldaki şeridi kullanmak

2=Dönüş için en soldaki şeridi kullanmak

3=Devamlı olarak en sağdaki şeritten sürmek

4=İki şeridi birden işgal etmek



2918 sayılı trafik kanununa göre ilk defa sürücü belgesi alanlar ile herhangi bir sebeple sürücü belgesi iptal edilmiş olup da yeniden sürücü belgesi alanlar, belgenin alındığı tarihten itibaren kaç yıl süreyle aday sürücü olarak kabul edilir?

A) 2

B) 3

C) 5

D) 10

Frene basıldıđı andan itibaren, aracın durmasına kadar geen sūrede katedilen yola "fren mesafesi" denir.

Buna gōre aŐađıdakilerden hangisi fren mesafesini etkileyen faktōrlerden biri deđildir?

- A) Aracın hızı
- B) İklım koŐulları
- C) Yolun geniŐliđi
- D) Aracın yūk durumu

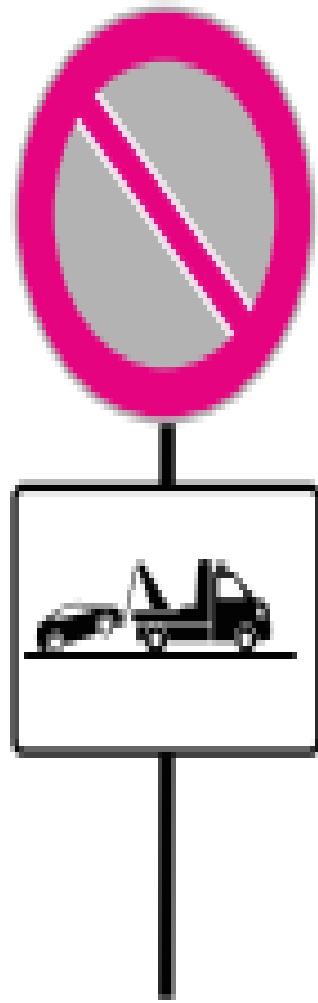
Şekildeki trafik işareti sürücüye neyi bildirir?



- A) Kontrollü demir yolu geçidini
- B) Kontrolsüz demir yolu geçidini
- C) Tramvay hattı ile oluşan kavşağı
- D) Demir yolu köprüsüne yaklaşıldığını

Şekildeki “park etmek yasaktır” levhasının altına ilave edilen resimli levha sürücüye neyi bildirir?

- A) Yol yardımını
- B) Aracın servise götürüleceğini
- C) Park yapan aracın çekileceğini
- D) Sadece arızalı araçların çekileceğini



Aşağıdakilerden hangisi trafik kazalarının önlenmesinde en önemli unsurdur?

- A) Yolları ve kaldırımları onarmak
- B) Araçların bakım ve onarımını önemsemek
- C) Yağmurlu ve sisli havalarda daha dikkatli olmak
- D) Kurallara uymayı alışkanlık hâline getiren bireyler yetiştirmek

Şekildeki trafik işaretinin anlamı nedir?



- A) Yüklü ağırlığı 6 tondan fazla olan taşıt giremez.
- B) Dingil başına 6 tondan fazla yük düşen taşıt giremez.
- C) 6 tondan fazla su kirletici madde taşıyan taşıt giremez.
- D) 6 tondan fazla patlayıcı ve parlayıcı madde taşıyan taşıt giremez.

Şekildeki trafik işareti neyi bildirir?



- A) Geçme yasağının sonunu
- B) Ana yol-tali yol kavşağına yaklaşıldığını
- C) Karşıdan gelene yol verilmesi gerektiğini
- D) Öndeki taşıtın geçilmesinin yasak olduğunu

- Hareket hâlindeki taşıta asılmak
- Duran aracın önünden veya arkasından çıkmak

Yukarıda verilenlerin yapılması, trafik kazalarında rol oynayan faktörlerden hangisinin içinde değerlendirilir?

- A) Araç kusurları
- B) Yaya kusurları
- C) Yolcu kusurları
- D) Sürücü kusurları

Aşağıdakilerden hangisi trafik denetiminde istenmesi hâlinde, sürücünün göstermek zorunda olduğu belgelerdendir?

- A) Gümrük giriş belgesi, ithal belgesi, noter satış belgesi
- B) Tescil belgesi, trafik belgesi, zorunlu mali sorumluluk sigorta poliçesi
- C) İşletme belgesi, imalat teknik belgesi
- D) Kasko sigortası poliçesi, sahiplik belgesi

Aşağıdakilerden hangisi, tedbirsiz ve saygısız araç sürmeye örnek değildir?

- A) Aşırı hızdan kaçınmak
- B) Korkutmak veya şaşırtmak
- C) Su, çamur ve benzerlerini sıçratmak
- D) Sigara külü ve izmaritlerini veya başka şeyleri yola atıp dökmek

Bir kaza anında, başta kafa ve göğüs yaralanmaları olmak üzere olası bazı yaralanma türlerine karşı geliştirilmiş, seyir esnasında takılması zorunlu olan koruyucu düzenek aşağıdakilerden hangisidir?

- A) Takograf**
- B) Çekme halatı**
- C) Emniyet kemeri**
- D) Boyun korsesi**

- I. İtfaiye araçları
- II. Toplu taşıma araçları
- III. Yaralı ve acil hasta taşıyan araçlar

Verilenlerden hangileri, geçiş üstünlüğüne sahip araçlardandır?

- | | |
|-------------|-----------------|
| A) Yalnız I | B) I ve II |
| C) I ve III | D) I, II ve III |

Aşağıdakilerden hangisi çevreyi olumlu etkiler?

- A) Teneke, poşet ve pet şişelerin akarsulara atılması
- B) Kanalizasyon sularının arıtıldıktan sonra akarsulara boşaltılması
- C) Deniz kıyısından ve dere yataklarından gelişmiş güzel kum alınması
- D) Fabrika atıklarının göl veya denize boşaltılması

Aşağıdakilerden hangisi gürültünün verdiği zararlardan değildir?

- A) Beden sağlığının bozulması
- B) Ruh sağlığının bozulması
- C) İş veriminin artması
- D) Dikkatin dağılması

Demir yolu (hemzemin) geidinde aŐađıda-
kilerden hangisinin yapılması yasaktır?

- A) Hızın azaltılması
- B) Bariyer kapalı ise durulması
- C) Öndeki aracın geçilmesi
- D) Bariyer açık ise dikkatli geçilmesi

Suçun işlendiği tarihten itibaren 5 yıl içinde; 0,50 promilin üstünde alkollü olduğu üçüncü defa tespit edilen sürücünün, sürücü belgesi ne kadar süre ile geri alınır?

A) 6 ay

B) 1 yıl

C) 2 yıl

D) 5 yıl

Şekildeki trafik işareti neyi bildirir?



- A) Yol kenarında besi çiftliği bulunduğunu
- B) Ehli hayvanların yola çıkabileceğini
- C) Canlı hayvan pazarına yaklaşıldığını
- D) Hayvanla çekilen taşıtların yola çıkabileceğini

Şekildeki trafik işareti
neyi yasaklar?



- A) Geri gitmeyi
- B) Sola dönmeyi
- C) "U" dönüşü yapmayı
- D) Ada etrafında dönmeyi

Kara yollarındaki trafik levhalarına zarar veren sorumluya ne yapılır?

- A) Zarar karşılıkları ve masraf ödetilir.
- B) Sürücü belgesi varsa geri alınır.
- C) Trafikten ömür boyu men edilir.
- D) 6 ay hapis cezası verilir.

Motorlu taşıt sürücü kursunu bitiren ve kurs sonunda yapılan sınavda başarılı olan adaya hangi belge verilir?

- A) Ruhsat
- B) Trafik tescil belgesi
- C) Taşıt sürücü sertifikası
- D) Sürücü kursu diploması

Kara yolunda insan, hayvan ve yük taşıma-
ya yarayan araçlara ne denir?

A) İş makinesi

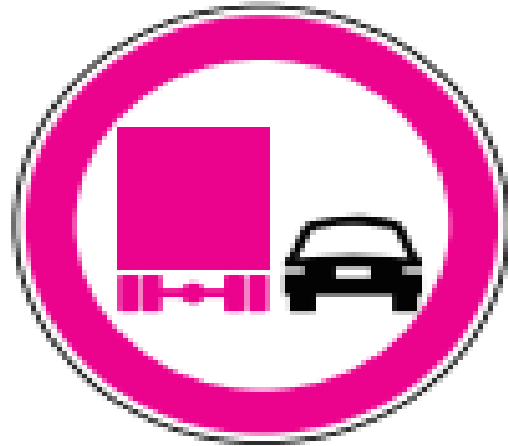
B) Trolleybüs

C) Feribot


D) Taşıt

21. Aşağıdaki trafik işaretlerinden hangisi, kamyonlar için öndeki aracı geçme yasağını bildirir?


A)



B)



C)



D)

