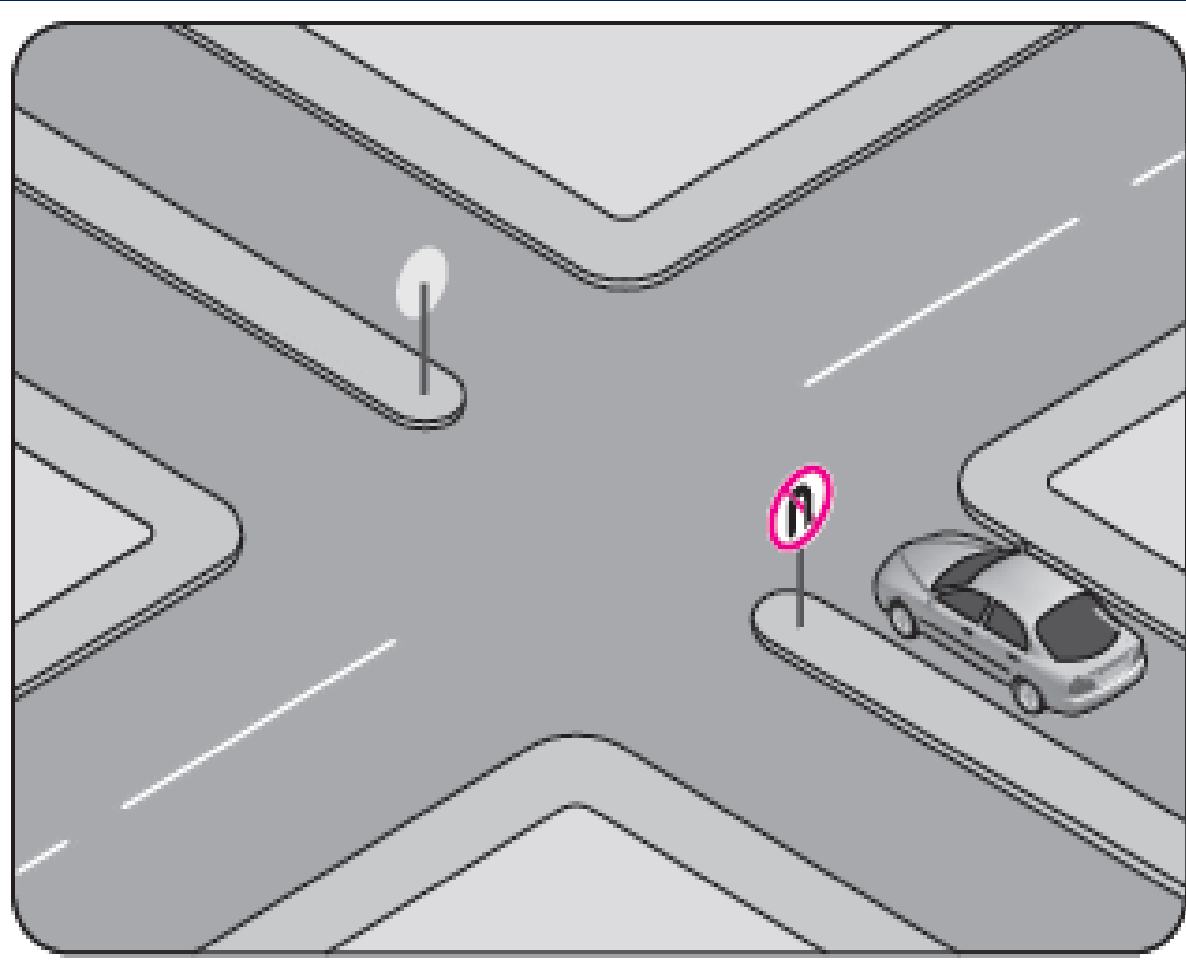




“U” dönüşü yapılmaz

Trafik uygun olsa bile Őekildeki aracın hangi yndeki hareketi kesinlikle yasaktır?



- A) Sola dnmesi**
- B) Saęa dnmesi**
- C) U dnüşü yapması**
- D) Aynı ynde ilerlemesi**





**Öndeki taşıtı
geçmek yasaktır**



**Kamyon için öndeki
taşıtı geçmek yasaktır**

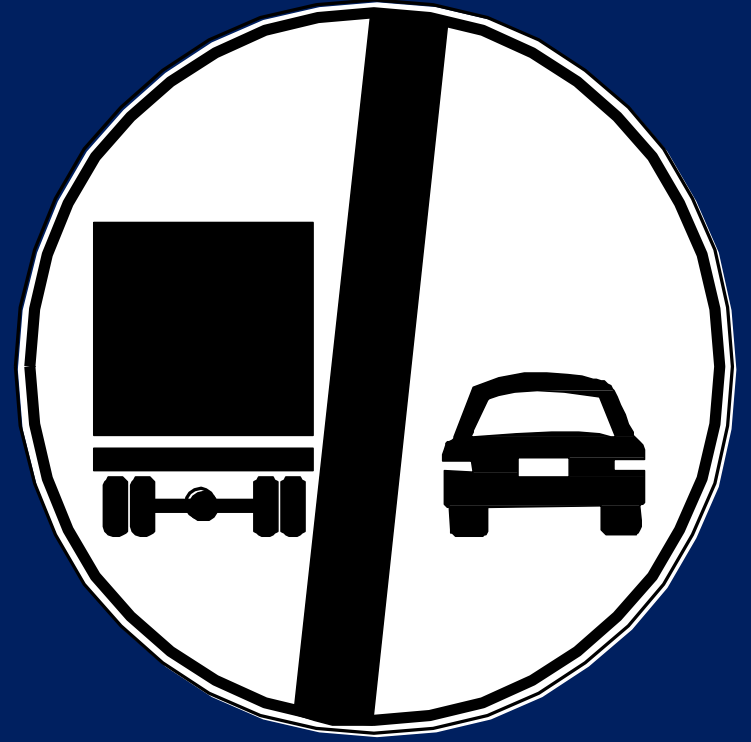


**Geçmenin yasak
olduğu yerler**





**Geçme yasağı
sonu**



**Kamyonlar için
geçme yasağı
sonu**

Şekildeki trafik işareti neyi bildirir?



- A) Geçme yasağının sona erdiğini**
- B) Kamyonlar için geçme yasağının sona erdiğini**
- C) Tehlikeli madde taşıyan taşıtın giremeyeceğini**
- D) Kamyonların öndeki taşıtı geçmesinin yasak olduğunu.**



Sesli ikaz cihazlarının kullanılması yasa

Aşağıdaki trafik işaretlerinden hangisi öndeki taşıtı geçme yasağının sona erdiğini bildirir?

A



B



C



D



Şekildeki trafik işareti aşağıdakilerden hangisini bildirir?



- A) Kamyonlar için geçme yasağı sonunu**
- B) Karşıdan gelene yol verilmesi gerektiğini**
- C) Kamyonlar için geçme yasağı başlangıcını**
- D) Öndeki taşıtın geçilmesinin yasak olduğunu**




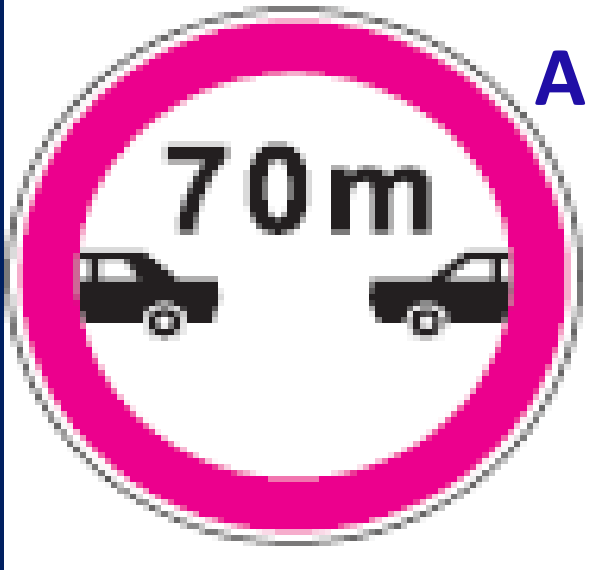



**Azami hız
sınırlaması**



**Hız sınırlaması
sonu**

Aşağıdakilerden hangisi hız sınırlaması sonu trafik işaretidir?






**Bütün yasak ve sınırlamaların
sonu**

Aşağıdakilerden hangisi bütün yasaklama ve kısıtlamaların sona erdiğini bildirir?






Saęa mecburi yn




**Sola mecburi
yn**




İleri mecburi yn




**İleri ve saęa
mecburi yn**




**İleri ve sola mecburi
yön**




**Saęa ve sola
mecburi yön**




**İleri sağa ve sola
mecburi yön**



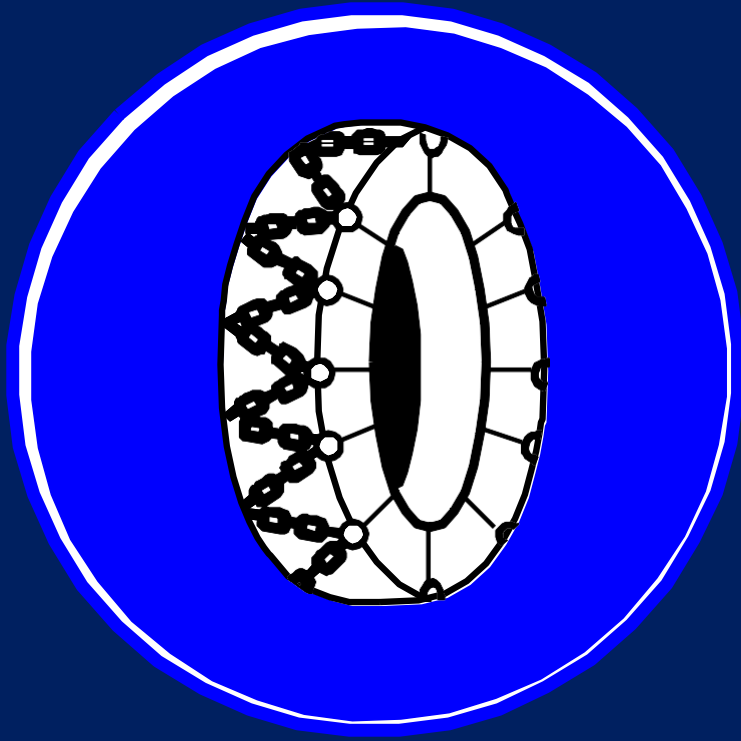
**SAĞDAN GİDİNİZ ,
SOLDAN GİDİNİZ.**



**Her iki yandan
gidiniz**



**Ada etrafında
dönünüz**



**Zincir takmak
mecburidir**



**Zincir takma
mecburiyeti sonu**



**Mecburi
asgari hız**



**Mecburi asgari
hız sonu**



**Mecburi bisiklet
yolu**



**Mecburi bisiklet
yolu sonu**



Mecburi yaya yolu



Mecburi yaya yolu sonu

Türkiye Hız Sınırları Levhası



Yerleşim yeri içinde

Şehirlerarası iki yönlü yollarda

Bölünmüş yollarda


Oto yollarda

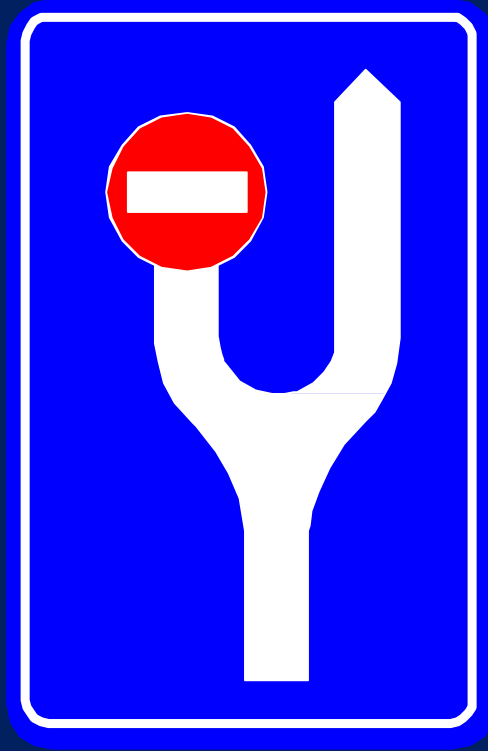




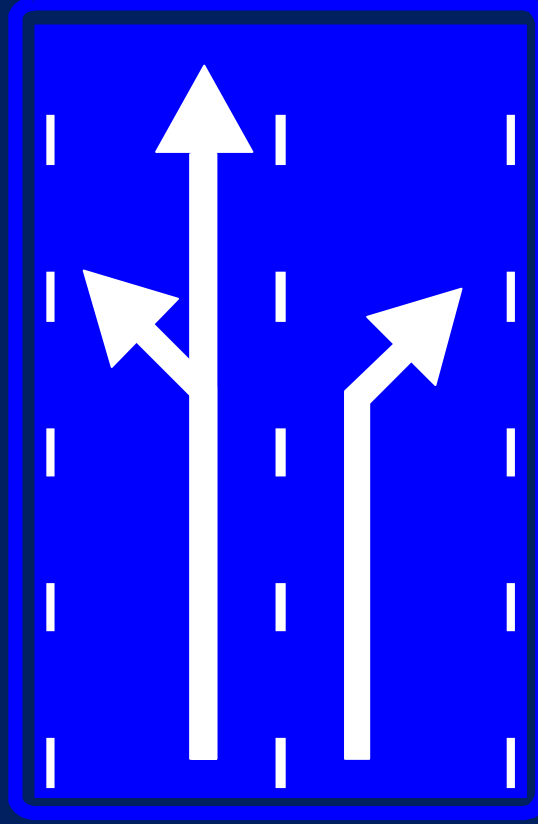
**Girişli olmayan
yol kavşağı
levhaları**

İLERİ ÇIKMAZ YOL





**BÖLÜN MÜŞ YOL ÖNCESİ YÖN
LEVHASI**



**KAVŞAK ÖNCESİ ŞERİT
SEÇİMİ**




YAYA GEÇİDİ



OKUL GEÇİDİ







TEK YÖN

TEK YÖN




**MOTORLU TAŞIT
YOLU BAŞLANGICI**



**MOTORLU TAŞIT
YOLU SONU**


D
DURAK



TÜNEL




HASTANE


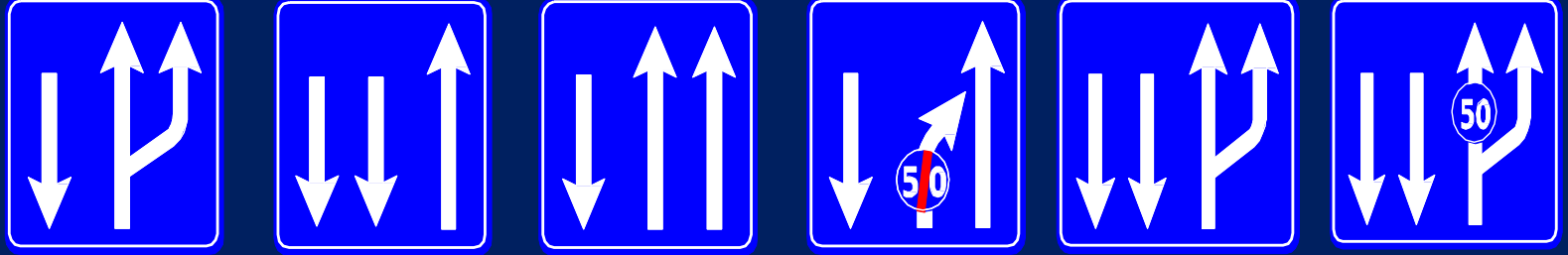


ÖNCELİĞİ OLAN YOL

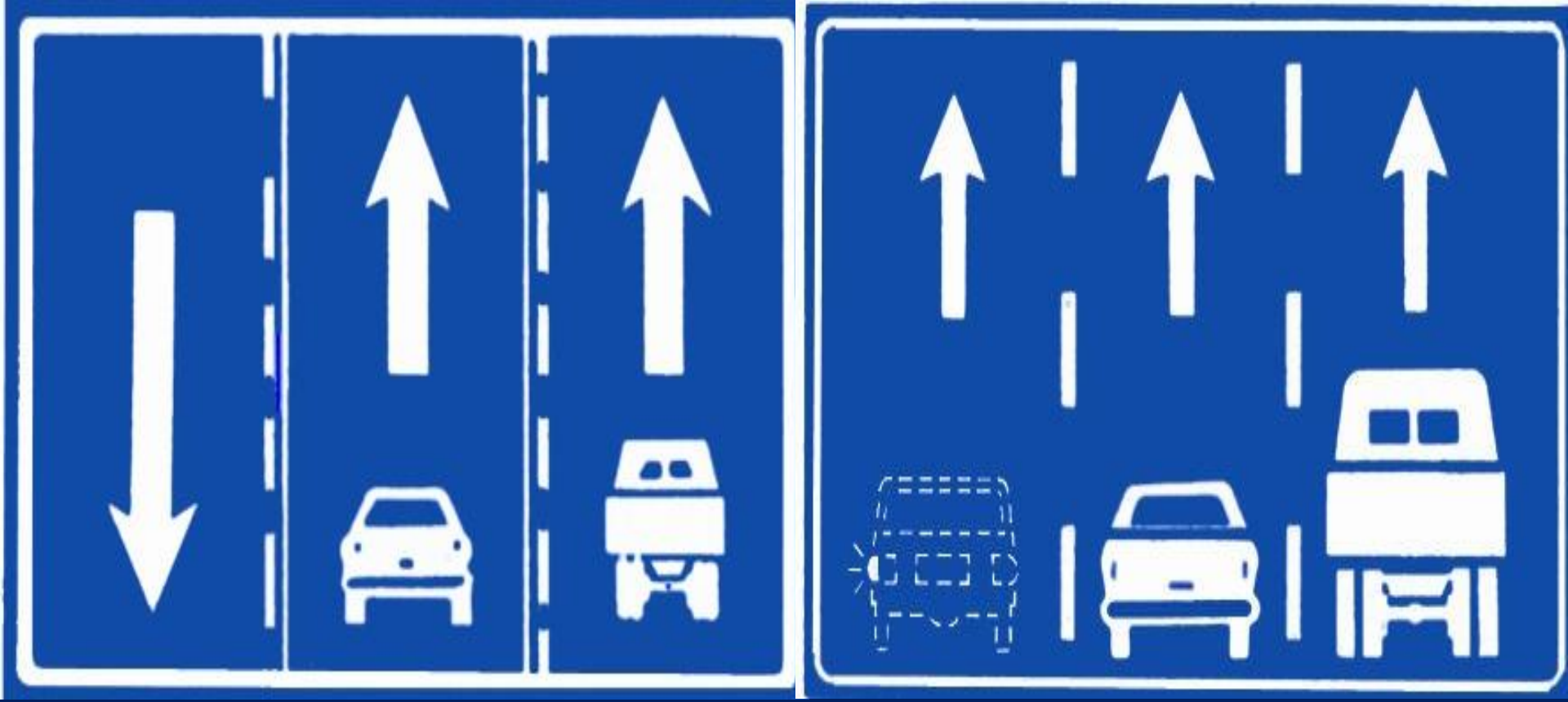
ANA YOL



ANA YOL BITİMİ



ŞERİT DÜZENLEME LEVHALARI




Şerit Kullanım Levhaları



TRAFİK VE ÇEVRE BİLGİSİ

DURAKLAMA VE PARK
İŞARETLERİ

**PARK ETMEK
YASAKTIR**



**DURAKLAMA VE PARK
ETMEK YASAKTIR**





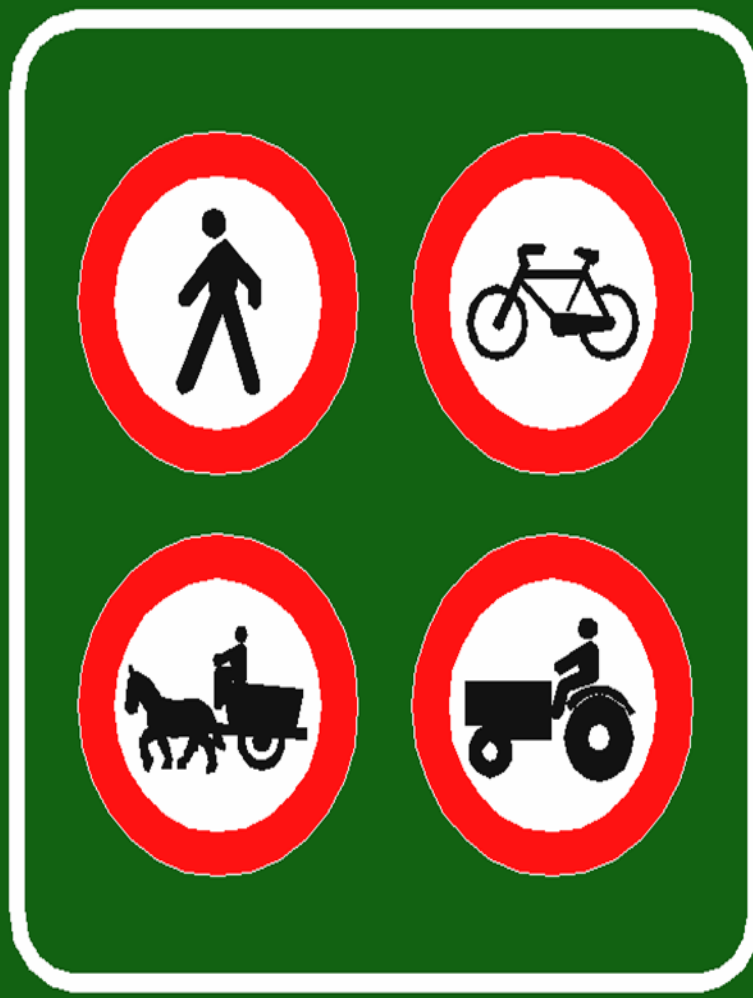

PARK YERİ

Ünite. 2

Trafik Mevzuatı

OTOYOL KURALLARI


Konu. 19



**OTO YOL BAŐLANGICI VE
SONU**

OTO YOL REJİMİ

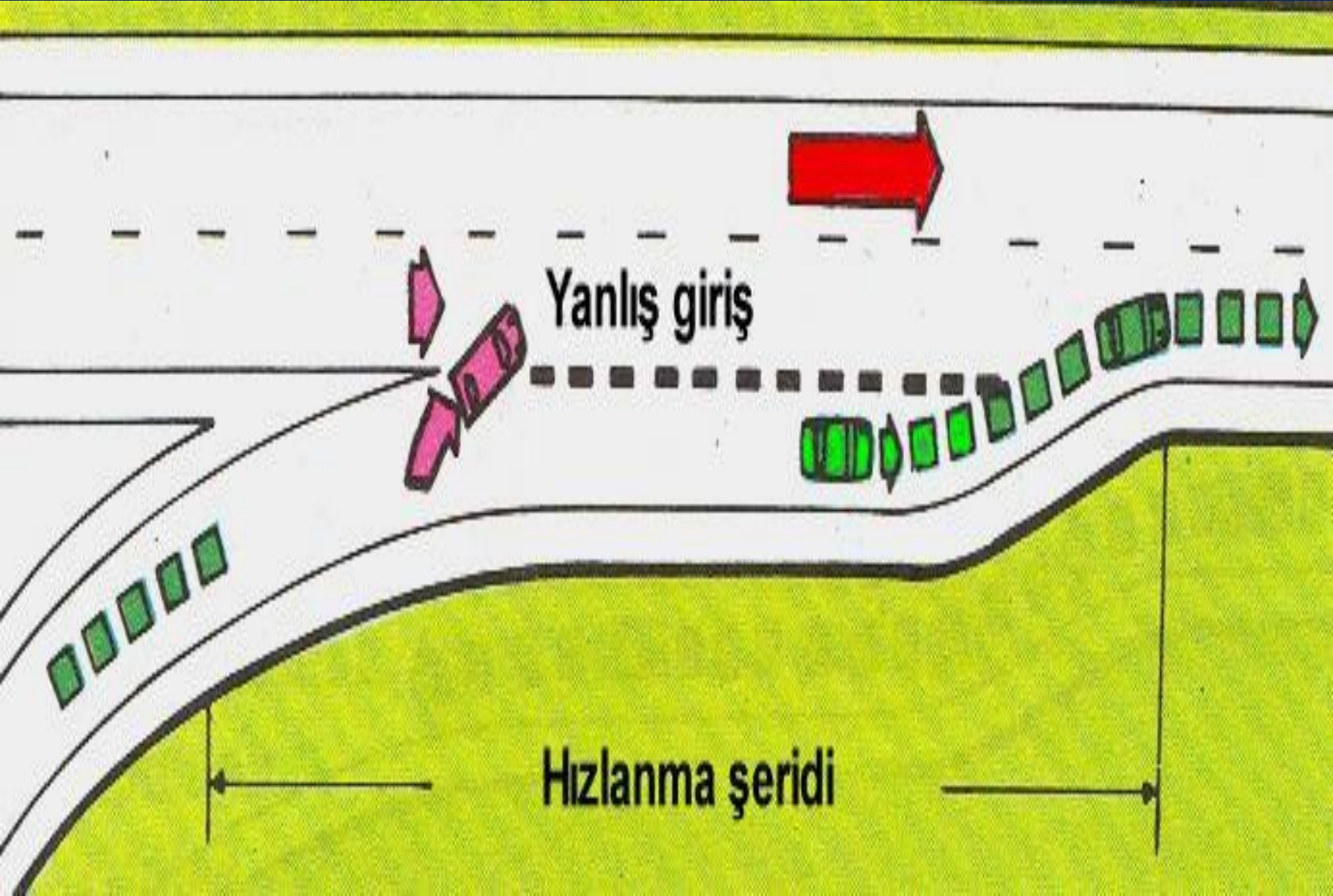




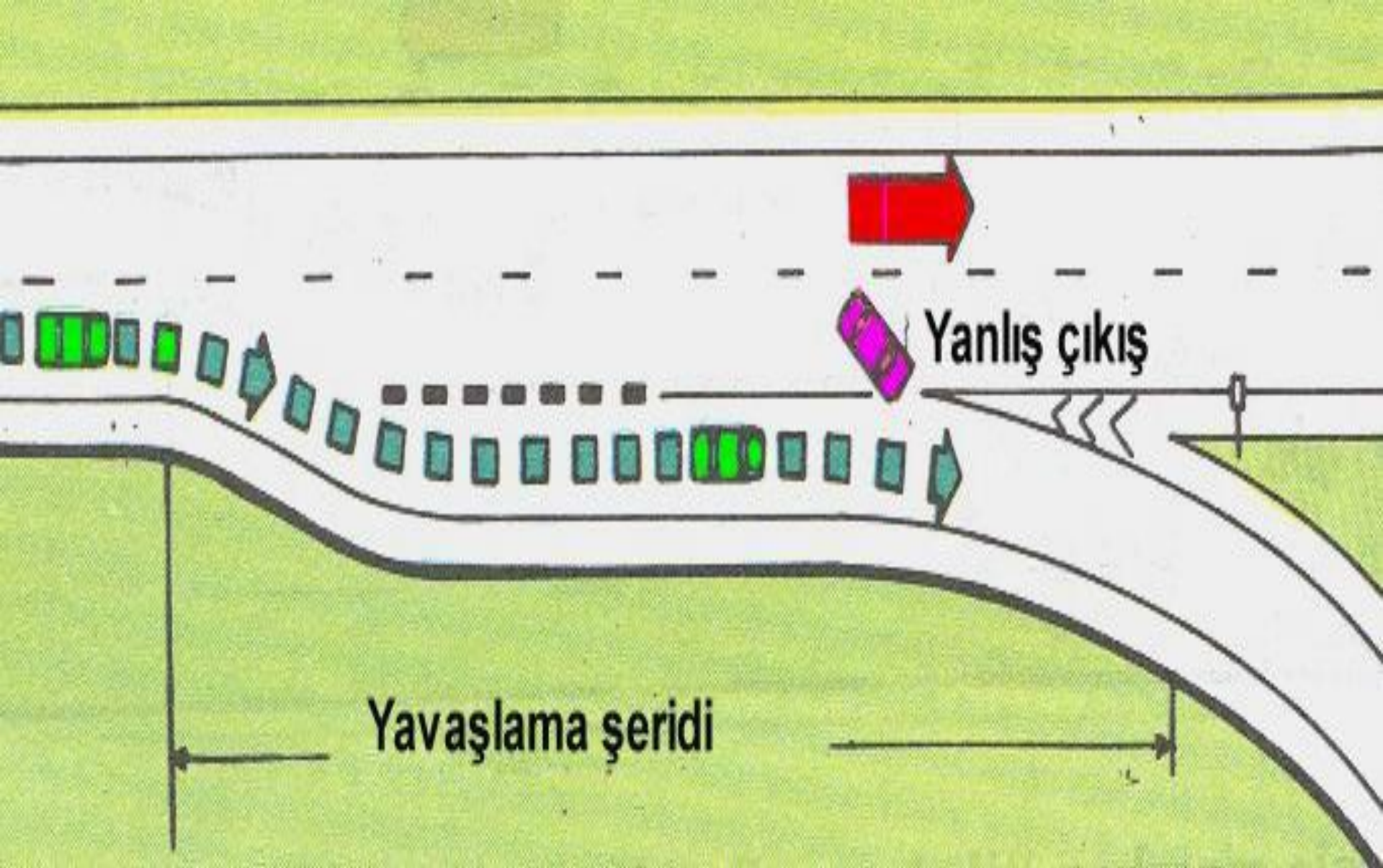
Kaza, arıza gibi zorunlu durum olmadıkça otoyollarda emniyet şeridinden gitmek yasaktır.

Otoyol otomatik geçiş sistemi (OGS), Kartlı geçiş sistemi(KGS) sistemden yararlanılır.

Otoyola giriş



OTO YOLDAN ÇIKIŞ





***TRAFİK VE ÇEVRE
BİLGİSİ
YOL ÇİZGİLERİ***


YOL ÇİZGİLERİ

Araçların karayolu üzerinde güvenli bir şekilde karşıdan karşıya geçmelerini sağlamak amacıyla yol kaplaması üzerine çizilen çizgilerdir.

BOYUNA KESİK ÇİZGİ:

Karayolunda tehlikelerin bulunmadığını, görüşün açık olduğunu çizgiler arasındaki aralıklar azalmaya başladıysa geçme yasağı olan kesime yaklaşıldığını Belirtir.





BOYUNA DEVAMLI ÇİZGİ: Karayolunda tehlikelerin bulunduğu, görüşün açık olmadığını belirtir. Bu şerit boyunca deęiştirme ve geme yapılmaz



**Geçmenin yasak
olduğu yerler**



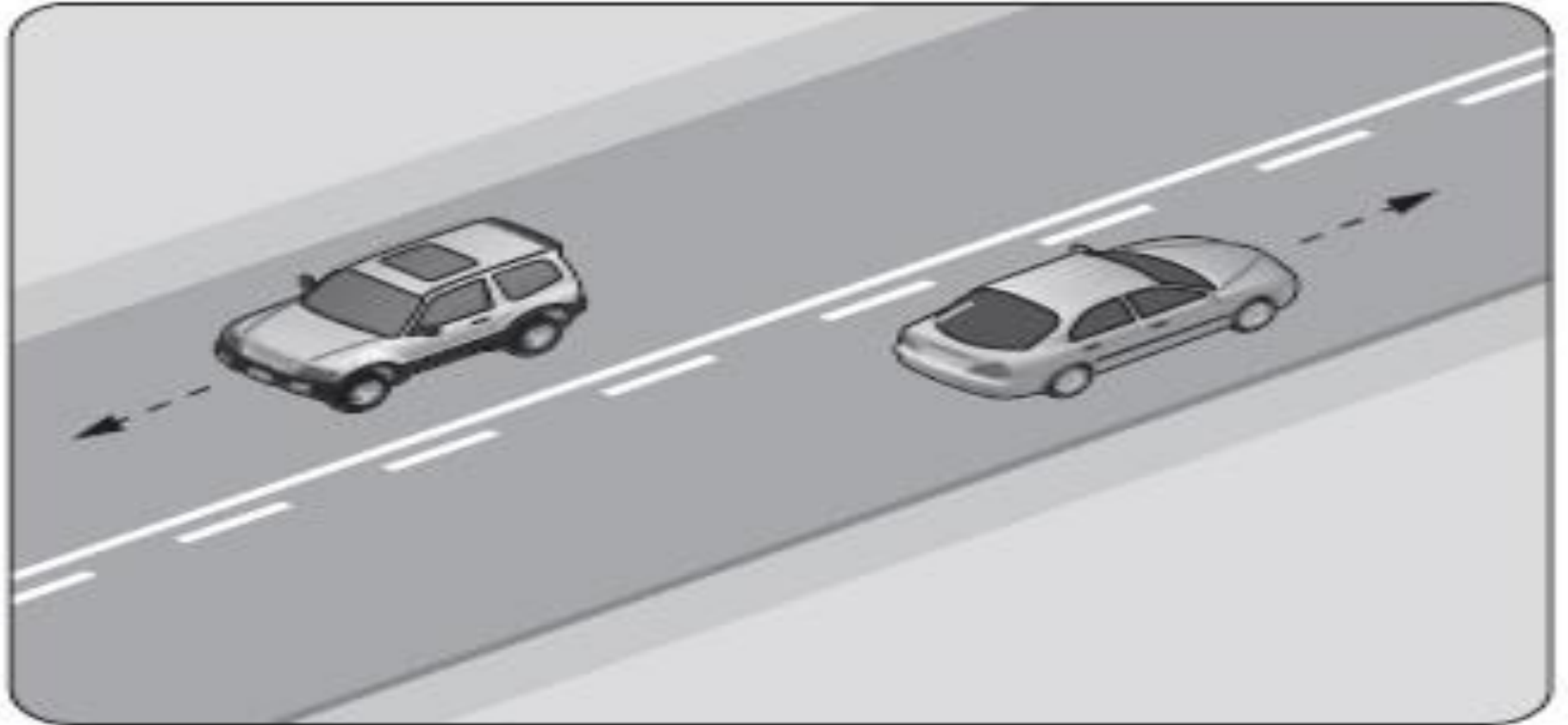
BOYUNA PARALEL İKİ DEVAMLIL ÇİZGİ:

Karayolunun bölünmüş yol olduğunu belirtir. Ayrıca refüj görevini görür. Bu çizgilerin olduğu kesimde karşı yönden gelen araçlara ait yol bölümüne geçilmez

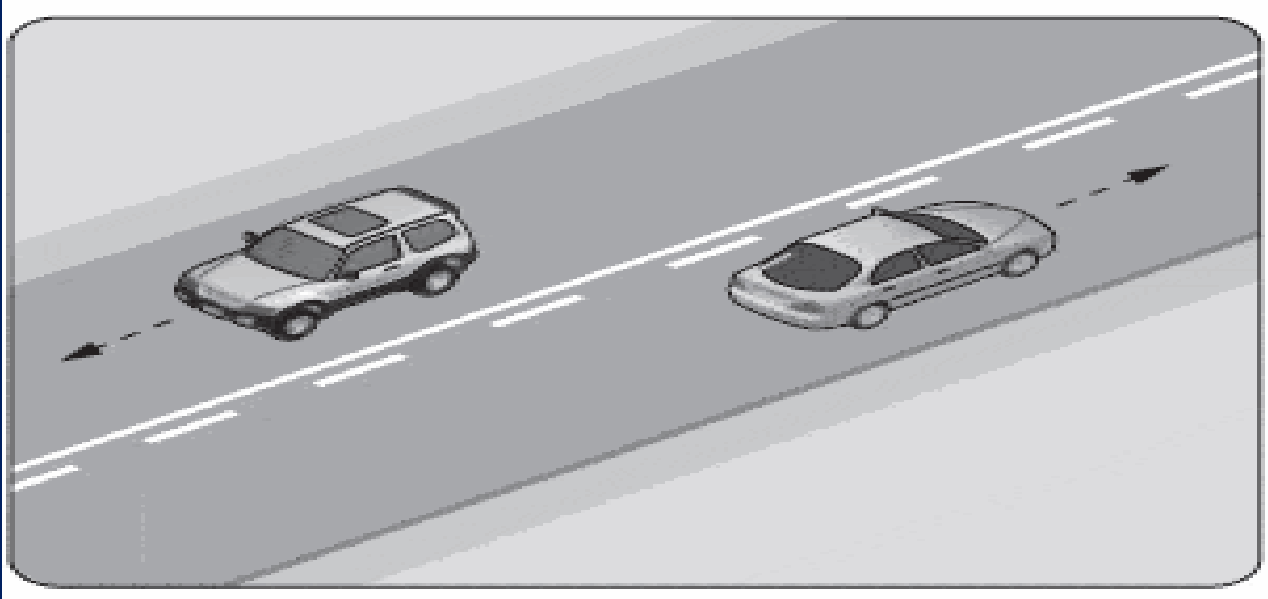


KESİK VE DEVAMLIL ÇİZGİ (YAN YANA İSE)

Bu çizgi boyunca araçlara en yakın olan çizginin anlamına göre hareket edilir. Kesikli çizgiye yakın olan araç şerit değiştirebilir, düz çizgiye yakın olan araç şerit değiştiremez.



Şekildeki kara yolu bölümünde, yan yana çizilmiş kesik ve devamlı yol çizgileri sürücülere aşağıdakilerden hangisini bildirir?



- A) Devamlı çizgi tarafındaki araçların şerit değiştirebileceğini**
- B) Kesik çizgi tarafındaki araçların şerit değiştirebileceğini**
- C) Çift yönlü yoldan tek yönlü yola girileceğini**
- D) İki şeritli yolun tek şeritli yola dönüşeceğini**



Trafik görevlisinin hangi hareketi "trafiği yavaşlatma" işaretidir?

A)



B)



C)



D)



**Kara Yolunda, Motorlu Veya
Motorsuz Bir Aracı Veya
Taşıtı Sevk Ve İdare Eden
Kişiyeye Ne Ad Verilir?**

A)şoför

B)sürücü

C)işleten

D)araç Sahibi

**Iřıklı trafik iřaret cihazında,
hangisinin yanması yolun trafięe
kapanmak üzere olduęunu
bildirir?**

A)Aralıklı yanıp sönen sarı ışık

**B)Aralıklı yanıp sönen kırmızı
ışık**

**C)Yeşil ışıktan sonra yanan sarı
ışık**

**D)Kırmızı ışıkla birlikte yanan
sarı ışık**

**Şekildeki Trafik
İşareti Neyi
Bildirir?**



- A) Ehlî hayvanların giremeyeceğini
- B) Ehlî hayvanların yola çıkabileceğini
- C) Vahşi hayvanların yola çıkabileceğini
- D) Hayvanla çekilen taşıtların yola çıkabileceğini

Trafik kuralının ihlal edildiđi tarihten geriye dođru bir yıl içinde, toplam 100 ceza puanını aştığı **birinci defa tespit edilen sürücülerin sürücü belgeleri kaç ay süre ile geri alınır?**

- **A) 2**
- **B) 3**
- **C) 6**
- **D) 7**

Tehlikeli madde taşıyan araç sürücüsü, yerleşim yeri dışındaki kara yolunda saatte 60 kilometre hızla seyrederken önündeki araçla arasında en az kaç metre mesafe bırakmalıdır?

- **A) 20**
- **B) 30**
- **C) 40**
- **D) 50**

Aşağıdakilerden hangisi araç geçmede uyulması gereken kurallardan biri değildir?

- A) Emniyet şeridini kullanarak öndeki aracı geçmek**
- B) Geçmeden önce sola dönüş ışığını yakmak**
- C) Karşı yönden gelen trafiği kontrol etmek**
- D) Başka araç tarafından geçilmiyor olmak**

Araçların yüklenmesine ilişkin usullere göre,yolcu ve eşya taşımalarında kullanılan araçların her yılın hangi tarihleri arasında kış lastiği kullanılması zorunludur?

- A) - 1 eylül- 1 ocak**
- B) - 1 ekim 1 şubat**
- C) - 1 kasım-1 mart**
- D) - 1 aralık 1 nisan**

**Zorunlu haller dışında
otoyollarda motorlu araçların
asgari(en az) hız sınırı kaç
saatte kaç kilometredir?**

A) - 15

B) - 35

C) - 40

D) - 50

**izin verilebilen azami yüklü ağırlığı
3500 kilogramdan fazla olan ve yük
taşımak için imal edilmiş olan
motorlu taşıta ne denir?**

- A. İş makinesi**
- B. Kamyon**
- C. Kamyonet**
- D. Yük aracı**

**Yerleşim yerleri içinde
kavşaklara kaç metre kala şerit
değiştirmek yasaktır?**

A. 20

B. 30

C. 40

D. 50

**Aşağıdakilerden hangisi
“tehlikeli viraj yön levhası”
anlamındadır?**


A)



B)



C)



D)



Sola dönüş yapacak olan sürücülerin aşağıdakilerden hangisini yapması yanlıştır?

A) Dar bir kavisle dönmesi

B) Döneceği yönü önceden işaretle bildirmesi

C) Dönüşünü tamamladıktan sonra hızına uygun şeride girmesi

D) Kurallara uygun olarak karşıya geçen yayalara ilk geçiş hakkını vermesi

Aşağıdakilerden hangisi Emniyet Genel Müdürlüğünün görevlerinden biri değildir?

- A) Araçların muayenesini yapmak**
- B) Duran ve akan trafiği düzenlemek ve yönetmek**
- C) Araçların tescil işlemlerini yaparak belge ve plakalarını vermek**
- D) El koyduğu trafik kazalarında trafik kaza tespit tutanağı düzenlemek**

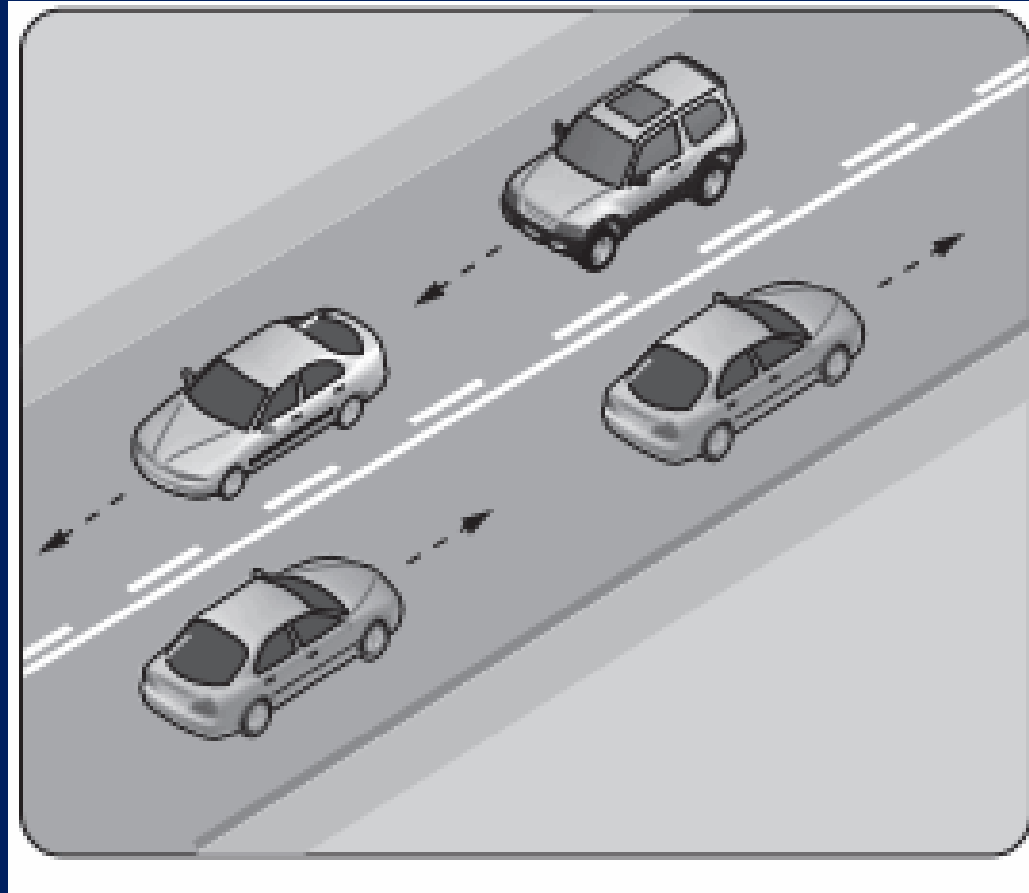
**Şekildeki trafik işareti
aşağıdakilerden hangisini
bildirir?**



- A) Geçme yasağı sonunu**
- B) Hız sınırlaması sonunu**
- C) Araç trafiğine kapalı yolu**
- D) Öndeki taşıtı geçme yasağını**

Şekildeki araçların seyrettiği taşıt yolunun çizgilerle ayrılmış her bir bölümüne ne ad verilir?

- A) Tali yol**
- B) Şerit**
- C) Bölünmüş yol**
- D) İki yönlü yol**



Şekildeki trafik işaretini gören sürücünün aşağıdakilerden hangisini yapması yanlıştır?



- A) Yolu kontrol etmesi**
- B) Aracını yavaşlatması**
- C) Takip mesafesini azaltması**
- D) O bölgeden dikkatli geçmesi**

Şekildeki trafik işaretine göre aşağıdakilerden hangisi yanlıştır?



- A) Yol yüzeyi arızalıdır.**
- B) Yolda tümsek vardır.**
- C) Yoldan yavaş geçilmesi gerekir.**
- D) Yolda yapım çalışması vardır.**

**Kara yolunda, ticari olarak
tescil edilmiş bir motorlu
taşıtı süren kişiye ne ad
verilir?**

A=Şoför

B=Sürücü

C=İşleten

D=Araç sahibi

Yapılan ölçüm sonucunda yasal sınırların üzerinde alkollü olarak araç kullandığı birinci defa tespit edilen sürücüye aşağıdaki işlemlerden hangisi uygulanır?



- A) Sadece para cezası verilir.**
- B) Sürücü belgesi 6 ay süreyle geri alınır.**
- C) Sürücü belgesi 5 yıl süreyle geri alınır.**
- D) Sürücü belgesine süresiz olarak el konur.**

Şekildeki trafik işareti neyi yasaklamaktadır?



- A) Sağa dönüşü**
- C) U dönüşünü**

- B) Sola dönüşü**
- D) Park etmeyi**

Şekildeki trafik işareti neyi ifade eder?



- A) Araç trafiğine kapalı yolu**
- B) Hız sınırlaması sonunu**
- C) Öndeki taşıtı geçme yasağını**
- D) Geçme yasağı sonunu**

Yerleşim yerleri dışında, kavşaklara kaç metre kala şerit değiştirmek yasaktır?

A) 150

B) 200

C) 250

D) 300

Aşağıdaki araçların görev sırasında bir kavşakta karşılaşmaları hâlinde, ilk geçiş hakkını hangisi kullanmalıdır?

- A) Cankurtaran**
- B) İtfaiye aracı**
- C) Trafik zabıta aracı**
- D) Sivil savunma aracı**

Aşağıdakilerden hangisi durmaya örnektir?

A) Park etmek

B) Kırmızı ışıktta beklemek

C) Yük boşaltmak

D) Yolcu indirmek ve bindirmek

Trafiğe çıkan bir araçta tescil belgesi ile birlikte hangisinin bulunması gerekir?

A) Noter satış belgesinin

B) Trafik belgesinin

C) İşletme belgesinin

D) Kara yolu uygunluk belgesinin

Otomobillerin trafiğe çıkarılabilmesi için aşağıdakilerden hangisinin yapılması zorunludur?

- A) Koltuk Ferdi Kaza sigortasının**
- B) Kasko sigortasının**
- C) Aracın bakımının**
- D) Zorunlu mali sorumluluk sigortasının**