

Ünite. 2

s.70

Trafik Mevzuatı

Trafiği Yöneten Ve Yönlendiren Elemanlar

Konu.4



TRAFİK POLİSİNİN HAREKETLERİ



**YOL KOLLARIN GÖSTERDİĞİ
YÖNDE TRAFİĞE AÇIK**

DUR

YAVAŞLA

HIZLAN

SAĞA ÇEK VE DUR



GECELEYİN GEÇ



GECELEYİN DUR



DÖNÜŞ İŞARETLERİ



YOLUN TRAFİĞE AÇIK OLMASI HALİ; Yolun Trafığe Kapalı Olması Hali;




Yolun Bütün Yönlere Kapalı Olması Hali;



TRAFİK GÖREVLİSİNİN EL HAREKETLERİ

**Taşıt veya yaya trafiğinin,
düzenli ve güvenli bir şekilde
çeşitli yönlere doğru
yönlendirilmesini sağlamak
amacıyla trafik polisinin
vereceği işaretlerle yön tayini
yapılır.**

Bir kavşakta, trafik görevlisi ile birlikte ışıklı trafik işaret cihazı da bulunuyorsa, sürücüler öncelikle hangisine uymak zorundadır?



- A) Trafik görevlisine**
- B) Işıklı trafik işaret cihazına**
- C) Yeşil ışık yanıyorsa, ışıklı trafik işaret cihazına**
- D) Kırmızı ışık yanıyorsa, ışıklı trafik işare**

Şekildeki trafik görevlisinin yapmış olduğu işaretin sürücüler için anlamı nedir?

- A) Dur
- B) Hızlan
- C) Yavaşla
- D) Sağa yanaş



Trafik görevlisinin hangi hareketi sürücüler için sağa yanaş ve dur talimatını içerir?



a



b



c



d

Trafik görevlisinin geceleyin ışıklı işaret çubuğunu şekildeki gibi hareket ettirmesinin sürücüler için anlamı nedir?



- A) Dur
- B) Hızlan
- C) Yavaşla
- D) Yön değiştir



YOLUN TRAFİĞE AÇIK OLMA HALİ:



Yol kolların gösterdiği yönde trafiğe açıktır. Trafik polisinin sırt ve göğüs kısmını bakan araçlar durup, beklemek zorundadır.

YOLUN TRAFİĞE KAPALI OLMA HALİ: Trafik polisinin duruşuna göre ön ve arka cephede kalan yol trafiğe kapalıdır. Bu pozisyonda kollardan her ikisi veya birisi yanlara doğru açılabilir gibi aşağıya doğru da bırakılabilir




TRAFİĞİN BÜTÜN YÖNLERE KAPALI OLMA HALİ:



Trafik polisinin sağ ve sol kollarından biri yukarda, diğeri aşağı pozisyonda ise bütün yönler trafiğe kapalıdır. Daha önce kendisine kapalı olan yolun açılacağı, açık olan yolun da kapanacağı anlamına gelir



Şekildeki trafik görevlisinin işaretine göre aşağıdakilerden hangisi doğrudur?



- A) Otobüs beklemeli
- B) Traktör beklemeli
- C) Otobüs ileri gitmeli
- D) Traktör geri gitmeli



***İŞIKLI
TRAFİK
İŞARET
CİHAZLARI***



Yaya ve tařıt trafiđinin dzenli ve gvenli bir řekilde akıřını sađlamak amacıyla gerekli yerlere konan ıřıklı trafik iřaretleridir

KIRMIZI

SARI

YEŐİL



KIRMIZI IŐIK:

**Yandıđı Sürece Yolun
Trafıđe Kapalı
Olduđunu Belirtir.
Bu IŐık Görüldüđünde
Durulur. Aksine Başka
İŐaret Yoksa Hareket
Edilmez.**



SARI IŐIK

***Uyarı anlamındadır,
Yanış sırasına göre
yolun trafięe
açılmak veya
kapanmak üzere
olduđunu gösterir***



İkaz mahiyetinde olup yanış sırasına göre yolun trafięe kapanmak veya açılmak üzere olduęunu gösterir.

- Bu ışık yandıęında, emniyetle durulamayacak kadar yaklaşılmış ise normal geçiş yapılır, aksi hâlde yaya geçidi işgal edilmeden durulur.

Yukarıda verilenler, ışıklı trafik işaret cihazında yanan hangi ışığın anlamını içerir?

- A) Sarı
- B) Yeşil
- C) Kırmızı
- D) Kırmızı oklu



YEŐIL IŐIK

**Yolun trafięe
aık olduęunu
bildirir**




Şekildeki gibi ışıklı trafik işaret cihazında, sarı ve kırmızı ışığın birlikte yanması sürücüye aşağıdakilerden hangisini bildirir?

- A) Yolda bakım çalışması olduğunu**
- B) İleride hemzemin geçit bulunduğunu**
- C) Yolun trafiğe açılmak üzere olduğunu**
- D) Yolun trafiğe kapanmak üzere olduğunu**



ARALIKLI YANIP SÖNEN

KIRMIZI IŞIK: Dur anlamındadır
Yolun açık ve uygun olduğu
anlaşıldıktan sonra Hareket
edilir



Aralıklı yanıp sönen
kırmızı ışık
DUR
levhası ile aynı anlamı
taşır.



Iřıklı trafik iřaret cihazında yanan hangi iřık, dur iřaret levhası anlamında olup gidi-lecek yolun açık olduđu görüldükten sonra yeniden hareket edilmesini bildirir?

A) Fasılalı olarak yanıp sönen kırmızı iřık

B) Fasılalı olarak yanıp sönen sarı iřık

C) Yaya figürlü yeřil iřık

D) Kırmızı oklu iřık



Aşağıdakilerin hangisinde durulur ve yol kontrol edildikten sonra geçilir?

A) Aralıklı yanıp sönen kırmızı ışıkta

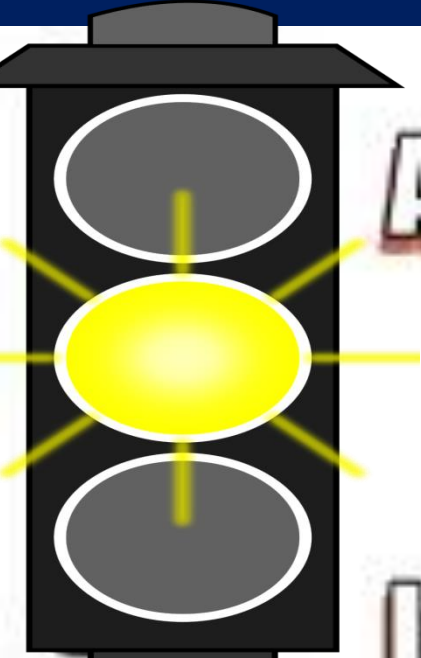
B) Aralıklı yanıp sönen sarı ışıkta

C) Kırmızı ışıkta

D) Sarı ışıkta



ARALIKLI YANIP SÖNEN
SARI IŞIK:Uyarı anlamındadır
Yavaş ve dikkatli geçilmesini
belirtir



Aralıklı yanıp sönen
sarı ışık
YOL VER
levhası ile aynı anlamı
taşır.



**Aralıklı yanıp sönen sarı ışık
aşağıdakilerden hangisiyle aynı
anlamı taşır?**

A)



B)



C)




D)



İŞIKLI OKLAR:

Dönüşleri düzenlemek amacıyla kullanılır.

Ok yönünde dönüş yapacak olanlar okun yeşil yanmasını beklemek zorundadır



Yayalar için yazılı, şekilli ışıkların yanı sıra yazılı ve sesli cihazlar da mevcuttur

Bazı yerlerdeki ışıklı trafik işaretlerinin direklerinde bulunan buton (düğme), yayalar tarafından kullanarak yayalar için yeşil ışık yanması sağlanabilir.



TRAFİK İŞARET LEVHALARI

TEHLİKE UYARI İŞARETLERİ

TRAFİK TANZİM İŞARETLERİ

MECBURİ YÖN GÖSTEREN İŞARETLER

TRAFİK BİLGİ İŞARETLERİ

DURAKLAMA VE PARK ETME

İŞARETLERİ

OTOYOL İŞARETLERİ

YAPIM BAKIM VE ONARIM İŞARETLERİ

TEHLİKE UYARI İŞARETLERİ

Tehlike uyarı işaretleri: Kara yolunu kullanan yayaları ve sürücüleri tehlikelere karşı uyarır. Tehlike uyarı işaretleri genel olarak eşkenar üçgen şeklinde olur.



Kontrolsüz demir
yolu geçidi



Kontrollü demir
yolu geçidi

TRAFİK TANZİM İŞARETLERİ



Mecburi yaya yolu



Bisiklet giremez

Trafik tanzim işaretleri: Kara yollarını kullanan yayalara ve sürücülere yasaklama ve sınırlamalar hakkında bilgi verir. Genel olarak daire şeklinde olan trafik tanzim işaretleri; trafikte öncelik, yasaklama, kısıtlama ve mecburiyet bildirir.

BİLGİ İŞARETLERİ

Bilgi işaretleri: Kara yollarını kullanan yaya ve sürücülere yol güzergâhında lazım olacak bazı bilgiler verir. Bilgi işaret levhaları kare şeklindeki standart levhalar ile değişken boyutlardaki levhalardan oluşur.



Hastane



Okul geçidi

LEVHANIN
ŞEKLİ VE ADI

LEVHANIN
ANLAMI

UYULMASI
GEREKEN KURALLAR

Sağa
Tehlikeli
Viraj

ileride
sağa,sola
dönemeçli bir
kesime
yaklaşıldığını
bildirir

- **Hız azaltılır.**
- **Geçme yasağına uyulur.**
- **Duraklama ve park etme yasağına uyulur.**
- **Şerit değiştirilmez**



SAĞA TEHLİKELİ VİRAJ



(T-1b) SOLA TEHLİKELİ VİRAJ



(T-2a) SAĞA TEHLİKELİ
DEVAMLI VİRAJLAR



(T-2b) SOLA TEHLİKELİ
DEVAMLI VİRAJLAR

Şekildeki trafik işaretinin anlamı nedir?



- A) Açılan köprü**
- B) Sola tehlikeli viraj**
- C) Soldan daralan kaplama**
- D) Sola tehlikeli devamlı viraj**

Şekildeki trafik işareti görüldüğünde ne yapılır?



- A) Hız sabit tutulur.
- B) Hız azaltılır, sola sinyal verilir.
- C) Hız artırılır, sağa sinyal verilir.
- D) Hız azaltılır, varsa geçme yasağına uyulur.

LEVHANIN ŞEKLİ VE ADI	LEVHANIN ANLAMI	DİKKAT EDİLMESİ VE UYULMASI GEREKEN KURALLAR
İKİ TARAFTAN DARALAN KAPLAMA	kaplamanın iki taraftan daralmış olduğunu bildirir	<ul style="list-style-type: none">• Hız azaltılır• Geçme yasağına uyulur• Şerit değiştirilmez• Karşıdan gelene yol verilir



(T-4a) HER İKİ TARAFTAN DARALAN KAPLAMA



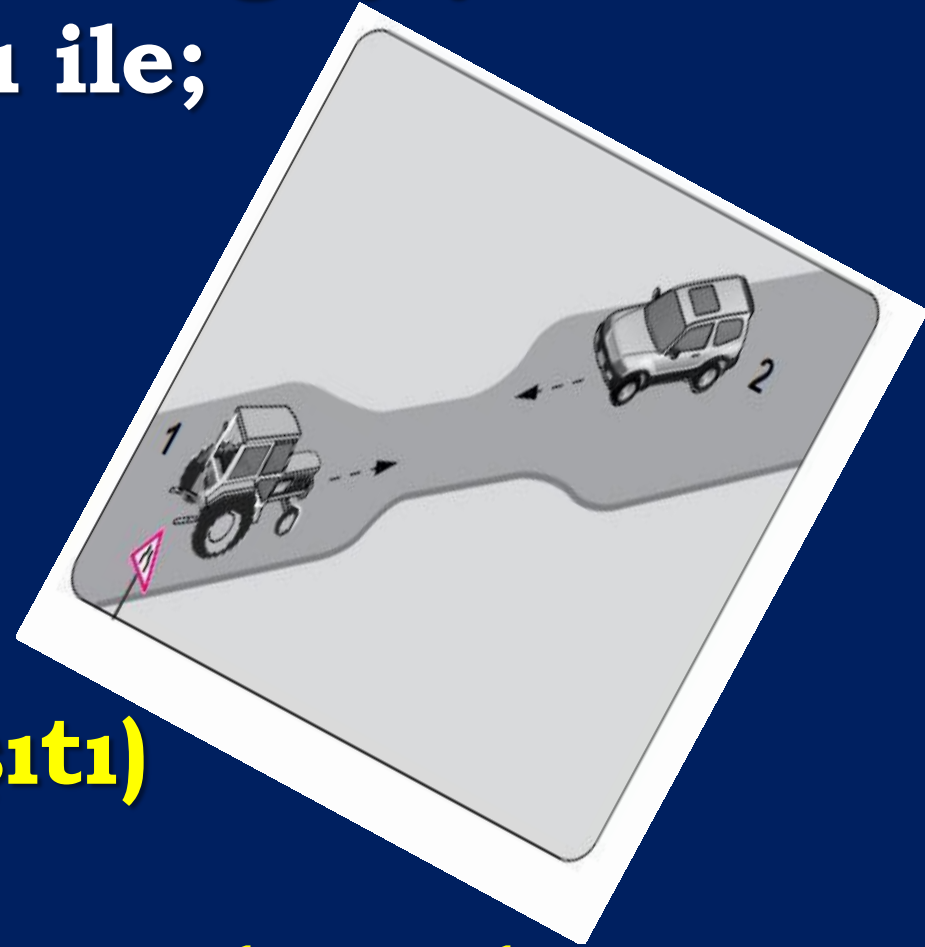
(T-4b) SAĞDAN DARALAN KAPLAMA



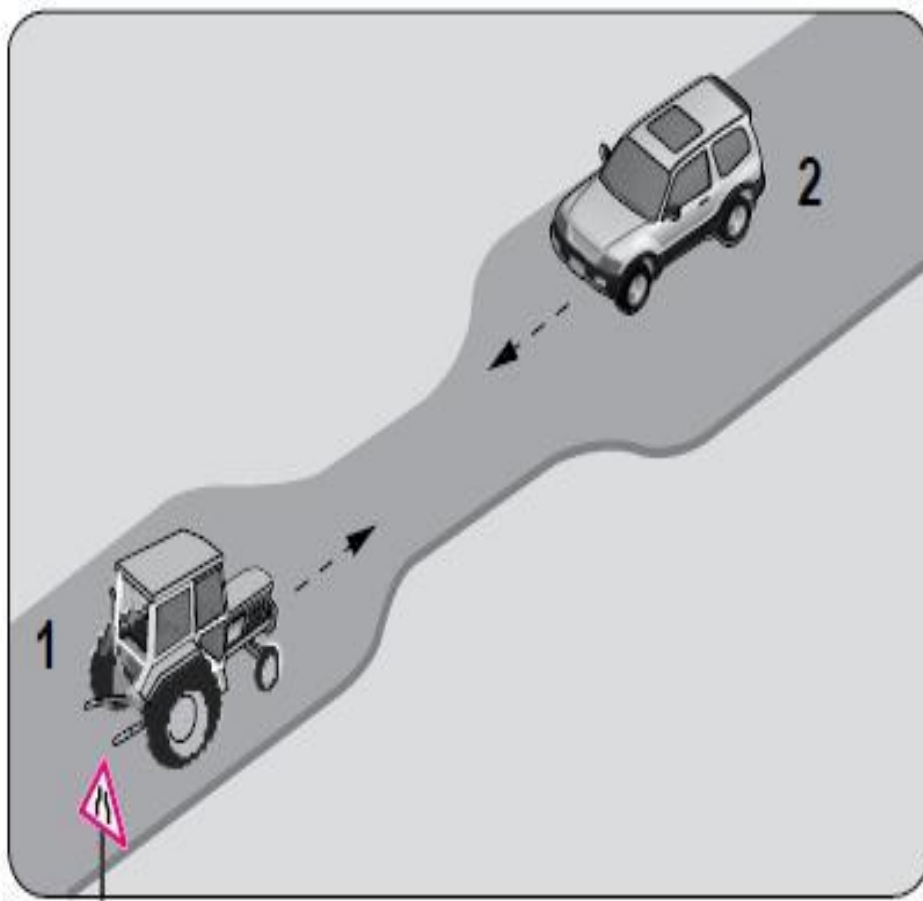
(T-4c) SOLDAN DARALAN KAPLAMA

Aksine bir işaret yoksa eğimsiz iki dar yolda aşağıdaki araçların karşılaşması halinde geçiş hakkı sırası ile;

- 1-Otomobil,**
- 2-Minibüs,**
- 3-Kamyonet**
- 4-Otobüs**
- 5-Kamyon**
- 6-Traktör (arazi taşıtı)**
- 7-İş makinesi**
- 8-En son motorsuz araçlarıdır.**



Şekildeki gibi eğimsiz iki yönlü dar yoldaki karşılaşmada 1 numaralı aracın sürücüsü ne yapmalıdır?



- A) U dönüşü yapmalı**
- B) 2 numaralı araca yol vermeli**
- C) İlk geçiş hakkını kendisi kullanmalı**
- D) 2 numaralı aracın sürücüsünü ikaz edip durdurmalı**



LEVHANIN ŞEKLİ VE ADI	LEVHANIN ANLAMI	DİKKAT EDİLMESİ VE UYULMASI GEREKEN KURALLAR
TEHLİKELİ EĞİM (İNİŞ)	iniş eğimli yola girileceğini bildirir	<ul style="list-style-type: none">Hız azaltılır İniş eğimli yolda çıkışta kullanılan vites geçilir



(T-3a) TEHLİKELİ EĞİM (İniş)



(T-3b) TEHLİKELİ EĞİM (Çıkış)

LEVHANIN
ŞEKLİ VE ADI

LEVHANIN
ANLAMI

DİKKAT EDİLMESİ VE UYULMASI
GEREKEN KURALLAR

KASISLI YOL

İleride kasis
hendek tümsek
gibi yol
bozukluklarının
olduğunu bildirir

- Hız azaltılır
- Başka işaretlerle bildirilen diğer hususlara uyulur
- Uygun bir hızla geçilir



(T-7) KASISLI YOL

- Hız azaltılır
- Başka işaretlerle bildirilen diğer hususlara uyulur
- Uygun bir hızla geçilir

Aşağıdakilerden hangisi kasisli yol işaretidir?

A)



B)



C)



D)



Şekildeki trafik işareti aşağıdakilerden hangisini bildirir?



- A) Kasisli yola girileceğini**
- B) Yolda çalışma olduğunu**
- C) Yolun trafiğe kapalı olduğunu**
- D) Motorlu taşıtların giremeyeceğini**



LEVHANIN
ŞEKLİ VE ADI

LEVHANIN
ANLAMI

DİKKAT EDİLMESİ VE UYULMASI
GEREKEN KURALLAR

KAYGAN YOL

Yağmur, kar, buz
gibi sebeplerden
yolun kaygan
olduğunu belirtir

- **Hız azaltılır**
- **Etkili fren yapılmaz**
- **Direksiyon sert bir şekilde kırılmaz**



**Şekildeki trafik işareti
hangi yol bölümünde
bulunur?**

- A) Virajlı**
- B) Eğimli**
- C) Kasisli**
- D) Kaygan**



LEVHANIN
ŞEKLİ VE ADI

LEVHANIN
ANLAMI

DİKKAT EDİLMESİ VE
UYULMASI
GEREKEN KURALLAR

GEVŞEK
MALZEMELİ
ZEMİN



Karayolunun
bu kesiminde
gevşek
malzemenin
olduğu, trafik
etkisi ile
fırlaya
bileceğini
bildirir

- Hız azaltılır
- Etkili fren yapılmaz
- Araç takip mesafesi artırılır



**ÖNDEKİ TAŞITI
70 METREDEN
DAHA YAKIN
TAKİP
EDİLEMEZ.**

Şekildeki tehlike uyarı işaretini gören sürücü aşağıdakilerden hangisini yapmalıdır?



- A) Banketten gitmeli**
- B) Takip mesafesini artırmalı**
- C) Hızını artırarak öndeki aracı geçmeli**
- D) Acil uyarı ışıklarını yakarak derhâl durmalı**



LEVHANIN
ŞEKLİ VE ADI

LEVHANIN
ANLAMI

DİKKAT EDİLMESİ VE
UYULMASI
GEREKEN KURALLAR

GEVŞEK ŞEV



Yarım
şevden yol
üzerine
düşmüş veya
akmış
malzeme
olabileceğini
bildirir

Hız azaltılır
Duraklama ve park
yapılmaz
Yola düşmüş taşlar
olabileceği düşünülür





LEVHANIN
ŞEKLİ VE ADI

LEVHANIN
ANLAMI

DİKKAT EDİLMESİ VE
UYULMASI
GEREKEN KURALLAR

YAYA GEÇİDİ



Yaya
geçidine
yaklaşıldığı
nı belirtir

- Hız azaltılır
- Geçitten geçen veya geçmek üzere olan yayalara ilk geçiş hakkı verilir

LEVHANIN
ŞEKLİ VE ADI

LEVHANIN
ANLAMI

DİKKAT EDİLMESİ VE
UYULMASI
GEREKEN KURALLAR

OKUL GEÇİDİ



0

**Okul
geçidine
yaklaşıldığı
nı belirtir**

- **Hız azaltılır**
- **Geçitten geçen
veya geçmek üzere
olan yayalara
ilk geçiş hakkı verilir**

**Şekildeki trafik işareti
aşağıdakilerden hangisine
yaklaşıldığını bildirir?**



- A) Okul geçidine
- B) Yürüyüş yoluna
- C) Gençlik kampına
- D) Alt veya üst geçitlere



LEVHANIN
ŞEKLİ VE ADI

LEVHANIN
ANLAMI

DİKKAT EDİLMESİ VE
UYULMASI
GEREKEN KURALLAR

VAHŞİ
HAYVANLAR
GEÇEBİLİR



Vahşi
hayvanların
yol eksenine
dik olarak
geçebileceği
ni bildirir

- **Hız azaltılır**
- **Gerekirse durulur**
- **Yola çıkan hayvanın yanıtıcı olabileceği düşünülür**

LEVHANIN
ŞEKLİ VE ADI

LEVHANIN
ANLAMI

DİKKAT EDİLMESİ VE
UYULMASI
GEREKEN KURALLAR

EHLİ
HAYVANLAR
GEÇEBİLİR



Ehli
hayvan
sürülerinin
yol
eksenine
dik olarak
geçebilece
ğini bildirir

- **Hız azaltılır**
- **Gerekirse durulur**
- **Yola çıkan hayvanın yanıtıcı olabileceği düşünülür**



LEVHANIN
ŞEKLİ VE ADI

LEVHANIN
ANLAMI

DİKKAT EDİLMESİ VE
UYULMASI
GEREKEN KURALLAR

YOLDA ÇALIŞMA



Yolda yapım,
bakım, onarım
çalışmalarının
olduğunu
bildirir

- Hız azaltılır
- Diğer işaretler de
konulmuşsa
uyulur



DUR

Fedaiye Mahallesi

←

DİKKAT
YOL YAPIMI

LEVHANIN
ŞEKLİ VE ADI

LEVHANIN
ANLAMI

DİKKAT EDİLMESİ VE
UYULMASI
GEREKEN KURALLAR

İŞIKLI İŞARET
CİHAZI



İşiklı trafik
işaretleri ile
kontrollü bir
kavşağa
gelindiğini
belirtir

- **Hız azaltılır**
- **Kavşaklarda
ki şartlara
uyulacak
şekilde
davranılır**

LEVHANIN
ŞEKLİ VE ADI

LEVHANIN
ANLAMI

DİKKAT EDİLMESİ VE UYULMASI
GEREKEN KURALLAR

**YANDAN
RÜZGAR**



İlerde yol
eksenine dik
olarak esen
rüzgarın araç
kullanmayı
etkileyecek
şiddette olduğunu
bildirir

- **Hız azaltılır**
- **Geçme yasağına uyulur**
- **Direksiyon sıkı tutulur**

Şekildeki trafik işaretini gören sürücü, aşağıdakilerde hangilerini yapmalıdır?



- I. Hızını artırmalı**
- II. Hızını azaltmalı**
- III. Öndeki araçları geçmekten kaçınmalı**

- A) Yalnız I
- B) I ve II
- C) II ve III
- D) I, II ve III




LEVHANIN
ŞEKLİ VE ADI

LEVHANIN
ANLAMI

DİKKAT EDİLMESİ VE
UYULMASI
GEREKEN KURALLAR

İKİ YÖNLÜ
TRAFİK



Bölünmüş bir yoldan iki yönlü bir yola girileceğini veya tek yönlü yolun geçici olarak iki yönlü trafiğe açılmış olduğunu bildirir

- Hız, yol kenarındaki hız levhasına göre ayarlanır
- Diğer işaretlerle konulmuş olan uyarılara uyulur

LEVHANIN
ŞEKLİ VE ADI

LEVHANIN
ANLAMI

DİKKAT EDİLMESİ VE
UYULMASI
GEREKEN KURALLAR

DİKKAT



**Karayolunda
tehlike ve uyarı
işaretleri ile
belirtilenlerin
dışında bir
tehlike
olduğunu
bildirir**

**• Hız azaltılır
• İşaret
Levhalarında
aki
uyarılarla
dikkat edilir**

LEVHANIN
ŞEKLİ VE ADI

LEVHANIN
ANLAMI

DİKKAT EDİLMESİ VE
UYULMASI
GEREKEN KURALLAR

DÖNEL KAVŞAK



**Dönel
kavşağa
yaklaşmakta
olduğunu
bildirir**


- Hız azaltılır**
- Geçiş önceliği dönel kavşak içindeki araçlara verilir**

LEVHANIN
ŞEKLİ VE ADI

LEVHANIN
ANLAMI

DİKKAT EDİLMESİ VE
UYULMASI
GEREKEN KURALLAR

KONTROLSÜZ
KAVŞAK



**Karayolunda
ileride polis
veya ışıklı trafik
işaretleri ile
kontrolü
olmayan
kavşak
bulduğunu
bildirir**

- **Hız azaltılır**
- **İlk geçiş
hakkı sağdaki
taşıtlara
verilir**
- **Güvenli geçiş yapılır**

Şekildeki Trafik İşareti Neyi Bildirir?




- A) Dönel kavşağa yaklaşıldığını
- B) Kontrolsüz kavşağa yaklaşıldığını
- C) Demir yolu geçidine yaklaşıldığını
- D) Ana yol - tali yol kavşağına yaklaşıldığını

LEVHANIN
ŞEKLİ VE ADI

LEVHANIN
ANLAMI

DİKKAT EDİLMESİ VE UYULMA
GEREKEN KURALLAR

ANAYOL - TALİ YOL
KAVŞAĞI



**Ana yol ile
kesişen tali
yol
kavşağının
olduğunu
bildirir**

- **Hız azaltılır**
- **Sağda veya solda bulunan tali yollardaki araçlara dikkat edilir**
- **Bağlantı yolundaki araçlara dikkat edilerek geçiş yapılır**

LEVHANIN
ŞEKLİ VE ADI

LEVHANIN
ANLAMI

DİKKAT EDİLMESİ VE
UYULMASI
GEREKEN KURALLAR

ANAYOL - TALİ
YOL KAVŞAĞI



**Anayola
sağdan
birleşen tali
yolun
olduğunu
bildirir**


- **Hız azaltılır**
- **Sağda veya solda bulunan tali yollardaki araçlara dikkat edilir**
- **Bağlantı yolundaki araçlara dikkat edilerek geçiş yapılır**

LEVHANIN
ŞEKLİ VE ADI

LEVHANIN
ANLAMI

DİKKAT EDİLMESİ VE UYULMASI
GEREKEN KURALLAR

ANAYOL - TALİ
YOL KAVŞAĞI



**Anayola
soldan
birleşen tali
yolun
olduğunu
bildirir**


- **Hız azaltılır**
- **Sağda veya solda bulunan tali yollardaki araçlara dikkat edilir**
- **Bağlantı yolundaki araçlara dikkat edilerek geçiş yapılır**

LEVHANIN
ŞEKLİ VE ADI

LEVHANIN
ANLAMI

DİKKAT EDİLMESİ VE UYULMASI
GEREKEN KURALLAR

ANAYOL TALİ
YOL KAVŞAĞI



**Bölünmüş
karayolu veya
köprülü
kavşaklarda
tek yönlü
olarak akan
trafiğe önce
sağdan sonra
da soldan
bağlantı
yolu olduğunu
bildirir**


- **Hız azaltılır**
- **Sağda veya solda
bulunan tali
yollardaki araçlara
dikkat edilir**
- **Bağlantı yolundaki
araçlara dikkat
edilerek geçiş
yapılır**

LEVHANIN
ŞEKLİ VE ADI

LEVHANIN
ANLAMI

DİKKAT EDİLMESİ VE
UYULMASI
GEREKEN KURALLAR

ANAYOL TALİ
YOL KAVŞAĞI



**Bölünmüş
karayolu veya
köprülü
kavşaklarda tek
yönlü olarak
akan trafiğe
önce soldan
sonra da
sağdan bağlantı
yolu olduğunu
bildirir**


- **Hız azaltılır**
- **Solda veya sağda
bul
unan tali yollardaki
araçlara dikkat
edilir.**
- **Bağlantı yolundaki
araçlara dikkat
edilerek geçiş
yapılır**

LEVHANIN
ŞEKLİ VE ADI

LEVHANIN
ANLAMI

DİKKAT EDİLMESİ VE
UYULMASI
GEREKEN KURALLAR

SAĞDAN ANAYOLA
GİRİŞ



**Bölünmüş
karayolu veya
köprülü
kavşaklarda
tek yönlü
olarak akan
trafiğe sağdan
bağlantı yolu
olduğunu
bildirir**


- **Hız azaltılır**
- **Sağda veya solda
bulunan tali
yollardaki
araçlara dikkat
edilir**
- **Bağlantı yolundaki
araçlara dikkat
edilerek geçiş
yapılır**

LEVHANIN
ŞEKLİ VE ADI

LEVHANIN
ANLAMI

DİKKAT EDİLMESİ VE
UYULMASI
GEREKEN KURALLAR

SOLDAN
ANAYOLA GİRİŞ



**Bölünmüş
karayolu veya
köprülÜ
kavşaklarda
tek yönlü
olarak akan
trafiğe soldan
bağlantı yolu
olduğunu
bildirir**

- **Hız azaltılır**
- **Sağda veya solda
bulunan tali
yollardaki araçlara
dikkat edilir**
- **Bağlantı yolundaki
araçlara dikkat
edilerek geçiş
yapılır**

Aşağıdakilerden Hangisi Ana Yol - Tali Yol Kavşağını Bildiren Trafik İşaret Levhalarından Biri Değildir?




LEVHANIN
ŞEKLİ VE ADI

LEVHANIN
ANLAMI

DİKKAT EDİLMESİ VE
UYULMASI
GEREKEN KURALLAR

KONTROLLÜ
DEMİRYOLU
GEÇİDİ



**Bariyer veya
başka bir
techizatla
kontrollü
demiryolu
olduğunu
bildirir**

- **Hız azaltılır**
- **Bariyer kapalı
ise durulur,
açık ise geçilir**

Aşağıdaki trafik işaretlerinden hangisi kontrollü demir yolu geçidine yaklaşıldığını bildirir?




A



C



B



D

LEVHANIN
ŞEKLİ VE ADI

LEVHANIN
ANLAMI

DİKKAT EDİLMESİ VE
UYULMASI
GEREKEN KURALLAR

KONTROLSÜZ
DEMİRYOLU
GEÇİDİ



Bariyer veya
başka bir
teçhizatla
kontrol
edilmeyen
demiryolu
olduğunu
bildirir

- Hız azaltılır
- Demiryolu kontrol edilir, tren gelmiyor ise geçilir

Şekildeki trafik işareti sürücüye neyi bildirir?



- A) Kontrollü demir yolu geçidini**
- B) Kontrolsüz demir yolu geçidini**
- C) Tramvay hattı ile oluşan kavşağı**
- D) Demir yolu köprüsüne yaklaşıldığını**




LEVHANIN
ŞEKLİ VE ADI

LEVHANIN
ANLAMI

DİKKAT EDİLMESİ VE
UYULMASI
GEREKEN KURALLAR

KONTROLSÜZ
DEMİRYOLU GEÇİDİ
(Tek Hat)



**Tek hatlı
demiryolu
geçidine
gelindiğini
bildirir**


- **Araç durdurulur**
- **İlk geçiş hakkı demiryolu taşıtlarına verilir**

LEVHANIN
ŞEKLİ VE ADI

LEVHANIN
ANLAMI

DİKKAT EDİLMESİ VE
UYULMASI
GEREKEN KURALLAR

KONTROLSÜZ
DEMİRYOLU
GEÇİDİ
(Enaz 2 Hat)



İki veya
daha fazla
hatlı
demiryolu
geçidine
gelindiğini
bildirir

- Araç durdurulur
- İlk geçiş hakkı demiryolu taşıtlarına verilir

LEVHANIN
ŞEKLİ VE ADI

LEVHANIN
ANLAMI

DİKKAT EDİLMESİ VE
UYULMASI
GEREKEN KURALLAR

GİZLİ BUZLANMA




**Yol
yüzeyinde
gizli
buzlanma
olabileceğini
ve bu
nedenle
aracın
kayarak
kontrolden
çıkabileceğini
i bildirir**

**•Hız azaltılır.
•Seyir sırasında
aracın kaymasını
önleyecek önlemler
alınarak dikkatle araç
sürülür.**

Şekildeki trafik işaretinin anlamı nedir?

- A) Gevşek şev**
- B) Dönel kavşak**
- C) Yandan rüzgâr**
- D) Gizli buzlanma**



Trafik Kazalarında İnsan, Araç, Yol Ve İklim Koşulları Etkili Olmaktadır.”

Buna göre, aşağıdaki trafik işaretlerinden hangisi iklim koşullarından kaynaklanan bir tehlike olabileceğini bildirir?



A



B



C



D

LEVHANIN
ŞEKLİ VE ADI

LEVHANIN
ANLAMI

DİKKAT EDİLMESİ VE
UYULMASI
GEREKEN KURALLAR

KÖPRÜ BAŞI
LEVHALARI
(Sol-Sağ)




**Köprüye
gelindiği
ni bildirir**

- **Hız azaltılır**
- **Karşıdan gelen araçlar ve köprü genişliği dikkate alınır**

**Kara yolunun sađ ve soluna konan
şekildeki trafik işaretleri,
sürücülere aşağıdakilerden
hangisine yaklaşıldığını bildirir?**

- A) Kavşağa**
- B) Köprüye**
- C) Tali yola**
- D) Demir yoluna**



LEVHANIN
ŞEKLİ VE ADI

LEVHANIN
ANLAMI

DİKKAT EDİLMESİ VE UYULMASI
GEREKEN KURALLAR

ENGEL İŞARETİ



Yapım onarım
gibi nedenlerden
trafiğe kapalı şerit
veya şeritleri bildirir

- Hız azaltılır
- İşaret levhalarına uyulur



LEVHANIN
ŞEKLİ VE ADI

LEVHANIN
ANLAMI

DİKKAT EDİLMESİ VE
UYULMASI
GEREKEN KURALLAR

**TEHLİKELİ VİRAJ
ÖNÜ
LEVHALARI**

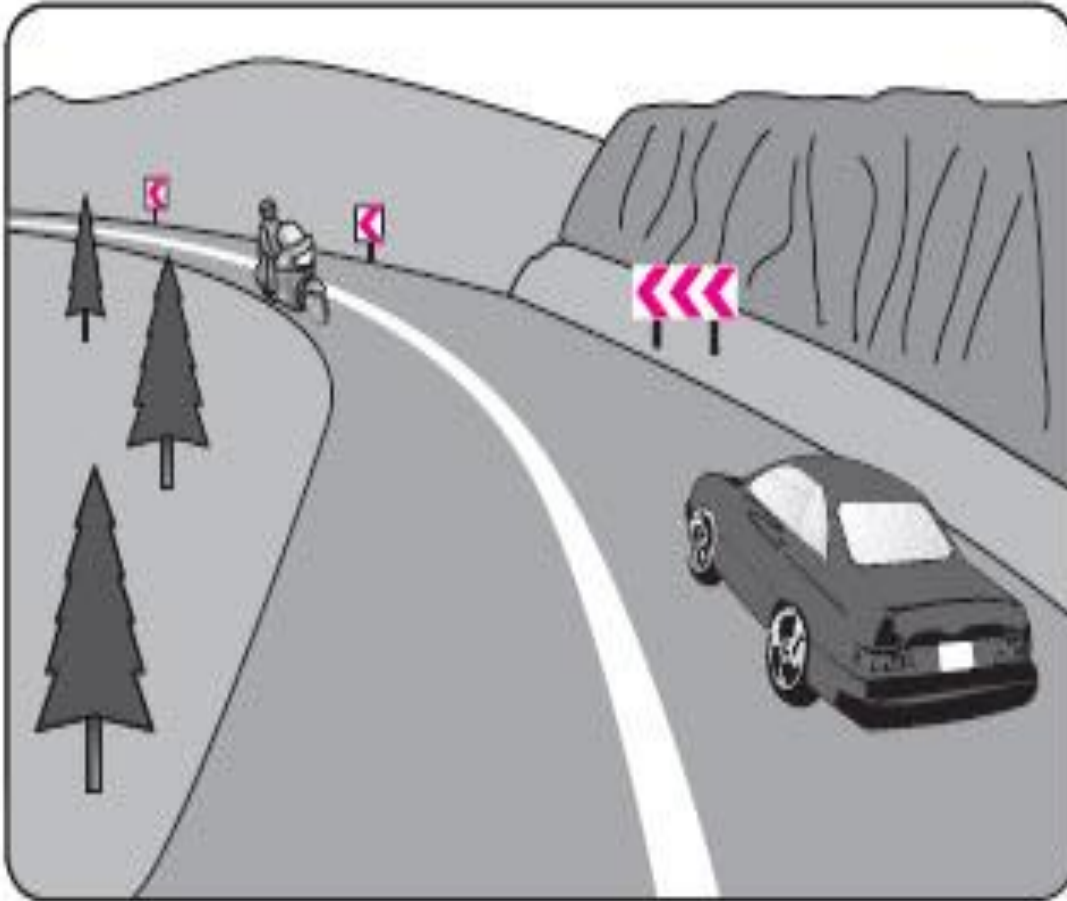


**Tehlikeli viraja
yaklaşılmakta
olunduğunu
bildirir**

**Hız azaltılır
Araç geçilmez
gece ise selektör
yapılarak işaret
verilir**



Şekildeki devamlı yol çizgisi, sürücülere aşağıdakilerden hangisini bildirir?



- A) Öndeki araçların geçilemeyeceğini
- B) Hiçbir sebeple durulamayacağını
- C) Sağ şeritten gidilemeyeceğini
- D) Karşı şeride geçilebileceğini



LEVHANIN
ŞEKLİ VE ADI

LEVHANIN
ANLAMI

DİKKAT EDİLMESİ VE UYULMASI
GEREKEN KURALLAR

Refüj başı
ek levhası



Bölünmüş
yollarda refüj
başına konan
“sağdan
gidiniz”
levhasının
anlamını
artırır.


- Hız azaltılır
- Dikkatli gidilir

LEVHANIN
ŞEKLİ VE ADI

LEVHANIN
ANLAMI

DİKKAT EDİLMESİ VE
UYULMASI
GEREKEN KURALLAR

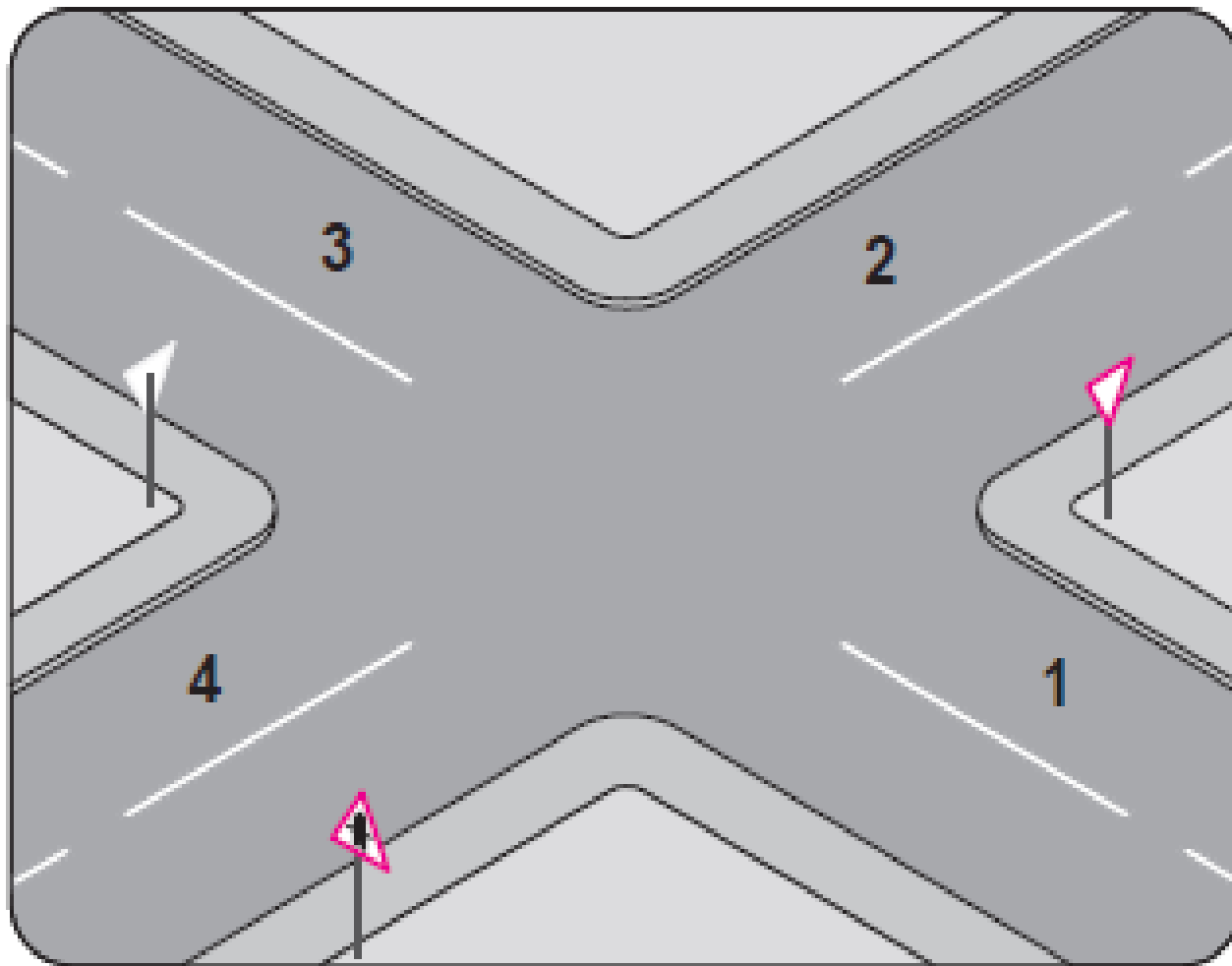
YOL VER



**Tali yoldan
ana yol
kavşağına
gelindiğini
bildirir**

- **Hız azaltılır**
- **Gerekirse durulur**
- **Ana yoldan
geçen araçlara
ilk geçiş hakkı
verilir**

Şekle göre hangi numaralı yollar tali yoldur?




- A) 1 - 2
- B) 1 - 3
- C) 2 - 4
- D) 3 - 4



Şekildeki trafik işaretinin anlamı nedir?

- A) Yol ver
- B) İleri mecburi yön
- C) Girişi olmayan yol
- D) Taşıt trafiğine kapalı yol



LEVHANIN
ŞEKLİ VE ADI

LEVHANIN
ANLAMI

DİKKAT EDİLMESİ VE UYULMASI
GEREKEN KURALLAR

DUR



Tali yoldan
ana yol
kavşağına
gelindiğini
bildirir

- Kavşak girişinde durulur
- Ana yoldan geçen araçlara ilk geçiş hakkı verilir, daha sonra kavşağa verilir

Aşağıdaki trafik işaretlerinden hangisi tali yolda bulunur?



LEVHANIN
ŞEKLİ VE ADI

LEVHANIN
ANLAMI

DİKKAT EDİLMESİ VE
UYULMASI
GEREKEN KURALLAR

KARŞIDAN
GELENE YOL
VER




İki aracın
geçemeyeceği
kadar daralmış
yolda karşıdan
gelen araca yol
verileceğini
bildirir

• Karşı yönden
gelen araç
geçtikten sonra
yola devam
edilir


Aşağıdakilerden hangisi karşıdan gelene yol ver anlamındadır?



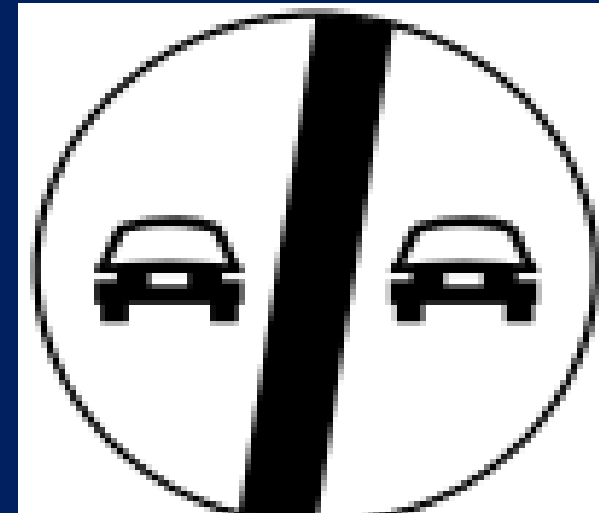
A



C



B



D

LEVHANIN
ŞEKLİ VE ADI

LEVHANIN
ANLAMI

DİKKAT EDİLMESİ VE
UYULMASI
GEREKEN KURALLAR

TAŞIT GİREMEZ



Her türlü
motorlu
motorsuz
taşıtların
girmesinin
yasak
olduğunu
bildirir

•Bu işaretlerin
bulunduğu
bölgelere araçla
girilmemelidir

LEVHANIN
ŞEKLİ VE ADI

LEVHAN
IN
ANLAMI

DİKKAT EDİLMESİ VE UYULMASI
GEREKEN KURALLAR


TAŞIT
TRAFİĞİNE
KAPALI YOL




Yolun her
iki yöndeki
taşıt
trafiğine
kapalı
olduğunu
bildirir

yolun her iki
yöndeki taşıt
trafiğine kapalı
olduğunu
bildirir.

• Bu işaretlerin
bulunduğu
bölgelere araçla
girilmemelidir



I



II

Şekildeki trafik işaretlerinin anlamları sırasıyla hangi seçenekte doğru olarak verilmiştir?

- A) I. Yol ver
II. Girişi olmayan yol
- B) I. Dur
II. Taşıt trafiğine kapalı yol
- C) I. Taşıt trafiğine kapalı yol
II. Girişi olmayan yol
- D) I. Azami hız sınırlaması
II. Bütün yasaklama ve kısıtlamaların sonu




**Motosiklet hariç
motorlu taşıt
trafiğine kapalı**



**Motosiklet
giremez**

Aşağıdaki trafik işaret levhalarından hangisi trafik tanzim işaretleri grubunda yer alır?





**Bisiklet
giremez**



Mopet giremez



**Kamyon
giremez**



**Otobüs
giremez**

Şekildeki trafik işareti aşağıdakilerden hangisini bildirir?



- A) Kamyon garajını
- B) Kamyonun giremeyeceğini
- C) Kamyon için geçme yasağının sona erdiğini
- D) Kamyon için azami hız sınırlaması olduğunu





Yaya giremez



**At arabası
giremez**



**Traktör
giremez**



**Belirli miktarlardan
fazla patlayıcı ve
parlayıcı madde
taşıyan taşıt giremez**



**Motorlu taşıt
giremez**



Taşıt giremez

Şekildeki Trafik İşaretinin Anlamı Nedir?



- A) Yaya giremez
- B) Bisiklet giremez
- C) At arabası giremez
- D) Motorlu taşıt giremez.



**Geniřliđi ... m'den
fazla olan tařıt
giremez**




**Yükseklđi... m'den
fazla olan tařıt
giremez**

Aşağıdaki Trafik İşaretlerinden Hangisi Genişlik Anlamında Gabari Sınırlamasının Olduğunu Bildirir?





**Uzunluđu... m'den
fazla olan taşıt
giremez**



**Dingil başına ...
Tondan fazla yük
düşen taşıt
giremez**

Şekildeki trafik işaretinin anlamı nedir?



- A) Yüklü ağırlığı 6 tondan fazla olan taşıt giremez.**
- B) Dingil başına 6 tondan fazla yük düşen taşıt giremez**
- C) 6 tondan fazla su kirletici madde taşıyan taşıt giremez.**
- D) 6 tondan fazla patlayıcı ve parlayıcı madde taşıyan taşıt giremez.**





**Yüklü ağırlığı ...
Tondan fazla yük
düşen taşıt
giremez**



**Öndeki taşıt... M'den
daha yakın
takip edilemez**

Şekildeki trafik işareti aşağıdakilerden hangisini bildirir?



- A) 70 metreden sonra yolun daralacağını**
- B) 70 metreden sonra park alanı olduğunu**
- C) Saatteki hızın 70 kilometreyi geçmeyeceğini**
- D) Takip mesafesinin 70 metreden az olmayacağını**





**Saęa
dönülmez**



**Sola
dönülmez**

Şekildeki trafik işaretinin anlamı nedir?



- A) Sola dönülmez**
- B) Sağa dönülmez**
- C) Sola zorunlu yön**
- D) Sağa zorunlu yön**



TRAFİK İŞARET LEVHALARI

Tehlike Uyarı İşaretleri

Yol üzerindeki tehlikeler ve özellikleri hakkında bilgi veren işaretlerdir.



(T-1a) SAĞA TEHLİKELİ VİRAJ



(T-1b) SOLA TEHLİKELİ VİRAJ



(T-2a) SAĞA TEHLİKELİ
DEVAMLI VİRAJLAR



(T-2b) SOLA TEHLİKELİ
DEVAMLI VİRAJLAR



(T-3a) TEHLİKELİ EĞİM (İniş)



(T-3b) TEHLİKELİ EĞİM (Çıkış)



(T-4a) HER İKİ TARAFTAN
DARALAN KAPLAMA



(T-4b) SAĞDAN
DARALAN KAPLAMA

TRAFİK İŞARET LEVHALARI

Tehlike Uyarı İşaretleri



(T-4c) SOLDAN
DARALAN KAPLAMA



(T-5) AÇILAN KÖPRÜ



(T-6) DENİZ VEYA NEHİR
KIYISINDA BİTEN YOL



(T-7) KASISLI YOL



(T-8) KAYGAN YOL



(T-9) GEVŞEK MALZEMELİ ZEMİN



(T-10) GEVŞEK ŞEV



(T-11) YAYA GEÇİDİ

TRAFİK İŞARET LEVHALARI

Tehlike Uyarı İşaretleri



(T-12) OKUL GEÇİDİ



(T-13) BİSİKLET GEÇEBİLİR



(T-14a) EHLİ HAYVANLAR
GEÇEBİLİR



(T-14b) VAHŞİ HAYVANLAR
GEÇEBİLİR



(T-15) YOLDA ÇALIŞMA



(T-16) IŞIKLI İŞARET CİHAZI



(T-17) HAVAALANI-HAVALİMANI
(Alçak Uçuş)



(T-18) YANDAN RÜZGAR

TEHLİKE UYARI İŞARETLERİ



(T-19) İKİ YÖNLÜ TRAFİK



(T-20) DİKKAT



(T-21) KONTROLSÜZ KAVŞAK



(T-22a) ANA YOL-TALİ YOL
KAVŞAĞI



(T-23a) SAĞDAN ANA YOLA
GİRİŞ



(T-23b) SOLDAN ANA YOLA
GİRİŞ



(T-24) DÖNEL KAVŞAK



(T-25) KONTROLLÜ
DEMİRYOLU GEÇİDİ



(T-26) KONTROLSÜZ
DEMİRYOLU GEÇİDİ



(T-27a) KONTROLSÜZ
DEMİRYOLU GEÇİDİ (Tek Hat)



(T-27b) KONTROLSÜZ
DEMİRYOLU GEÇİDİ (Çift Hat)



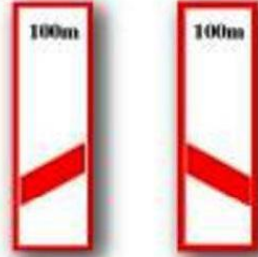
(T-28a,b) DEMİRYOLU HEMZEMİN
GEÇİT YAKLAŞIMI (Sağ, Sol)

TRAFİK İŞARET LEVHALARI

Tehlike Uyarı İşaretleri



(T-29a,b) DEMİRYOLU HEMZEMİN GEÇİT YAKLAŞIMI (Sağ, Sol)



(T-30a,b) DEMİRYOLU HEMZEMİN GEÇİT YAKLAŞIMI (Sağ, Sol)



(T-31a,b) KÖPRÜ YAKLAŞIMI (Sağ, Sol)



(T-32) ENGEL



(T-33a) TEHLİKELİ VİRAJ YÖN LEVHASI



(T-33b) TEHLİKELİ VİRAJ YÖN LEVHASI



(T-33c) TEHLİKELİ VİRAJ YÖN LEVHASI



(T-33d,e,f) TEHLİKELİ VİRAJ YÖN LEVHASI



(T-34a,b) REFÜJ BAŞI EK LEVHALARI



(T-35) DÖNÜŞ ADASI EK LEVHASI



(T-36) DÜŞÜK BANKET



(T-37) GİZLİ BUZLANMA

TRAFİK İŞARET LEVHALARI

Trafik Tanzim İşaretleri

Çeşitli yasaklama ve kısıtlamalar hakkında bilgi veren işaretlerdir



(TT-1) YOL VER



(TT-2) DUR



(TT-3) KARŞIDAN GELENE
YOL VER



(TT-4) GİRİŞİ OLMAYAN YOL



(TT-5) TAŞIT TRAFİĞİNE
KAPALI YOL



(TT-6) MOTOSİKLET HARIÇ
MOTORLU TAŞIT
TRAFİĞİNE KAPALI YOL



(TT-7) MOTOSİKLET GİREMEZ



(TT-8) BİSİKLET GİREMEZ

TRAFİK İŞARET LEVHALARI

Trafik Tanzim İşaretleri



(TT-9) MOPET GİREMEZ



(TT-10a) KAMYON GİREMEZ



(TT-10b) OTOBÜS GİREMEZ



(TT-11) TREYLER GİREMEZ



(TT-12) YAYA GİREMEZ



(TT-13) AT ARABASI GİREMEZ



(TT-14) EL ARABASI GİREMEZ



(TT-15) TRAKTÖR GİREMEZ

TRAFİK İŞARET LEVHALARI

Trafik Tanzim İşaretleri



(TT-16a) BELİRLİ MİKTARLARDAN FAZLA PATLAYICI VE PARLAYICI MADDE TAŞIYAN TAŞIT GİREMEZ



(TT-16b) TEHLİKELİ MADDE TAŞIYAN TAŞIT GİREMEZ



(TT-17) BELİRLİ MİKTARLARDAN FAZLA SU KİRLETİCİ MADDE TAŞIYAN TAŞIT GİREMEZ



(TT-18) MOTORLU TAŞIT GİREMEZ



(TT-19) TAŞIT GİREMEZ



(TT-20) GENİŞLİĞİ METREDEN FAZLA OLAN TAŞIT GİREMEZ



(TT-21) YÜKSEKLİĞİ METREDEN FAZLA OLAN TAŞIT GİREMEZ



(TT-22) UZUNLUĞU METREDEN FAZLA OLAN TAŞIT GİREMEZ

TRAFİK İŞARET LEVHALARI

Trafik Tanzim İşaretleri



(TT-23) DİNGİL BAŞINA
TONDAN FAZLA YÜK
DÜŞEN TAŞIT GİREMEZ



(TT-24) YÜKLÜ AĞIRLIĞI
TONDAN FAZLA OLAN
TAŞIT GİREMEZ



(TT-25) ÖNDEKİ TAŞIT
METREDEN DAHA
YAKIN TAKİP EDİLEMEZ



(TT-26a) SAĞA DÖNÜLMEZ



(TT-26b) SOLA DÖNÜLMEZ



(TT-26c) U DÖNÜŞÜ YAPILMAZ



(TT-27) ÖNDEKİ TAŞITI
GEÇMEK YASAKTIR



(TT-28) KAMYONLAR
İÇİN ÖNDEKİ TAŞITI
GEÇMEK YASAKTIR

TRAFİK İŞARET LEVHALARI

Trafik Tanzim İşaretleri



(TT-29) AZAMI HIZ
SINIRLAMASI



(TT-30) SESLİ İKAZ
CİHAZLARININ
KULLANIMI YASAKTIR



(TT-31) GÜMRÜK
(DURMADAN GEÇMEK YASAKTIR)



(TT-32) BÜTÜN YASAKLAMA
VE KISITLAMALARIN SONU



(TT-33) HIZ SINIRLAMASI SONU



(TT-34a) GEÇME YASAĞI SONU



(TT-34b) KAMYONLAR İÇİN
GEÇME YASAĞI SONU



(TT-35a) SAĞA MECBURİ YÖN

TRAFİK İŞARET LEVHALARI

Trafik Tanzim İşaretleri



(TT-35b) SOLA MECBURİ YÖN



(TT-35c) İLERİ MECBURİ YÖN



(TT-35d) İLERİ VE SAĞA
MECBURİ YÖN



(TT-35e) İLERİ VE SOLA
MECBURİ YÖN



(TT-35f) SAĞA VE SOLA
MECBURİ YÖN



(TT-35g) İLERİDEN SAĞA
MECBURİ YÖN



(TT-35h) İLERİDEN SOLA
MECBURİ YÖN



(TT-36a) SAĞDAN GİDİNİZ

TRAFİK İŞARET LEVHALARI

Trafik Tanzim İşaretleri



(TT-41a) MECBURİ
ASGARİ HIZ



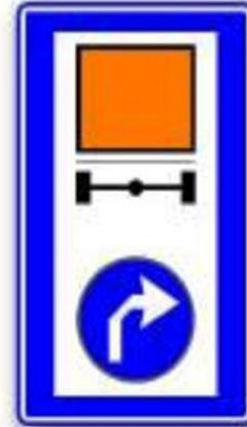
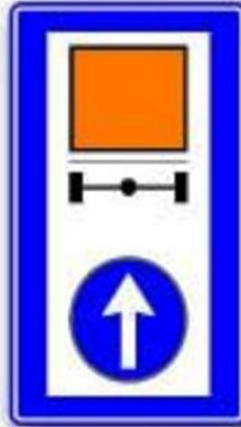
(TT-41b) MECBURİ
ASGARİ HIZ SONU



(TT-42a) ZİNCİR TAKMAK
MECBURİDİR



(TT-42b) ZİNCİR TAKMA
MECBURİYETİ SONU



(TT-43a, b, c)

TEHLİKELİ MADDE TAŞIYAN TAŞITLARIN İÇİN MECBURİ YÖN

1. Kara yollarında can ve mal güvenliđi yönünden; trafik düzeninin sağlanması ve alınacak önlemlerin belirlenmesi amacıyla çıkarılan kanun aşağıdakilerden hangisidir?

A) Medeni Kanun

B) Türk Ceza Kanunu

C) Karayolları Trafik Kanunu

D) 2872 Sayılı Çevre Kanunu

2. Yayıların ve araç kullananların diđer yaya ve araç kullananlara göre, yolu kullanma sırasındaki öncelik hakkına ne denir?

- A) Geçiş hakkı
- B) Bağlantı yolu
- C) Geçiş üstünlüğü
- D) Hemzemin geçit

3. Taşıtların bir dizi hâlinde güvenli seyredibilmeleri için taşıt yolunun çizgilerle ayrılmış bölümüne ne denir?

A) Bölünmüş yol

B) İki yönlü yol

C) Banket

D) Şerit

4. Bir aracın güvenle taşıyabileceđi, en çok yük ađırlıđına veya yolcu ve hizmetli sayısına ne denir?

- A) Azami toplam ađırlık
- B) Taşıma sınırı (Kapasite)
- C) Yüklü ađırlık
- D) Gabari

5. Işıklı trafik işaret cihazında, hangisinin yanması yolun trafiğe kapanmak üzere olduğunu bildirir?

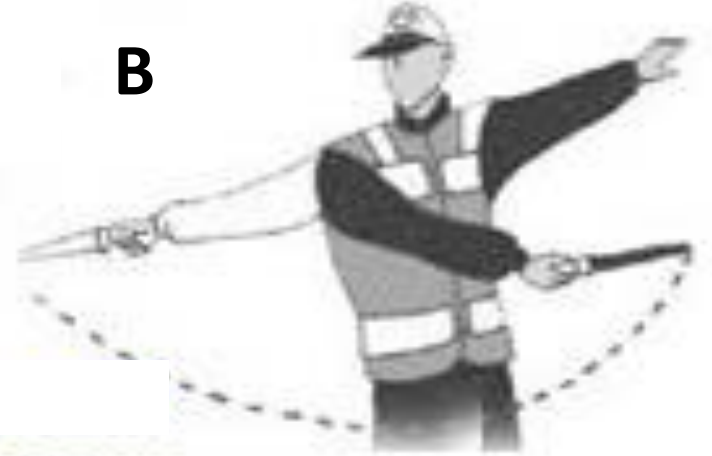
- A) Aralıklı yanıp sönen sarı ışık
- B) Aralıklı yanıp sönen kırmızı ışık
- C) Yeşil ışıktan sonra yanan sarı ışık
- D) Kırmızı ışıkla birlikte yanan sarı ışık

6. Aşağıdakilerden hangisi trafik görevlisinin geceleyin “dur işareti” talimatıdır?

A



B



C



D)



7. Şekildeki trafik işareti hangi yol bölümüne konulur?



A) Virajlı
C) Kaygan

B) Kasisli
D) Eğimli

8. Şekildeki trafik işareti sürücüye neyi bildirir?



- A) Yolda kar mücadelesinin yapıldığını
- B) Yolda yapım, bakım veya onarım olduğunu
- C) Çalışma sebebiyle yolun trafiğe kapatıldığını
- D) Yolda kayma, çökme veya heyelan olduğunu

9. Şekildeki trafik işaretini gören sürücü aşağıdakilerden hangisini yapmalıdır?



- A) Hızını artırmalıdır.
- B) Park lambalarını yakmalıdır.
- C) Takip mesafesini azaltmalıdır.
- D) Yavaşlayıp, varsa geçme yasağına uymalıdır.

10. Şekildeki trafik işareti ni gören sürücü ne yapmalıdır?



- A) Yolun kayganlığını kontrol etmelidir.
- B) Hızını azaltmalıdır.
- C) Geriye dönmelidir.
- D) Hızını artırmalıdır.

11. Aşağıdakilerden hangisi yandan rüzgâr işaretidir?

A)



B)



C)



D)



12. Şekildeki trafik işareti sürücüye neyi bildirir?



- A) Takip mesafesinin 70 metreden az olmayacağını
- B) 70 metreden sonra park alanı olduğunu
- C) 70 metreden sonra yolun daralacağını
- D) Hızın 70 kilometreyi geçmeyeceğini

13. Şekildeki trafik işareti sürücüye neyi bildirir?



- A) Park yasağını
- B) Geçme yasağı sonunu
- C) Hız sınırlaması sonunu
- D) Öndeki taşıtı geçmenin yasak olduğunu

14. Aşağıdakilerden hangisi azami hız sınırlaması anlamındadır?

A)



B)



C)



D)



15. Aşağıdakilerden hangisi taşıt giremez işaretidir?

A)



B)



C)



D)



16. Aşağıdakilerden hangisi, öndeki taşıtı geçmek yasaktır anlamındadır?

A)



B)



C)



D)



17. Koşulların uygun olması hâlinde sürücü kesik yol çizgileri boyunca aşağıdakilerden hangisini yapabilir?

- A) Diğer şeride geçemez.
- B) Önündeki aracı geçebilir.
- C) Takip mesafesini azaltabilir.
- D) Sol şeritte sürekli seyredebilir.

18. Taşıt yolundaki işaretlerden hangisi şeridin ileri seyir ve sola dönüş için olduğunu bildirir?

A)



B)



C)



D)



19. Suçun işlendiği tarihten itibaren geriye doğru 5 yıl içinde; 0,50 promilin üzerinde alkollü olduğu ikinci defa tespit edilen sürücünün, sürücü belgesi ne kadar süre ile geri alınır?

A) 30 gün

B) 3 ay

C) 6 ay


D) 2 yıl

20. Bir sürücünün, aşağıda verilen hangi aracı 24 saat süre içinde; toplam olarak 9 saatten ve devamlı olarak 4,5 saatten fazla sürmesi yasaktır?

A)



B)



C)



D)



21.



Şekildeki araç sürücüsü, iki yönlü dört veya daha fazla şeritli yollarda;

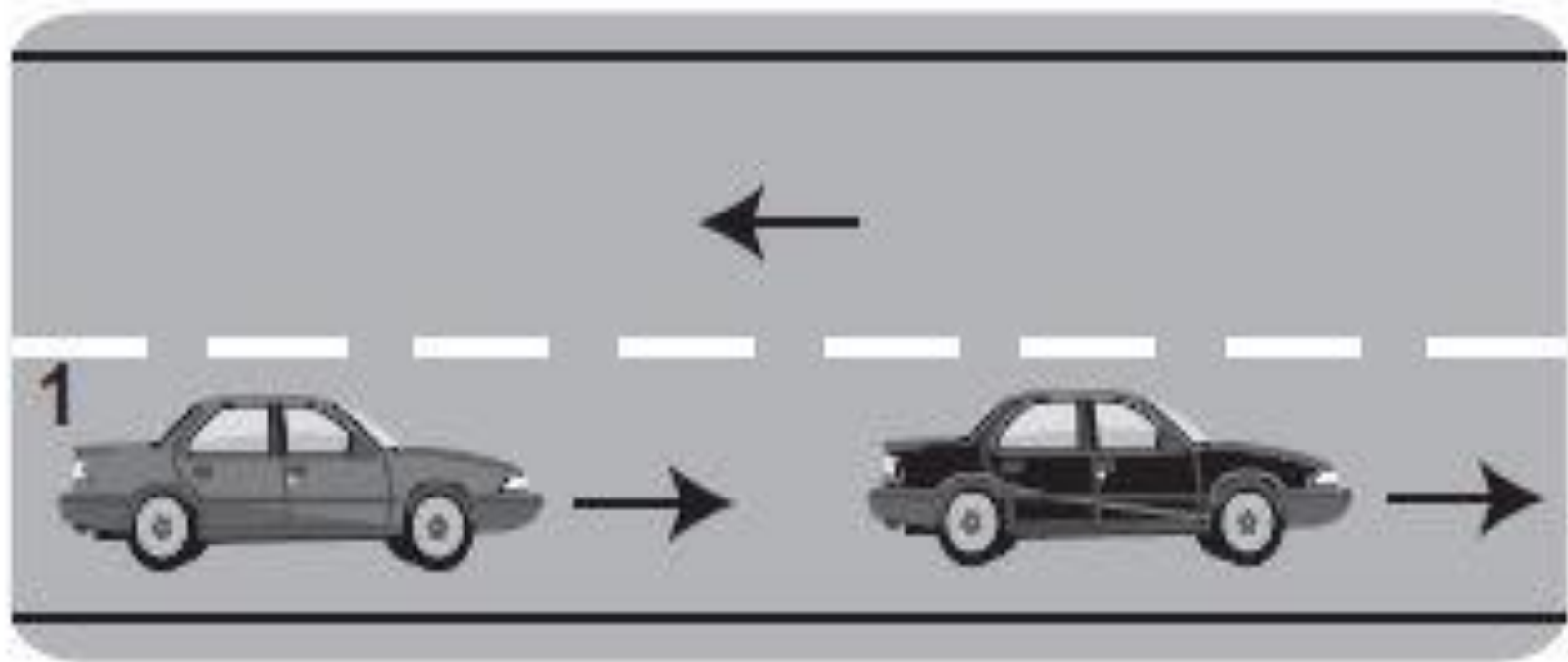
- Aksine bir işaret yoksa,
- Geçme ve dönme dışında,

aşağıdakilerden hangisinden seyretmek zorundadır?

- A) Banketten
C) En sağ şeritten

- B) Orta şeritten
D) En sol şeritten

23.



Şekildeki 1 numaralı araç 80 km/h hızla sey-
rederken önündeki araca en fazla kaç metre
yaklaşabilir?

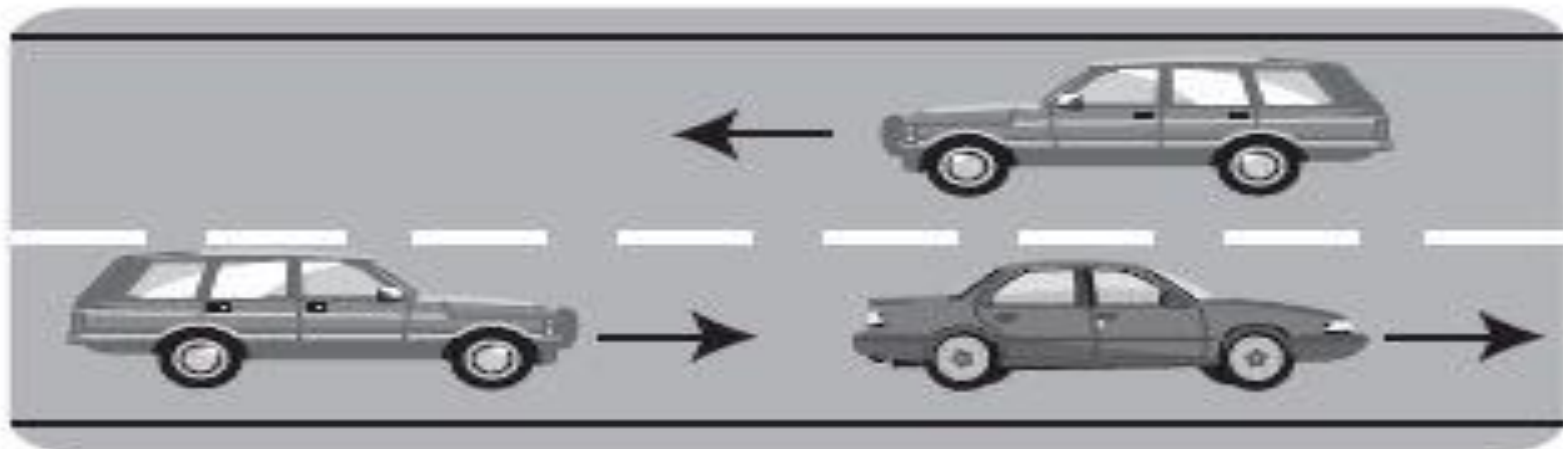
A) 10

B) 20

C) 30

D) 40

24.



Şekildeki durumda, öndeki aracı geçmek isteyen sürücünün aşağıdakilerden hangisini yapması doğrudur?

- I- Önündeki araç ile takip mesafesini azaltması
- II- Geçiş yapacağı şerit boş olduğunda sola dönüş lambasıyla işaret vermesi
- III- Geçiş yapacağı araç sürücüsünü korna veya selektör yaparak uyarması

A) Yalnız I
C) II - III

B) I - II
D) I - II - III

25. Geçilmekte olan araç sürücüsü aşağıdakilerden hangisini yapmalıdır?

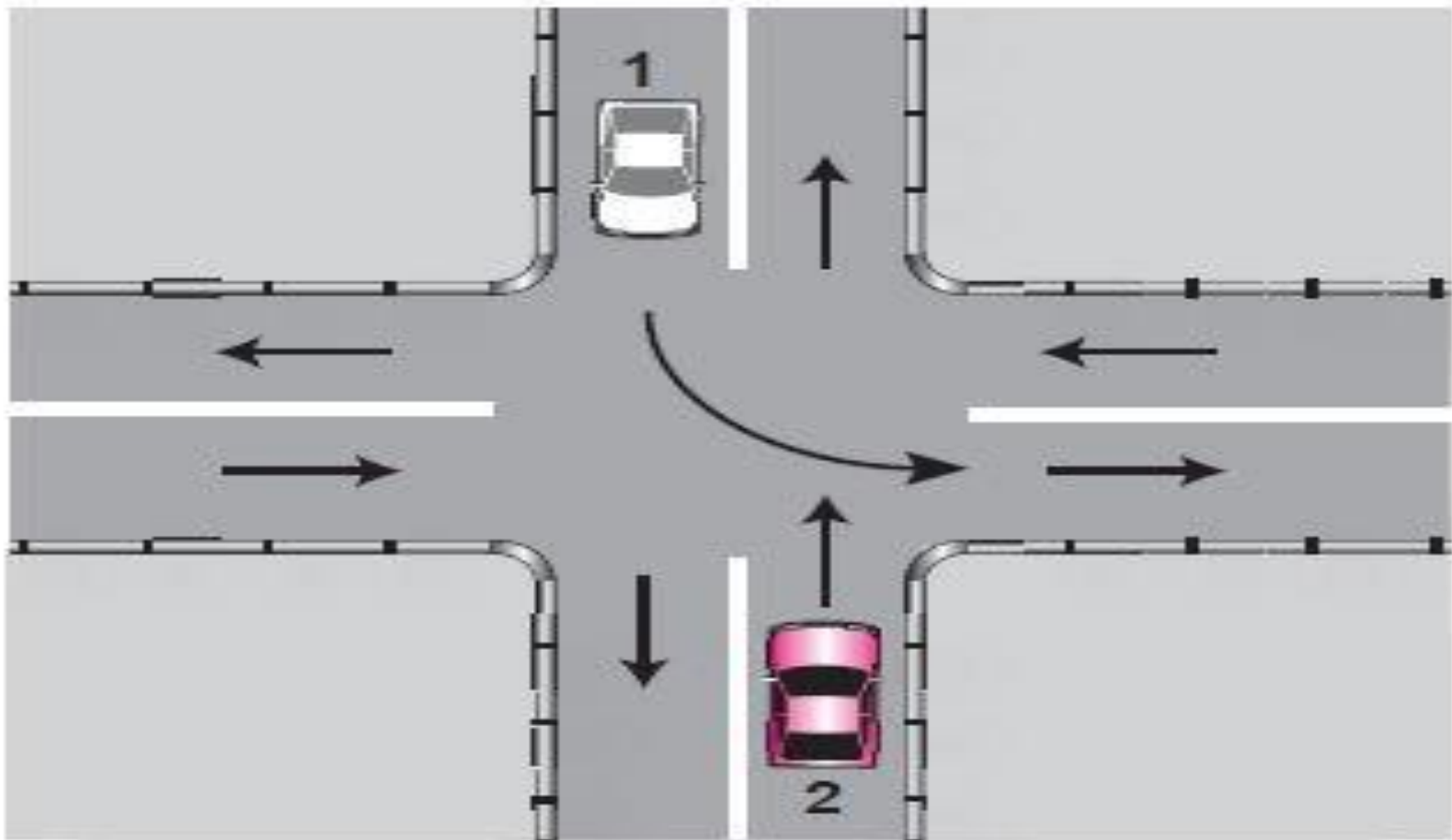
A) Hızını arttırmalıdır.

B) Bulunduğu şeridi izlemelidir.

C) Önündeki aracı geçmeye çalışmalıdır.

D) Dönüş lambalarıyla geç işareti vermelidir.

26.



Şekle göre, 1 numaralı araç sürücüsü ne yapmalıdır?

- A) 2 numaralı araca yol vermelidir.
- B) Hızını artırarak dönüşünü yapmalıdır.
- C) 2 numaralı aracın durmasını beklemelidir.
- D) 2 numaralı aracı ikaz ederek durdurmalıdır.

29. Sürücüler, yolcu indirip bindirirken aşağıdaki kurallardan hangisine uymak zorundadırlar?

- A) Yolcuları aracın solundan indirip bindirmeye
- B) Yolcuları aracın sağından indirip bindirmeye
- C) Kapıların kapanmasını beklemeden hareket etmeye
- D) Yol ve trafik müsait ise aracın her iki tarafından yolcu indirip bindirmeye

30. Karşıdan gelen araçla karşılaşıldığında uzağı gösteren ışıkların yerine hangisi yakılmalıdır?

- A) Yakını gösteren ışıklar
- B) Acil uyarı ışıkları
- C) Dönüş ışıkları
- D) Park ışıkları

33. Aşağıdakilerden hangisi sürücüler için trafik suçudur?

- A) Seyir hâlinde iken telefonla konuşmak
- B) Gidişe ayrılan sağdaki şeritte seyretmek
- C) Öndeki aracı güvenli mesafeden izlemek
- D) Yaya ve okul geçitlerinde aracını yavaşlatmak

34. Okul taşıtlarının arkasındaki “DUR” işareti-
nin yanması neyi bildirir?

- A) Taşıtın geri manevra yaptığını
- B) Taşıtın okula yaklaşmış olduğunu
- C) Taşıttan öğrencilerin indirilip bindirildiğini
- D) Taşıtın öğrencileri almak üzere beklemekte olduğunu

35. Hemzemin geitte aŐađıdakilerden hangisinin yapılması yasaktır?

- A) Hızın azaltılması
- B) Öndeki aracın geçilmesi
- C) Bariyer kapalı ise durulması
- D) Bariyer açık ise dikkatli geçilmesi

47. Takograf cihazının kullanılmasındaki başlıca amaç nedir?

- A) Sürücünün kat ettiği kilometreyi ve tükettiği akaryakıtı tespit etmektir.
- B) Sürücünün çalışma ve dinlenme süreleriyle yaptığı hızı tespit etmektir.
- C) Sürücünün çalıştığı günleri ve hak ettiği ücreti tespit etmektir.
- D) Sürücünün taşıdığı yük miktarını ve aldığı parayı tespit etmektir.

13. Aşağıdakilerden hangisi geçiş üstünlüğüne sahiptir?


A) Tarım araçları

B) Toplu taşıma araçları

C) Öğrenci taşıyan araçlar

D) Yaralı ve acil hasta taşıyan araçlar


14. Akaryakıt istasyonundan yola çıkmak isteyen şekildeki 2 numaralı araç sürücüsü ne yapmalıdır?



- A) Selektör yaparak 1 numaralı aracı durdurmalıdır.
- B) Korna çalıp 1 numaralı aracı yavaşlatmalıdır.
- C) 1 numaralı aracın geçmesini beklemelidir.
- D) Geçiş hakkını kendi kullanmalıdır.

31. Aşağıdakilerden hangisi tehlikeli viraj yön levhasıdır?


A)



B)



C)



D)



37. Işıklı trafik işaret cihazında aşağıdakilerden hangisinin yanması, duran taşıtların harekete hazırlanması gerektiğini bildirir?

A) Yeşil ışık

B) Kırmızı ışık

C) Yeşil ışıktan sonra yanan sarı ışık

D) Kırmızı ışık ile birlikte yanan sarı ışık